



## 教材过关卷(4)

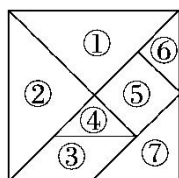
### 一、连一连。(12 分)





上面一排的这些物体能绘出下面一排的哪个图形？用线连起来。

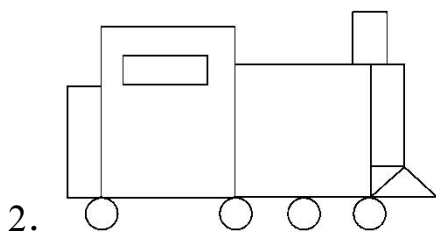






### 二、找一找，填一填。(1 题 14 分，2 题 12 分，共 26 分)

1.



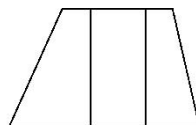
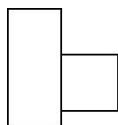
如图，七巧板中①号图和②号图都是 ，还有( )号、( )号图和( )号图也都是 ；( )号图是 ；( )号图是 ；用( )号图和( )号图可以拼成一个正方形。



 有( )个， 有( )个， 有( )个， 有( )个。

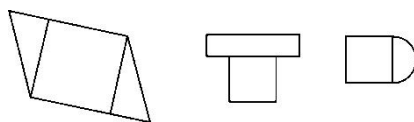
### 三、涂一涂。(1 题 24 分，2 题 18 分，共 42 分)

1. (1)给长方形涂上颜色。

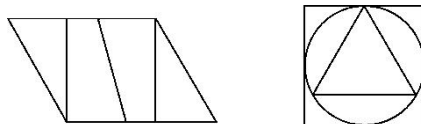


(2)给正方形涂上颜色。

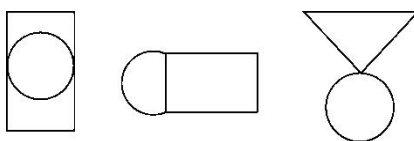




(3)给三角形涂上颜色。

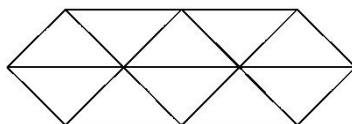


(4)给圆涂上颜色。

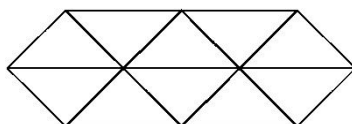


2. 仔细观察，再涂色。

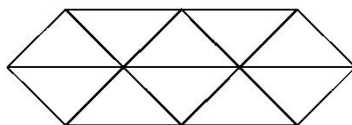
(1)找出图中的□，把其中的一个涂上色。



(2)找出图中最大的△，把其中的一个涂上色。




(3)找出图中最大的▭，把其中的一个涂上色。



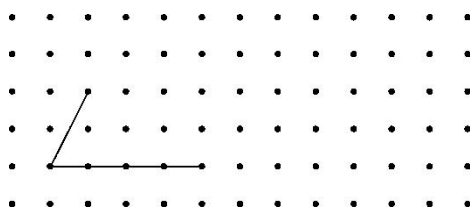
四、画一画。(1 题 16 分，2 题 4 分，共 20 分)

1. 想一想，接着画下去。(每条横线上只画一个图形)





2. 在点子图上把没画好的平行四边形补充完整。



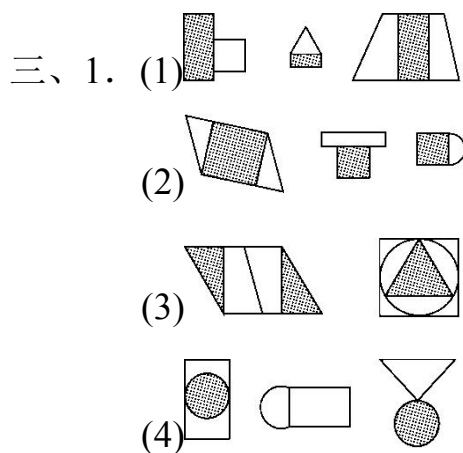


## 答案

一、略

二、1. ④ ⑥ ⑦ ⑤ ③ ① ②(或④ ⑥)

2. 5 1 2 4

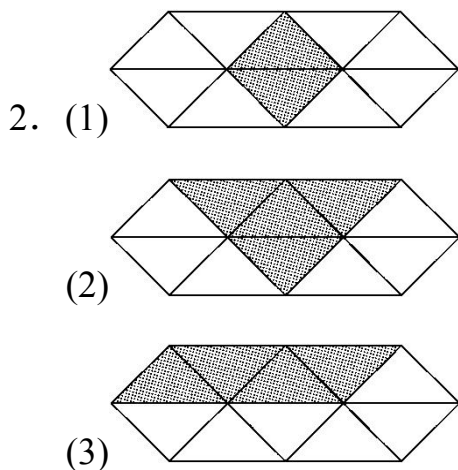


点拨：(1)每幅图各有 1 个长方形。

(2)每幅图各有 1 个正方形。

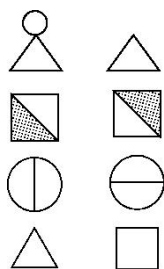
(3)左图有 2 个三角形，右图有 1 个三角形。

(4)左图有 1 个圆，中图没有圆，右图有 1 个圆。



点拨：涂色不唯一。





四、1.

2. 略

