
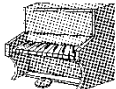






### 第一单元过关检测卷

一、填一填。(每空 2 分, 共 28 分)

1. 下面是星星小学二(1)班同学喜欢的乐器情况。(每人只选一种乐器)

乐器 种类				
人数	正正一	正正	正正正	正一

(1) 二(1)班同学喜欢小提琴的有( )人, 喜欢钢琴的有( )人。

(2) 喜欢葫芦丝的人数比喜欢二胡的多( )人。

(3) 二(1)班一共有( )人, 如果班主任想选一种乐器作为本班的特色, 选( )最合适。

2. 下面是二(2)班同学一星期阅读课外读物的册数情况。

《少儿文艺》	《脑筋急转弯》	《童话故事》	《漫画》
☆☆	△△△	○○	√√
☆☆	△△△	○○	√√
☆	△△△	○○	√√
☆		○○	√√
		○	

(1) 把上面的统计结果填入下表。

课外读物	《少儿艺》	《童话故事》	《漫画》	《脑筋急转弯》
册数				

(2) 二(1)班同学最喜欢读( ), 读的《少儿文艺》比《漫画》少( )册。



(3) 全班一共读了( )册书。如果要在班上办个图书角, 应该多买( ), 少买( )。

二、选一选。(每题 2 分, 共 8 分)






下面是 2016 年 6 月份南京的天气情况。

	正正
	正正正一
	正

- 这个月共有( )天。  
A. 28                      B. 30                      C. 31
- 雨天比阴天多( )天。  
A. 6                         B. 4                         C. 12
- ( )的天数最多。  
A. 阴天                      B. 雨天                      C. 晴天
- 根据天气情况，这个月最不适合做的事情是( )。  
A. 晾晒                      B. 植树                      C. 上学


三、为了增强同学们的环保意识，红星小学二(1)班举行了收集旧电池活动。(1 题 6 分，其余每题 2 分，共 10 分)

我比张欢少收集了8节。




李明

我收集了21节。



张欢

我比李明多收集了14节。



刘丽

1. 把下表补充完整。

姓名	李明	张欢	刘丽
节数			

2. ( )收集的旧电池最多，( )收集的旧电池最少。





3. 请你根据上面的统计结果提出其他数学问题并解答。

四、下面是小明记录的本班同学最喜欢吃的蔬菜情况。(1 题 8 分，2 题 2 分，共 10 分)

西红柿	正正正正正T
辣椒	正
茄子	正F
白菜	正正

1. 把记录的结果填在下表中。

蔬菜	西红柿	辣椒	茄子	白菜
人数				

2. 小红因为生病没有参加这次统计，如果她也参加了这次统计，同学们最喜欢吃的蔬菜会发生改变吗？

五、下面是同学们在十字路口 5 分钟内记录的通过的汽车的种类和辆数。(1 题 4 分，2、5 题每题 3 分，其余每题 2 分，共 14 分)

种类	小轿车	出租车	公交车	货车
辆数	正正正	正	T	F





1. 把上面的统计结果填入下表。

种类	小轿车	出租车	公交车	货车
辆数				

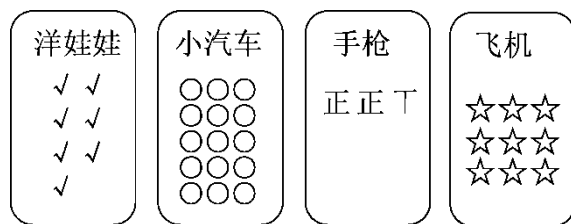
2. 通过的( )最多, ( )最少, 它们相差( )辆。

3. 出租车比货车多( )辆。

4. 如果再通过 1 辆车, 最有可能是( )。

5. 你还能提一个数学问题并解答吗?

六、下面是二(2)班同学最喜欢的玩具统计情况。(1 题 4 分, 3 题 6 分, 其余每题 2 分, 共 14 分)【导学号 78542001】



1. 把上面的统计结果填入下表。

玩具	洋娃娃	小汽车	手枪	飞机
人数				

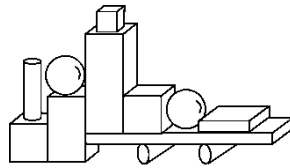
2. 二(2)班同学最喜欢( )的人数最多, 最喜欢( )的人数最少。










3. 你最喜欢的玩具是(     ), 二(2)班喜欢这种玩具的有(     )人,  
 这个班一共有(     )人。
4. 如果你是商店老板, 应多购进什么玩具? 为什么?

七、我会数, 我会填。(1 题 8 分, 其余每题 4 分, 共 16 分)



1. 完成下表。

			
(    )个	(    )个	(    )个	(    )个

2. 比多(    )个, 比少(    )个。

3. 你还能提出其他数学问题并解答吗?





### 答案

一、1. (1)11 9 (2)9 (3)41 葫芦丝

2. (1)6 11 8 9

(2)《童话故事》 2

(3)34 《童话故事》 《少儿文艺》

二、1. B 2. C 3. B 4. A

三、1. 13 21 27

2. 刘丽 李明

3. 张欢比刘丽少收集几节旧电池?

$$27-21=6(\text{节})$$

点拨: 答案不唯一, 只要问题合理, 解答正确即可。

四、1. 27 4 8 11

2. 同学们最喜欢吃的蔬菜不会发生改变。

五、1.

种类	小轿车	出租车	公交车	货车
辆数	15	5	2	3

2. 小轿车 公交车 13

3. 2

4. 小轿车

5. 略, 答案不唯一。

六、1. 7 15 12 9

2. 小汽车 洋娃娃





3. 小汽车 15 43

点拨：前两空答案不唯一。

4. 小汽车。因为最喜欢小汽车的同学多，所以应多购进小汽车。

七、1. 3 4 3 2

2. 1 1

3. 略，答案不唯一。

