



周测培优卷 10

一、后面一个是什么？圈一圈。(每题 3 分，共 12 分)

1. _____ ()
2. _____ ()
3. _____ ()
4. _____ ()

二、我会涂。(共 15 分)

1. 按规律接着涂。(每题 3 分，共 9 分)

- (1) _____
- (2) _____
- (3) _____

2. 我会有规律地涂色。(每题 3 分，共 6 分)

- (1) _____
- (2) _____

三、找规律画一画，填一填。(每空 2 分，共 22 分)

1. _____
3 2 3 2
2. _____
1 2 _____ _____
3. _____
2 4 6 _____



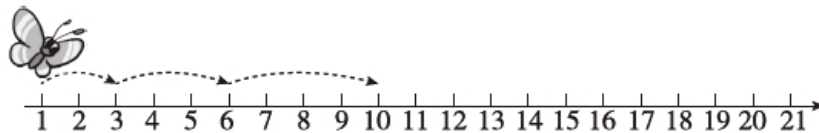


四、划去不符合规律的图形或文字，并改正在横线上。(每题 3 分，共 12 分)

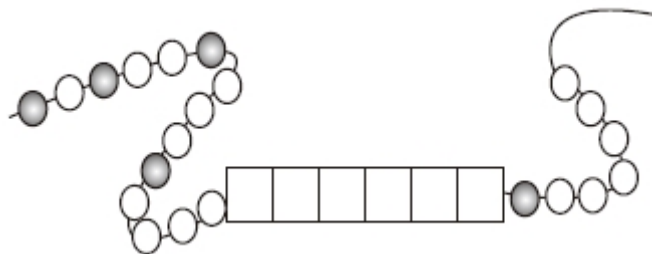
- △ ○ △ ○ △ □ △ _____
-          _____
- 找规律 学规律 找规律 _____
- 4 8 12 16 20 23 28 _____

五、找出规律，解决问题。(每题 13 分，共 39 分)

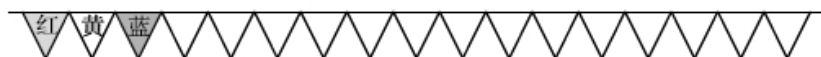
1. 蝴蝶会飞到哪些地方？请你用线画出来。



2. 方格里应该有几颗白珠子，几颗黑珠子？把它们画出来。



3. 小明布置教室，按红、黄、蓝的顺序挂彩旗。



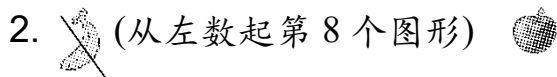
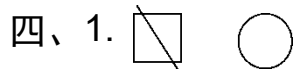
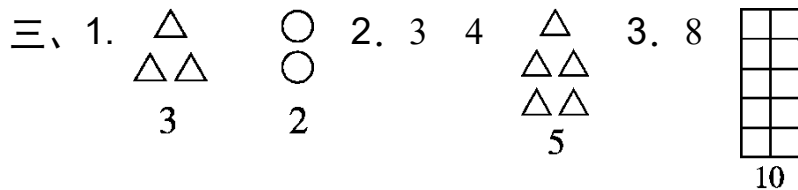
第17面彩旗是()色的。在这串彩旗中，有()面是红色的，有()面是蓝色的。

答案



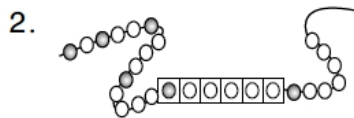



(涂色不唯一)



3. 找规律

4. ~~23~~ 24



3. 黄 6 5

[点拨] $17 - 3 - 3 - 3 - 3 - 3 = 2$ (面), 余下的 2 面分别是一面红旗和一面黄旗。因此, 红旗有 $5 + 1 = 6$ (面)。

