

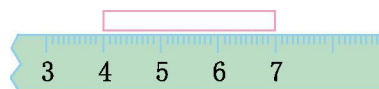
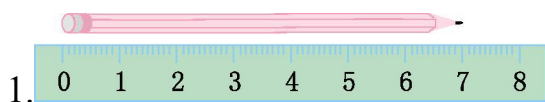


苏教版二年级上学期期末检测卷

班级: 姓名: 满分: 100 分 考试时间: 90 分钟

题序	第一题	第二题	第三题	第四题	第五题	第六题	第七题	第八题	总分
得分									

一、填一填。(12分)



这支铅笔长()厘米。

这张纸条长()厘米。

2. 把 12 个梨平均分给 3 个小朋友, 每个小朋友分()个; 每个小朋友分 4 个, 能分给()个小朋友。

3. 4 个 9 相加是(); 5 个 6 相加是()。

4. 补充口诀: 六()五十四, 根据这个口诀写出一道乘法算式和一道除法算式:()和()。

5. 1 米 - 45 厘米 = () 厘米 86 米 - 40 米 = () 米

6. 张华有 4 支铅笔, 李娜有 6 支铅笔。李娜给张华()支铅笔, 他们两人的铅笔支数就同样多了。

二、算一算。(26分)

1. 直接写出得数。(8分)

$2 \times 4 =$

$6 \times 3 =$

$4 \times 4 =$

$5 \times 2 =$

$6 \times 6 =$

$3 \times 4 =$

$5 \times 1 =$

$4 \times 6 =$





2.列竖式计算。(12分)

$36+27+32=$ $70-29-24=$ $95-57+30=$

$49+8+13=$ $90-29-37=$ $33-15+43=$

3.计算下面各题。(6分)

$56\div 7\times 9$ $16\div 4\times 9$ $63\div 7\times 8$

三、在○里填上“>”“<”或“=”。(6分)

$24\div 6$ ○ 18 $18\div 6$ ○ 2 $12\div 3$ ○ 3

7×9 ○ 3×9 2×9 ○ 6×3 6×9 ○ 8×7

四、()里最大能填几?(8分)

() $\times 8 < 65$ $6\times$ () < 40 $30 > 5\times$ () $25 > 4\times$ ()
() $\times 7 < 30$ $5\times$ () < 36 $6\times$ () < 50 $56 > 7\times$ ()

五、圈一圈、画一画。(8分)

1.按要求画一画。(6分)

(1)画○,比☆多4个。

☆☆☆☆

(2)画□,比△少4个。

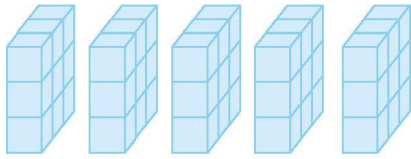
△△△△△△△





2. 在下面画一个相邻两条边分别是 4 厘米和 2 厘米的平行四边形。(2 分)

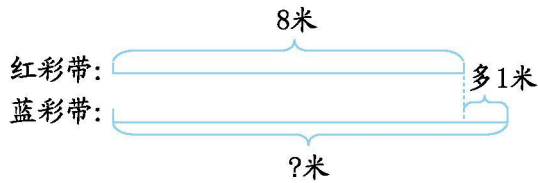
六、看图列式计算。(10 分)



1. $\square \times \square = \square$ $\square \div \square = \square$



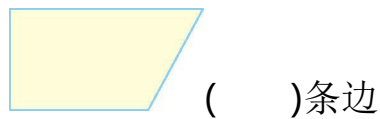
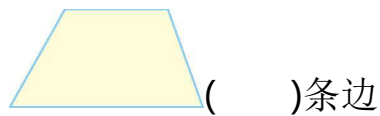
2. $\square \times \square = \square$ $\square \div \square = \square$



3. $\square + \square = \square$ (米)

七、看图填一填。(6 分)

1. 给下面的图形加一条线, 画一个平行四边形。(4 分)





2.量出线段的长度,再画一条比它长2厘米的线段。(2分)

_____ ()厘米

八、解决问题。(24分)

1.二年级45人去植树,每5人一组,可以分成几组?(6分)

2.停车场原有出租车75辆,开走19辆,又开来23辆,现在有多少辆?(6分)



3.(12分) 6元



15元



3元

(1)买5个铅笔盒和一支钢笔,共需要多少钱?

(2)你还能提出哪些数学问题?





参考答案

- 一、 1.7 3 2.4 3 3.36 30⁺
4. 九 $6 \times 9 = 54$ 或 $9 \times 6 = 54$ $54 \div 6 = 9$ 或 $54 \div 9 = 6$ ⁺
5.55 46 6.1⁺
- 二、 1.8 18 16 10 36 12 5 24⁺
2.95 17 68 70 24 61⁺
3.72 36 72 $\dots \dots$ ⁺
- 三、 < > > > = <⁺
- 四、 8 6 5 6 4 7 8 7⁺
- 五、 1. 提示:(1)画 8 个○。(2)画 3 个□。⁺
2. 略⁺
- 六、 1. $9 \times 5 = 45$ 或 $5 \times 9 = 45$ $45 \div 9 = 5$ 或 $45 \div 5 = 9$ ⁺
2. $3 \times 5 = 15$ 或 $5 \times 3 = 15$ $15 \div 3 = 5$ 或 $15 \div 5 = 3$ ⁺
3. $8 + 1 = 9$ (米)⁺
- 七、 画图略 1.4 4 2.4⁺
- 八、 1. $45 \div 5 = 9$ (组)⁺
2. $75 - 19 + 23 = 79$ (辆)⁺
3. (1) $6 \times 5 + 15 = 45$ (元)⁺
(2) 答案不唯一,如:用 24 元能买几本练习本? $24 \div 3 = 8$ (本)⁺
 $66 + 2 = 68$ (米)⁺

