



第七单元测试卷（一）

一、连一连。



$9+3$



$7+7$



$8+7$



$6+5$



$5+8$



$9+11$



$9+12$



$9+13$



$9+14$



$9+15$

二、算一算。

$8+7=$

$4+8=$

$9+8=$

$4+9=$

$9+6=$

$3+9=$

$7+4=$

$6+7=$

$7+8=$

$2+9=$

$7+9=$

$6+8=$

$5+6=$

$9+9=$

$5+7=$

三、填一填。

1. 乐乐有 8 个 ，再画（ ）个 ，一共有 13 个 。

2. 明明画了 7 个 ，亮亮画的和他的一样多，他俩一共画了（ ）个 。

3. 鸡和兔一共有 15 只，它们可能分别有多少只？

	7 只	() 只	() 只	5 只
	() 只	9 只	8 只	() 只

四、在（ ）里填上合适的数。

$6+()=13$

$7+()=5+6$

$6+9=()+7$

$8+()=14$

$7+7=5+()$

$8+()=10+7$

五、比一比，填一填。

$9+5 \bigcirc 15$

$6+8 \bigcirc 7+8$

$9+5 \bigcirc 5+9$

$12 \bigcirc 7+6$

$3+8 \bigcirc 7+5$

$12+7 \bigcirc 9+9$

$14 \bigcirc 3+9$

$12+3 \bigcirc 8+9$

$4+7 \bigcirc 3+8$

六、在得数大于 13 的算式后面画“”，小于 13 的画“ ”。

$4+8 \square$

$7+5 \square$

$8+6 \square$

$9+2 \square$

$7+8 \square$

$9+7 \square$

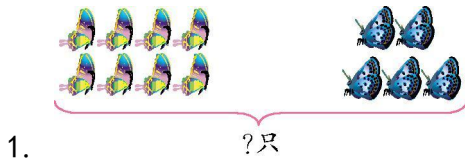
$3+8 \square$

$7+7 \square$






七、看图列式计算。



1. $\square \bigcirc \square = \square$ (只)




2. $\square \bigcirc \square = \square$ (个)

八、算一算，填一填。

大班有	8架	9辆	8只
小班有	6架	7辆	5只
一共有	()架	()辆	()只

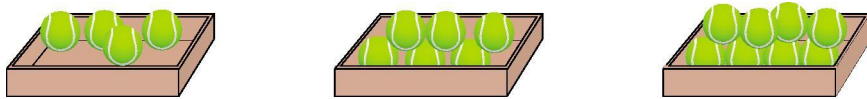
九、解决问题。

1. 一共有多少只小鸟?



$\square \bigcirc \square = \square$ (只)

2. 有3盒皮球，李老师准备拿走其中的两盒。




(1) 李老师最多能拿走多少个?

$\square \bigcirc \square = \square$ (个)

(2) 最少能拿走多少个?

$\square \bigcirc \square = \square$ (个)

3. 一(1)班有17名同学获得二星级学生，班主任准备奖励他们每人一支笔，买哪两盒正好够?



$\square \bigcirc \square = \square$ (支)





参考答案

一、提示:得数分别是 12、14、15、11、13, 连线略。

二、15 12 17 13 15 12 11 13 15 11 16 14 11 18
12

三、1. 5 2. 14 3. 8 6 7 10

四、7 4 8 6 9 9

五、< < = < < > > < =

六、

七、1. $8+5=13$ 或 $5+8=13$

2. $9+6=15$ 或 $6+9=15$

八、14 16 13

九、1. $9+4=13$

2. (1) $6+8=14$ (2) $4+6=10$

3. 第二、三盒 $8+9=17$

