




第七单元测试卷 (2)

时间:60 分钟 满分:100 分 分数:_____


一、填空。(42 分)

1. 长方形有()条边,对边();正方形有()条边,每条边都相等,长方形和正方形的四个角都是()角。
2. 七巧板是由()个三角形、()个正方形和()个平行四边形组成的。
3. 五边形有()条边,()个角;六边形有()条边,()个角。
4. 写出下列图形各部分的名称。



()

()



()

()

5. 下列图形中是长方形或正方形的在括号里画“ ”,不是的画“×”。




()



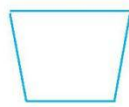
()



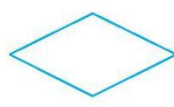
()



()




()



()


二、选择。(把正确答案的序号填在括号里)(10 分)

1. 在图中,有()个长方形。




- A. 3 B. 4 C. 5

2. 下面的图形中,图形()是正方形。



A.



B.




C.

3. 至少要用()根同样长的小棒才可以摆出一个正方形。

- A. 2 B. 4 C. 6

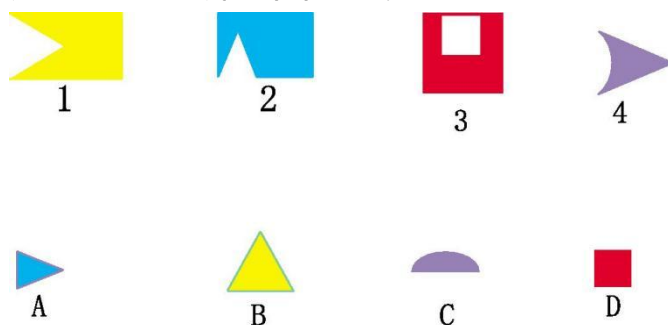
4. 用下面的()组小棒,正好可以围成一个长方形。






5. 数学课本的封面是()的。
A. 长方形 B. 正方形 C. 平行四边形


三、下面的图形是从上面的哪个图形上剪下来的?连一连。(8分)



四、你能在方格纸上画出格数相同,但形状不同的长方形吗?试一试。(10分)



五、仔细观察下面的图形,图中有多少个包含★的正方形?(8分)



六、数一数,填一填。(12分)



△有()个,□有()个,○有()个,□有()个。

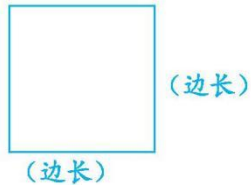
七、将一张正方形纸剪成四个大小一样的三角形纸(如下图),请用这四个三角形拼出四种不同的图形,并画出来。(10分)





参考答案

一、1. 四 相等 四 直 2. 5 1 1 3. 五 五 六 六




4.

5. × √ × √ × ×

二、1. C 2. B 3. B 4. B 5. A

三、下面的图 A 是从图 2 上剪下来的,下面的图 B 是从图 1 上剪下来的,下面的图 C 是从图 4 上剪下来的,下面的图 D 是从图 3 上剪下来的。

四、画图如下:



五、6 个

六、4 3 1 1

七、拼图如下:

