



周测培优卷 7

2~5 的乘法口诀的应用能力检测卷

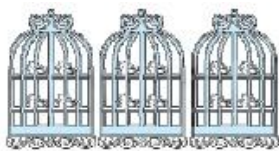
一、我会填。(每空 2 分，共 34 分)

1.



5 只青蛙 () 张嘴, () 只眼睛 () 条腿。
6 只青蛙 () 张嘴, () 只眼睛 () 条腿。

2. 每个笼子里有()只小鸟, 有()个笼子。一共有()只小鸟, 列式计算是()。



3. 1 朵梅花有 5 片花瓣, 3 朵梅花有()片花瓣, ()朵梅花有 30 片花瓣。



4. 用口诀“三六十八”写出的两道乘法算式是()和 ()。

5. 一座楼有 9 层, 每层高 3 米, 这座楼高()米。

6. 一只手有()根手指, 四双手有()根手指。

二、我会辨。(对的在括号里画“√”, 错的画“×”)(每题 2 分, 共 6 分)

1. 2 个 3 相加的和与 3 个 2 相加的和相等。 ()

2. $5 \times 3 = 15$, 读作 5 乘 3 等于 15。 ()





3. 4×3 可以用口诀四三十二计算。 ()


三、我会算。(每题 1 分, 共 12 分)

$$3 \times 7 = \quad 9 \times 2 = \quad 7 \times 5 = \quad 3 + 3 =$$


$$5 \times 4 = \quad 5 \times 3 = \quad 9 \times 3 = \quad 3 \times 4 =$$

$$6 \times 5 = \quad 4 \times 4 = \quad 9 - 3 = \quad 8 + 9 =$$

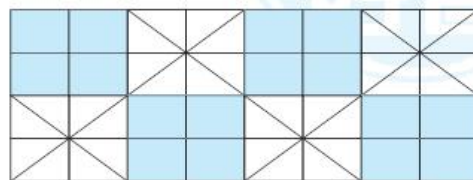
四、看图列式计算。(每题 4 分, 共 8 分)

1.  有 () 个。

$$\square \bigcirc \square = \square ()$$

2.  有 () 个。

$$\square \bigcirc \square = \square ()$$



五、我会应用。(2 题 8 分, 4 题 18 分, 其余每题 7 分, 共 40 分)

1. 兰兰家客厅的地砖, 横着看每行是 6 块, 竖着看每列是 5 块。一共铺了多少块地砖?

2. 他们一共投中多少个球?





3. 小明从第一棵树走到第5棵树，一共走了多少米？



4. 书店有3种价钱的笔记本。



(1) 买4本3元的笔记本要花多少元？

(2) 买1本5元的笔记本和3本6元的笔记本，一共要花多少元？

(3) 你还能提出其他数学问题并解答吗？





答案

一、1.5 10 20 6 12 24

2. 4 3 12 $3 \times 4 = 12$ (只)或 $4 \times 3 = 12$ (只)

3. 15 6

4. $3 \times 6 = 18$ $6 \times 3 = 18$

5. 27

6. 5 40

二、1.√ 2.√ 3.×

三、21 18 35 6 20 15 27 12 30 16 6 17

四、1.16 $4 \times 4 = 16$ (个)

2. 32 $8 \times 4 = 32$ (个)

五、 $1.5 \times 6 = 30$ (块)或 $6 \times 5 = 30$ (块)

答：一共铺了 30 块地砖。

2. $3 \times 6 = 18$ (个)或 $6 \times 3 = 18$ (个)

$18 + 2 = 20$ (个)

答：他们一共投中 20 个球。

3. $5 \times 4 = 20$ (米)或 $4 \times 5 = 20$ (米)

答：一共走了 20 米。

4. (1) $4 \times 3 = 12$ (元)

或 $3 \times 4 = 12$ (元)

答：买 4 本 3 元的笔记本要花 12 元。

(2) $3 \times 6 = 18$ (元)





或 $6 \times 3 = 18$ (元)

$18 + 5 = 23$ (元)

答：一共要花 23 元。

(3)(答案不唯一)买 6 本 5 元的笔记本要花多少元？

$6 \times 5 = 30$ (元)或 $5 \times 6 = 30$ (元)

答：买 6 本 5 元的笔记本要花 30 元。

