



第七单元过关检测卷

一、细心填一填。(每空 1 分，共 25 分)

1. 先找出前几个数的规律，再接着填数。

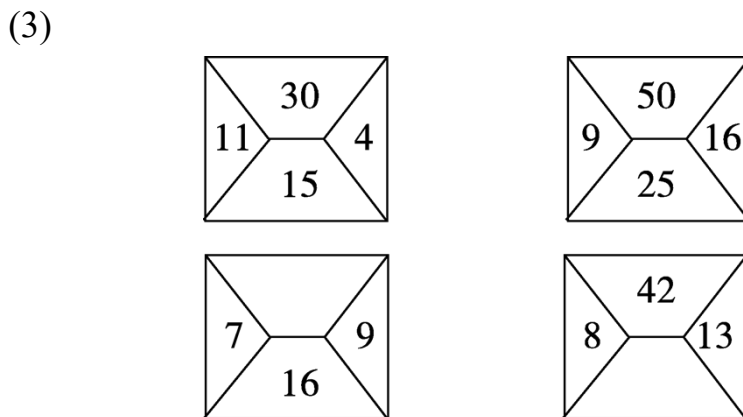
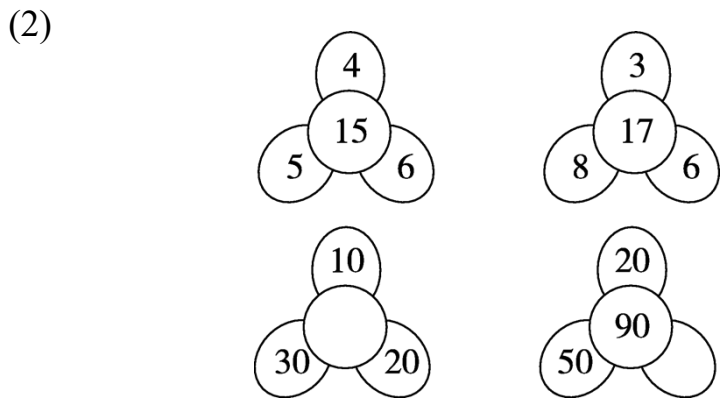
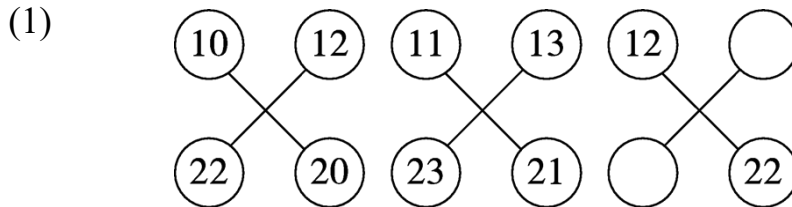
(1) 1、3、5、7、()、()；

(2) 5、10、15、20、()、()；

(3) 0、4、8、12、()、()；

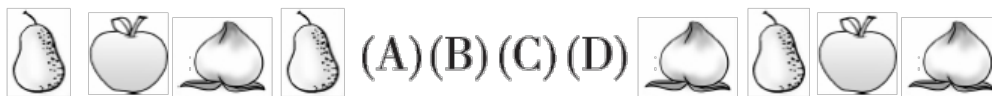
(4) 10、11、12、13、()、()。

2. 找规律，填出空缺的数。





3. 找规律，(A)、(B)、(C)、(D)分别是什么水果？



(A)表示()

(B)表示()

(C)表示()

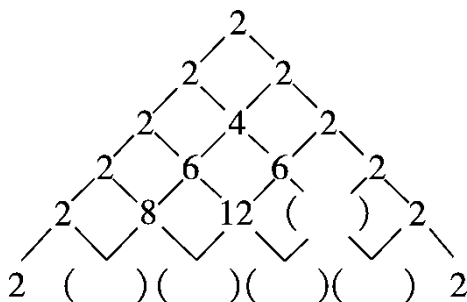
(D)表示()

4.




找规律，被遮住的是()色的珠子，有()颗。

5. 有趣的数字金字塔。



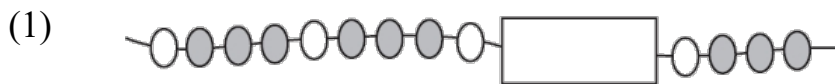
二、找规律，将方框里合适的图形圈起来。(8分)






三、动手画一画。(1 题 6 分，2, 3 题每题 3 分，4 题 12 分，共 24 分)

1. 画出缺少的珠子。



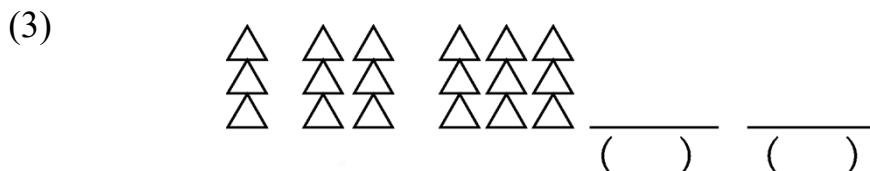
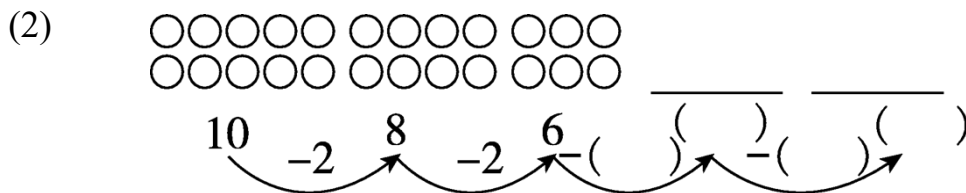
2. 按规律给最后一个钟面画上指针。



3. 蝴蝶会飞到哪些地方？请你用线画出来。



4. 找规律，画一画，填一填。





四、火眼金睛。(划掉不符合规律的图形，换上正确的)(9分)

1. _____

2. _____

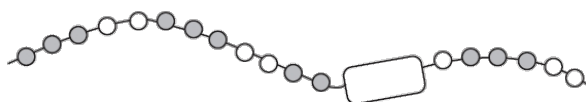
3. _____

五、哪一行与其他三行不同？请找出来，在()里画☺。(4分)

2	4	6	8	()
5	6	7	8	()
1	3	5	7	()
3	5	7	9	()

六、按要求解决问题。(2题4分，6题8分，1, 3, 4, 5题每空2分，共30分)

1.



盒子里至少有()颗珠子，其中白珠子()颗，黑珠子()颗。



2. 根据百数表，填出空格里的数。

	35	
	45	

	47	
		58

	66	
	76	

3.



按此规律排下去，第20个球是()球。







4. 鸡妈妈们带小鸡们去参加晚会。



第13只鸡是()鸡，这13只鸡中一共有()只母鸡，有()只小鸡。



5. 小丽穿的花环不小心掉了4朵花。



她掉了()朵，()朵。

6. 下图的方格中每行、每列都有“爱读书”这三个字，并且每行、每列的字都不一样，请把方格补充完整。

爱		
	爱	
		爱





答案

一、1. (1)9 11 (2)25 30 (3)16 20 (4)14 15


2. (1)14 24 (2)60 20 (3)32 21

3. 苹果 桃子 梨 苹果

4. 白 3

5. 8 10 20 20 10

二、圈第1朵花 圈云 圈鸭子 圈月亮

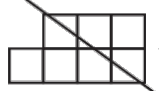

三、1. (1)  (2)  (3) 

2. 时针指9 分针指12

3. 略

4. 略

四、1.  换 

2.  换 

3.  换 

五、() () () ()

六、1. 2 1 1

2. 44 54 36 87

3. 足

4. 母 4 9

5. 2 2

6.

爱	读	书
书	爱	读





(填法不唯一)

