



第6单元跟踪检测卷

一、填一填。(1题4分，其余每空1分，共16分)

1. $46 + 30$ $52 - 6$

2. 在 $60 - (13 - 7)$ 中，先算()，再算()。

3. 在 $54 - 8 + 30$ 中，先算()，再算()。

4. 车上有 25 个座位，已经坐了 10 人，还空着()个座位。

5. 六一儿童节到了，果果要折 48 只  送给同学，已经折了 8 只，还要折()只。

6. 40 比 74 小()，63 比 8 大()。

7. $52 \xrightarrow{+8} \square \xrightarrow{-30} \square \xrightarrow{+9} \square \xrightarrow{+4} \square$

二、辨一辨。(对的画“√”，错的画“×”)(每题2分，共10分)

1. $45 + 20$ 的和与 $40 + 25$ 的和相等。 ()

2. 因为 $1 + 2 + 5 = 8$ ，所以 $10 + 20 + 5 = 80$ 。 ()

3. $8 + 39$ 的和的十位上的数是 7。 ()

4. $65 - \square > 60$ ， \square 里最大能填 4。 ()

5. $78 - \square$ 的差的十位一定是 7。 ()

三、计算挑战。(共31分)

1. 看谁算得又对又快。(每题0.5分，共7分)

$43 + 9 =$

$23 - 5 =$

$32 + 8 =$

$54 - 9 =$






$$18+9= \quad 57-9= \quad 80+5= \quad 78-8=$$

$$59-9-30= \quad 53-30-5= \quad 36+50+2=$$

$$50+(11-6)= \quad 42-(17-9)= \quad 61-(9+11)=$$

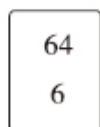


2. 找玩具。(连一连)(每题 1 分, 共 4 分)



3. 森林医生。(照样子判断对错, 错的请改正)(每题 2 分, 共 8 分)



4. 算出每张卡片上两个数的和与差。(每空 1 分, 共 6 分)



和: _____

和: _____

和: _____

差: _____

差: _____

差: _____

5. 在 里填上合适的数。(每题 1 分, 共 6 分)

$38 + \square = 44$

$\square - 30 = 27$

$35 + \square = 35 - \square$



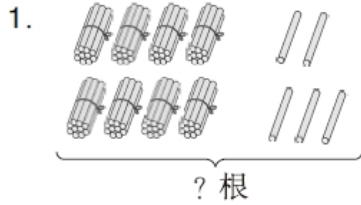


$20+30 > \square$

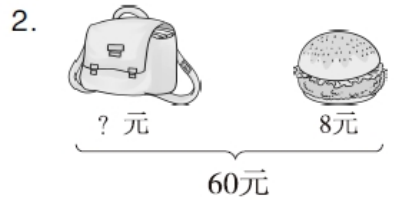
$\square - 9 < 39$

$\square + 8 > 25$

四、看图列式计算。(每题 4 分, 共 8 分)



$\square \bigcirc \square = \square \quad (\quad)$



$\square \bigcirc \square = \square \quad (\quad)$

五、走进生活, 解决问题。(每题 7 分, 共 35 分)

1. 地里一共有 25 个萝卜。




地里还有多少个萝卜?

2. 把 28 个月饼装入右面的盒子里, 最多可以装满几盒?



3. 这个房间一共要铺多少块地砖?





4. 妈妈准备了3份苹果，每份7个，一共有多少个苹果？



5.



88元




9元



51元

(1) 买一本  和一台  ，一共要多少钱？

(2) 买一辆玩具  和一本  ，付70元，应找回多少钱？





答案

一、1. $46 + 30 = 76$ $52 - 6 = 46$

Diagram for $46 + 30 = 76$: A box with 46 is split into 40 and 6. A box with 30 is below it. An arrow points from 40 to 70, and another from 6 to 76. A box with 70 is below 40, and a box with 76 is to the right of 30.

Diagram for $52 - 6 = 46$: A box with 52 is split into 40 and 12. A box with 6 is below it. An arrow points from 12 to 6, and another from 40 to 46. A box with 6 is below 12, and a box with 46 is to the right of 6.

2. $13 - 7 = 6$ $60 - 6 = 54$

3. $54 - 8 = 46$ $46 + 30 = 76$

4. 15

5. 40

6. 34 55

7. 60 30 39 43

二、1. \checkmark 2. \times 3. \times 4. \checkmark

5. \times [点拨] 如果个位不够减，那么差的十位是6。

三、1. 52 18 40 45 27 48 85 70

20 18 88 55 34 41

2.

$25 + 8 - 2$ $25 + 8 + 2$ $25 - (8 - 2)$ $25 - (8 + 2)$

35 15 31 19

Connections: Helicopter (25+8-2) connects to 35. Car (25+8+2) connects to 31. Teddy bear (25-(8-2)) connects to 19. Bucket (25-(8+2)) connects to 15.

3. $53 + 3 = 56$ \times $64 - 4 = 60$

\times $61 - 9 = 52$ \times $35 + 8 = 43$

4. 86 26 51 35 70 58





5. 6 57 0 0 36 20 30 (后 3 个题空答案不唯一)

四、 $1.80+5=85$ (根)

2. $60-8=52$ (元)

五、 $1.25-4-6=15$ (个)

口答：地里还有 15 个萝卜。

2. $28 - \frac{-9}{-9} \rightarrow 19 - \frac{-9}{-9} \rightarrow 10 - \frac{-9}{-9} \rightarrow 1$

口答：最多可以装满 3 盒。

3. $54+9=63$ (块)

口答：这个房间一共要铺 63 块地砖。

4. $7+7+7=21$ (个)

口答：一共有 21 个苹果。

5. (1) $88+9=97$ (元)

口答：一共要 97 元钱。

(2) $51+9=60$ (元)

$70-60=10$ (元)

口答：应找回 10 元钱。

