



第一单元测试卷

(时间:60分钟 分数:_____)

一、连一连。(8分)



大约9时

1时半

大约3时

12时

二、填一填。(16分)



1. 钟面上有()个数,长针是()针,短针是()针。

这个钟面上的时间是()时。

2. 钟面上的分针指着12,时针指着2,这时的时间是()时。

3. 钟面上,时针指在7和8中间,分针指着6,这时的时间是()。

4. 小明每天快6时起床,小红每天6时半起床,()起得早,()起得晚。

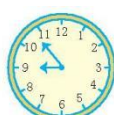
三、写一写。(16分)



()时



()时



大约()时



()时



()时半



()时



大约()时

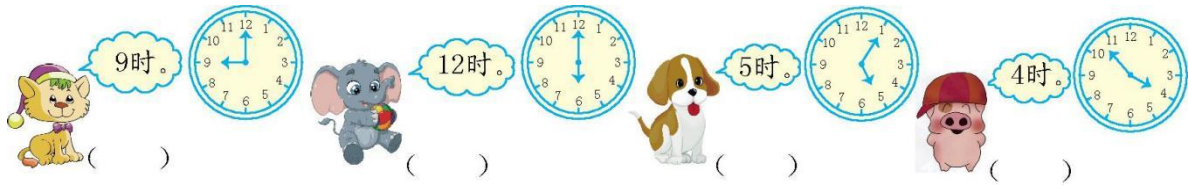


()时










四、小动物们读得对吗?对的画“√”,错的画“×”,并改正。(12分)



五、写出钟面上的时间。(10分)



六、看时间,画一画。(12分)



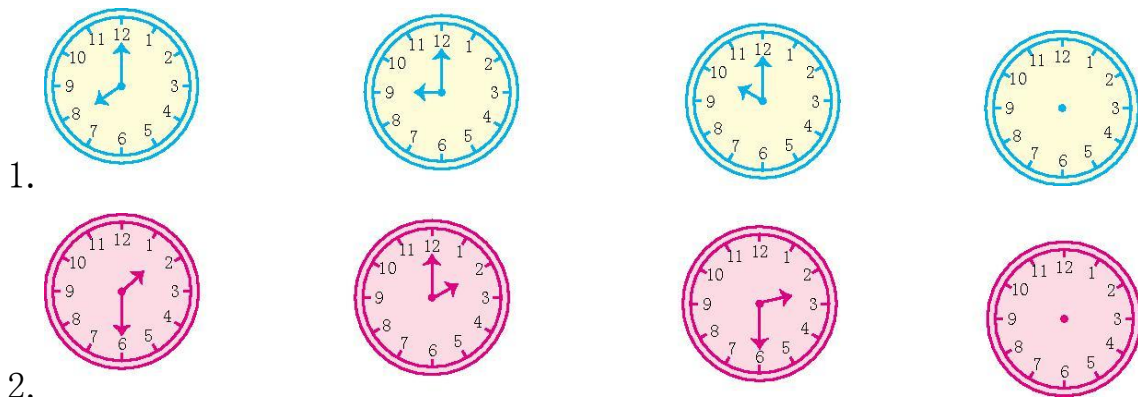
11 时

2 时半

快到 8 时

10 时刚过


七、找规律,画一画。(10分)





八、解决问题。(16分)

1. 小兔子兄弟俩采完蘑菇回家了,谁先到家呢?在□里画“○”。(8分)



2. 下面是三个同学写完作业的时间,谁写得最早,在对应的钟面下面画“ ”。(8分)




明明

()



小丽

()



小英

()





第一单元测试卷

一、钟面上的时间分别是1时半、12时、大约9时、大约3时 连线略

二、1. 12 分 时 7 2. 2 3. 7时半 4. 小明 小红

三、3 12 9 7 2 4 7 11

四、√ × 6时 × 5时刚过(大约5时) × 快到4时(大约4时)

五、7时 8时 12时 4时 6时半

六、略

七、1. 提示:画11时。 2. 提示:画3时。

八、1. 2. (√)()()

