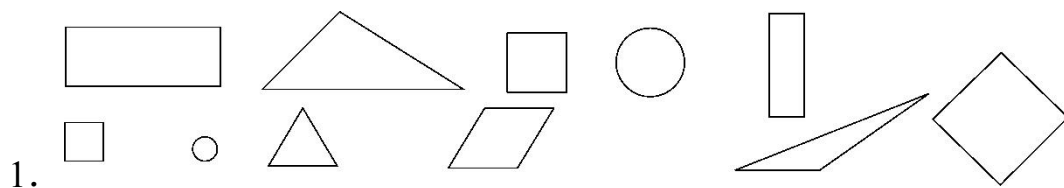





第四单元达标测试卷

一、填一填。(每空 1 分, 共 17 分)



这些图形中有()个正方形, ()个长方形,
()个三角形, ()个圆和()个平行四边形。

2. 下面这些图案的外框是什么形状?



() () () ()

3. 两个同样大的正方形可以拼成一个()。

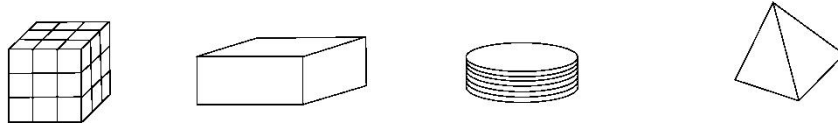

4. 可由()形和()形拼成。

5. 有()块, 是由()种图形组成的,
其中()号图和()号图三角形一样大, 4 号
图和()号图能拼成一个正方形。

二、连一连。(每题 8 分, 共 16 分)

1. 下面的图形分别是用哪个物体画出来的?






2. 下面哪两个图形能拼成我们认识的图形？



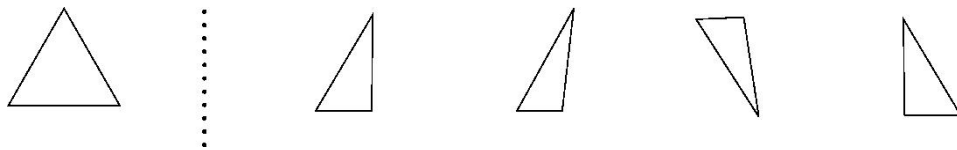
三、在合适的答案下面画“√”。(每题 2 分，共 6 分)

1.  对折两次不能折出什么图形？



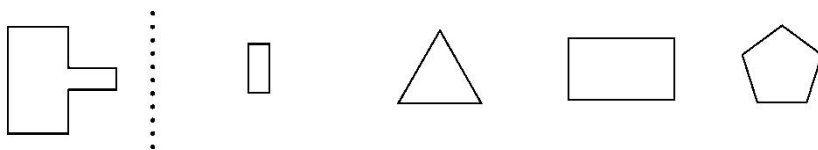
() () () ()

2. 左边的图是由右边的哪两个图拼成的？



() () () ()

3. 左边的图是由右边的哪两个图拼成的？




() () () ()



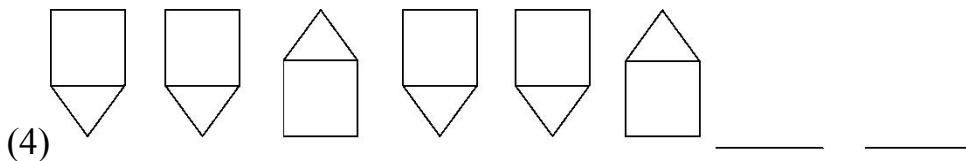

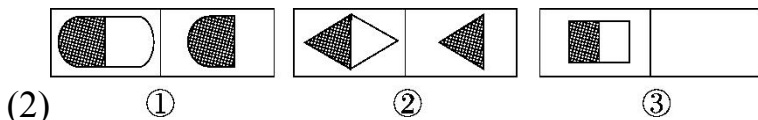
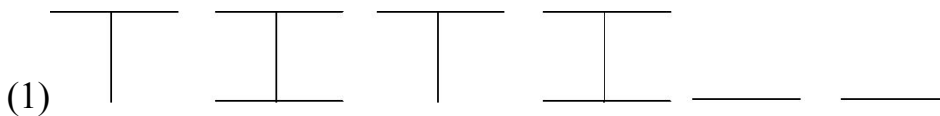


四、画一画。(1 题 16 分, 2 题 8 分, 共 24 分)


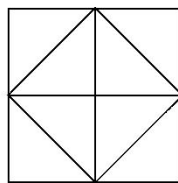

1. 在点子图上画一个长方形、一个正方形、一个三角形和一个平行四边形。



2. 找规律接着画下去。



五、数一数, 填一填。(6 分)



有()个长方形

有()个正方形

有()个三角形



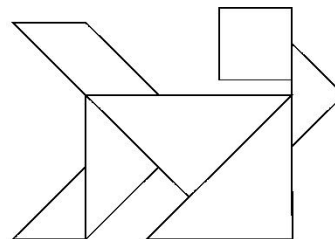
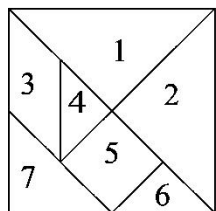


六、判断。(2分)


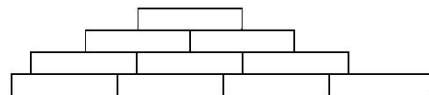
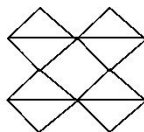
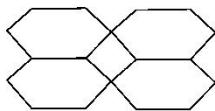
1. 足球是一个圆。 ()
2. 用3根小棒能摆一个三角形, 用4根小棒能摆一个正方形。
()

七、按要求做一做。(1题7分, 3题10分, 其余每题6分, 共29分)

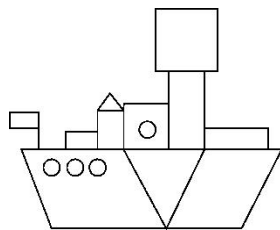
1. (变式题) 左边是七巧板, 右边是用七巧板拼出的图案, 请你给图案中的每一块标上它在左图中相应的编号。



2. (变式题) 欣赏下面的图案, 把它们与组成它们的图形分别连起来。



3. 数一数, 填一填。



图中一共有()种图形。

△有()个;

□有()个;

○有()个;








 有()个。

4. 剪一剪，画一画。

(1)把一张长方形纸剪成两个相同的图形，可以怎样剪呢？用虚线画出来。



(2)把一张正方形纸剪成四个相同的图形，可以怎样剪呢？用虚线画出来。





答案


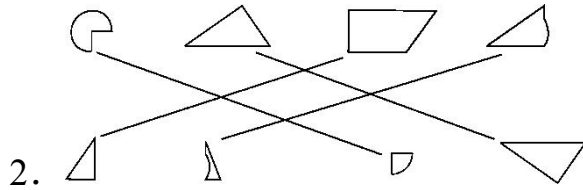
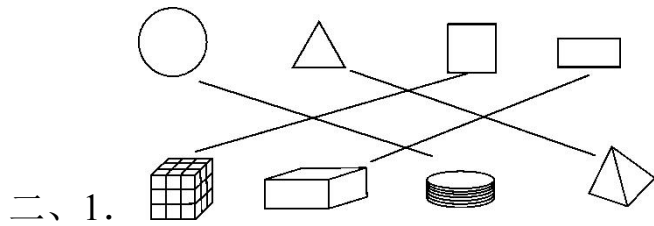
一、1. 3 2 3 2 1

2. 正方形 圆 长方形 三角形

3. 长方形

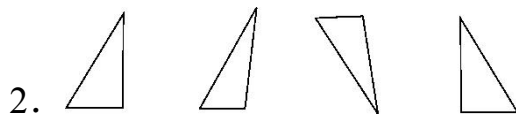
4. 长方 三角

5. 7 3 4 6 6(第 3, 4 个空答案不唯一)



() () (√) ()

点拨：一个正方形对折两次，折法不同，得到的图形也会不同。

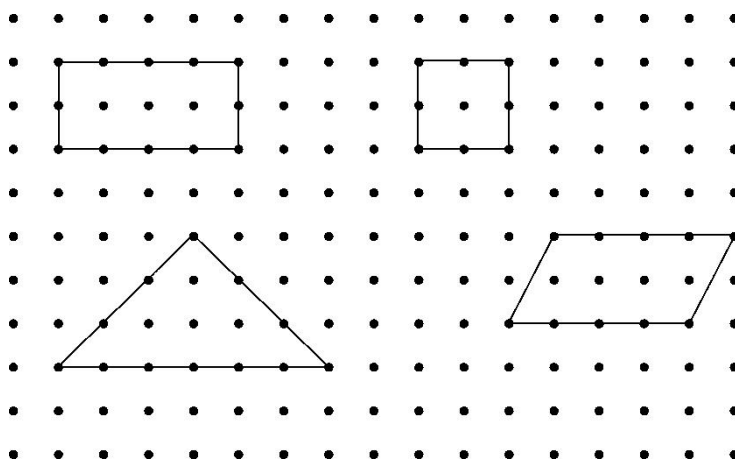


(√) () () (√)



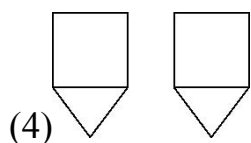

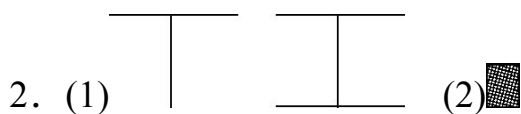
(√) () (√) ()





四、1.

点拨：答案不唯一。



五、7 点拨：单个长方形有 4 个，2 个并起来的长方形有 2 个，4 个并起来的长方形有 1 个，共 $4+2+1=7$ (个)。

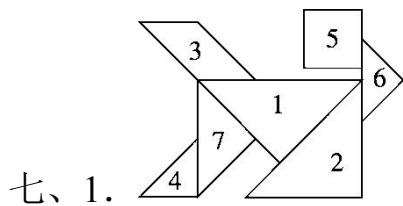
6 点拨：小正方形有 4 个，4 个小正方形并起来的大正方形 1 个，4 个三角形并起来的正方形 1 个，共 $4+1+1=6$ (个)。

19 点拨： \triangle 有 10 个， \triangle 有 9 个，共 $10+9=19$ (个)。 \sphericalangle 这不是三角形。

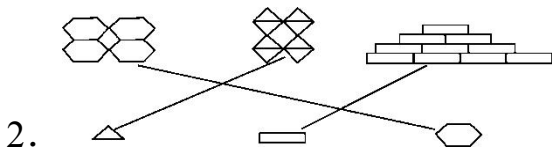
六、1. \times 点拨：足球是一个球，是立体图形，圆是平面图形，两者不同。

2. \times 点拨：正方形 4 条边相等，用 4 个长度相等的小棒才能摆成正方形。





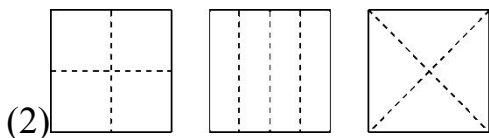
点拨：1 和 2 号图，4 和 6 号图完全相同，位置可以颠倒。



3. 5 2 2 4 5



点拨：答案不唯一。



点拨：答案不唯一。

