
















## 第六单元测试卷

一、连一连。

 11-7	 16-9	 18-9	 14-9	 12-4
 8	 4	 7	 9	 5

二、比比看谁先过河。

	15-6=	12-4=	13-4=	18-9=	15-7=
	17-8=	14-7=	15-9=	11-4=	13-8=
	12-8=	13-6=	12-3=	16-7=	11-7=

三、在○里填上“>”“<”或“=”。

11-9○5	11-7○3	14-6○7	13-7○15-9
15-9○4	12-6○6	13-8○4	11-6○15-7

四、在括号里填上合适的数。

( )-5=8	15-( )=8	( )+7=11	( )-6=6
( )-5=6	14-( )=5	9+( )=17	14-( )=8

五、在○里填上“+”或“-”。

12○7=5	4○9=13	16○7=9	11○3=8
15○6=9	7○4=11	13○7=6	12○8=4





六、算一算。

$3+9-7=$

$13-4-6=$

$7+4-5=$

$13-7+2=$

$9+6-8=$

$16-7+8=$

$5+6-3=$

$14-9-2=$

七、看图列式计算。



1. 11个

$\square \bigcirc \square = \square$




2. 13支

$\square \bigcirc \square = \square$

八、解决问题。

1. 房子里还有多少只小老鼠？



$\square \bigcirc \square = \square$  (只)

2. 丽丽折了几只？



$\square \bigcirc \square = \square$  (只)

3. 小猴子们一共摘了 15 个桃子, 吃了 8 个, 还剩几个？

$\square \bigcirc \square = \square$  (个)

4. 第二组再植多少棵树, 就和第一组一样多了？



$\square \bigcirc \square = \square$  (棵)





## 第六单元测试卷参考答案

一、提示:算式得数分别是 4, 7, 9, 5, 8 连线略

二、9 8 9 9 8 9 7 6 7 5 4 7 9 9 4

三、< > > = > = > <

四、13 7 4 12 11 9 8 6

五、- + - - - + - -

六、5 3 6 8 7 17 8 3

七、1.  $11-5=6$  2.  $13-4=9$

八、1.  $15-6=9$ (只) 2.  $14-6=8$ (只)

3.  $15-8=7$ (个) 4.  $14-9=5$ (棵)

