











### 第5单元过关检测卷

一、填一填。(每空1分，共23分)

1. 人民币最大的面值是( )，最小的面值是( )。

2. 1张  可以换( )张 ，也可以换( )张 。

3. 1张  可以换( )张  和( )张 。

4.  

( )元( )角

( )元( )角

5. 60角=( )元

9元=( )角


84分=( )角( )分

26角=( )元( )角

10角=( )元=( )分

5角5分=( )分

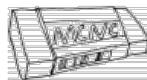
6. 填上合适的人民币单位。



1( )



50( )



7( )



38( )

二、辨一辨。(对的画“√”，错的画“×”)(每题2分，共10分)

1. 一张20元的纸币可以换5张4元的人民币。( )

2. 2张5元和10张1角相等。( )





3. 1元=100分, 2元=200分。 ( )

4. 1块橡皮5角, 1元钱可以买3块这样的橡皮。 ( )

5. 1枚5角硬币和5枚1角硬币合起来是1元。 ( )

三、算一算。(每空1分, 共9分)

7角+6角=( )元( )角      15元-8元=( )元

8角+3元=( )元( )角

2元6角-3角=( )元( )角

1元-7角=( )角      2元4角+6角=( )元

四、在  里填上“>”“<”或“=”。(8分)

80角  8元

7元9角  8元

90分  9角

27元  27角

8元4角  4元8角

99元9角  100元

78分  87分

4角  3元9角

五、给出的钱能买什么? 在能买到的物品下面画“√”。(每题3分, 共6分)

1.



10元8角  
( )



18元  
( )

2.



3元5角  
( )



3元  
( )



5元  
( )





六、买下面的物品可以怎样付钱？连一连。(6分)



10元3角



18元2角



6元8角



七、解决问题。(共 38 分)

1. 我来当收银员。(12分)



6元



8角



5元



6角



1元2角

买的物品			
要付的钱数			
付出的钱数			
应找回的钱数			

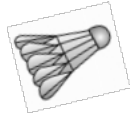




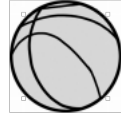
2. 15元正好能买下面哪两种物品？连一连。(8分)



6元



4元



7元




10元



5元



9元



8元




3元

3. 猜一猜，在合适的答案下面画“√”。(4分)

书包的价钱可能是多少钱？



买这个书包我付了2张 ，  
找回的钱比5元少。

59元	39元	29元

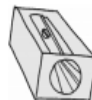
4. 买文具。(14分)



1元2角



2元



8角



12元6角

(1) 买一本笔记本和一个转笔刀要花多少钱？





(2)一副三角尺比一个计算器便宜多少钱？

(3)你还能提出什么数学问题？提出一个并解答。





### 答案

一、1.100 元 1分      2.2 4      3.2 2(答案不唯一)

4.7 6 26 7      5.6 90 8 4 2 6 1 100 55

6.元 分 角 元

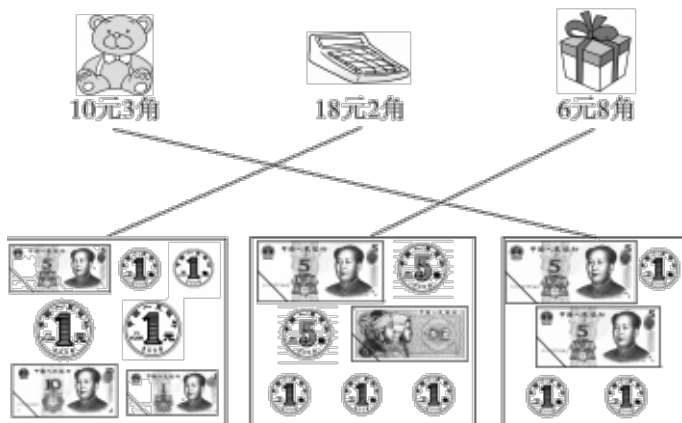
二、1.× 2.× 3.√ 4.× 5.√

三、1 3 7 3 8 2 3 3 3

四、= < = > > < < <

五、1.(√) ( )      2.( ) (√) ( )

六、



七、1.

买的物品			
要付的钱数	5 元 8 角	1 元 4 角	7 元 2 角
付出的钱数			
应找回的钱数	2 角	6 角	2 元 8 角

2.





3. 

39 元
√

4.(1)1 元 2 角 + 8 角 = 2 元

(2)12 元 6 角 - 2 元 = 10 元 6 角

(3)答案不唯一，如：买一个转笔刀和一副三角尺共需多少钱？

2 元 + 8 角 = 2 元 8 角

