






### 第5单元跟踪检测卷

一、填一填。(每空1分，共22分)

1. 人民币的单位有( )、( )、( )。

2. 一张  可以换( )张 ，还可以换( )张 。

3. 写出下面的钱数。



( )元( )角



( )元( )角

4. 在( )里填上合适的单位“元”“角”或“分”。



12 ( ) 5 ( )



13 ( )



5 ( ) 5 ( )

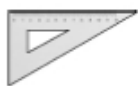
5.



6. 我会买物品。



1元2角



6角



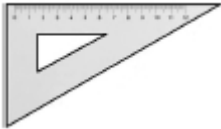

30元

(1) 买一本  和一个 ，一共( )元( )角。





(2) 上面三种物品各买一个, 一共( )元( )角。

(3) 小华买了一个  和一个 , 付给售货员 40 元钱, 应找回( )元( )角。

二、我会按要求解题。(共 30 分)

1. 我会转化。(每题 1 分, 共 6 分)

3 元=( )角

1 元 6 角=( )角

29 角=( )元( )角

70 分=( )角

1 元=( )角=( )分

8 角=( )分

2. 我会比大小。在○里填上“>”“<”或“=”。(每题 1 分, 共 6 分)

4 元○50 角

38 角○60 分

20 角○2 元

6 元 4 角○4 元 6 角

16 角○16 分

54 角○5 元 4 角

3. 我会圈出每件物品要付出的钱。(每题 3 分, 共 6 分)

(1)



15 元



(2)



11 元 7 角



4. 给出的钱能买什么? 在能买的物品下面画“√”。(每题 6 分, 共 12





分)

(1)

2元5角	3元	4元5角	
( )	( )	( )	

(2)

9元	7元5角	8元5角	
( )	( )	( )	

三、算一算。(每题2分，共16分)

4角+5角=( )角      4元3角+5元=( )元( )角  
 7元+12元=( )元      8角+7角=( )元( )角  
 9角-3角=( )角      5角+2元4角=( )元( )角  
 1元-7角=( )角      6元8角-1元4角=( )元( )角

四、走进生活，解决问题。(1题4分，2、3题每题6分，4、5题每题8分，共32分)

1. 在合适的答案下面画“√”。

☆3元

买这个布娃娃我付了4张，找回的钱比10元少。

布娃娃的价钱是多少？
















53 元	63 元	73 元

2. 我会算应付的钱和应找的钱。



买的物品	 	 	 
应付的钱			
付的钱		 	 
应找的钱			

3. 用 16 元钱正好能买下面哪两种物品？



4. 超市购物。





3元7角



6元5角



8元



1元5角



2元

(1)  比  贵多少钱?

(2) 你还能提出其他数学问题并解答吗?

5.



6元





5角



1元5角



1元

(1)  和  一共( )钱。

(2) 李明用( )张5角钱正好买两把直尺。

(3) 用2张  买一个  ，应找回( )钱。

**答案**





一、1. 元 角 分 2. 10 5

3. 15 6 1 8

4. 元 角 元 角 分

5. 3元5角 4元5角

6. (1) 1 8 (2) 31 8 (3) 9 4

二、1. 30 16 2 9 7 10 100 80

2. < > = > > =

3. (1) 圈 10 元和 5 元

(2) 圈 10 元，1 元，5 角硬币，1 角和 1 角硬币

4. (1) (√) ( ) ( )

(2) ( ) (√) ( )

三、9 9 3 19 1 5 6 2 9 3 5 4

四、1.

53 元	63 元	73 元
		√

[点拨] 一共付了 80 元，又找回的钱比 10 元少，说明了布娃娃的价格一定是 70 多元。

2. 13 元 2 元 4 角 13 元 7 元 1 角 2 元

3.  $12\text{元} + 4\text{元} = 16\text{元}$   $7\text{元} + 9\text{元} = 16\text{元}$



口答：用 16 元钱正好能买玩具企鹅和排球，也能买玩具车和帽子。

4. (1)  $3\text{元}7\text{角} - 1\text{元}5\text{角} = 2\text{元}2\text{角}$

口答：拼图比棒棒糖贵 2 元 2 角钱。





(2) 购买一把  和一把  要花多少钱？

6 元 5 角 + 8 元 = 14 元 5 角

口答：购买一把梳子和一把剪刀要花 14 元 5 角钱。

[点拨] 答案不唯一。

5. (1) 7 元 5 角

(2) 4

(3) 5 角

