




第五单元达标测试卷

一、我会填。(每空 1 分, 共 33 分)

1. 人民币的单位有()、()、()。

2. 一张  可以换()张 , 还可以换()

张 。

3. 一张  可以换()张  和()张

。

4. 写出下面的钱数。



() 元 () 角



() 元 () 角



() 角 () 分



() 元 () 角

5. 3 元 = () 角 1 元 6 角 = () 角


29 角 = () 元 () 角 70 分 = () 角

1 元 = () 角 = () 分 8 角 = () 分

6. 在()里填上合适的单位“元”“角”或“分”。



() 5 ()



13 ()



5 ()





7. 在○里填上“>”“<”或“=”。

4元○50角

38角○60分

20角○2元

6元4角○4元6角

16角○16分

54角○5元4角

二、连一连。(5分)



38元8角



2.00元



1.50元



59.90元



8角

59元9角

0.80元

38.80元

2元

1元5角

三、算一算。(12分)

4角+5角=()角

4元3角+5元=()元()角

7元+12元=()元

8角+7角=()元()角

9角-3角=()角

5角+2元4角=()元()角

1元-7角=()角

6元8角-1元4角=()元()角

四、圈出每件物品要付出的钱。(每题2分，共4分)

1.



15元



2.




11元7角



五、在合适的答案下面画“√”。(4分)

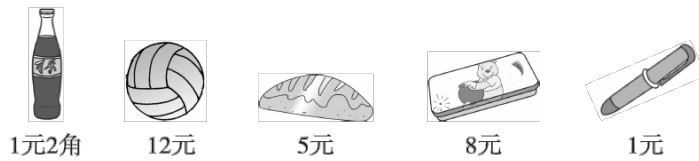




布娃娃的价钱是多少？

53 元	63 元	73 元

六、填一填。(12分)

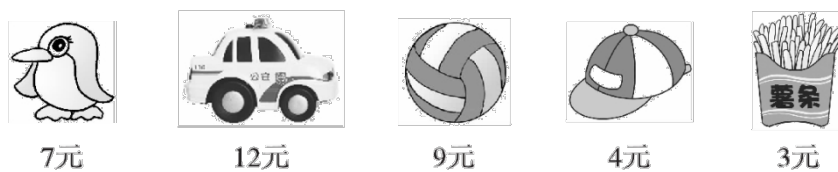


买的物品			
应付的钱			
付的钱			
应找的钱			

七、我会圈。(6分)



八、用 16 元钱正好能买下面哪两种物品？(4分)





九、购物。(每题 5 分，共 20 分)



14元



5元8角



12元9角



6元



8元

1.小汽车比花瓶贵多少钱?

2.东东用 20 元正好买了上面的两种物品，他买了什么?

3.买一个足球和一袋积木共多少钱?

4.欢欢用 20 元买一辆小汽车要找回多少钱?

答案





一、1. 元 角 分 2. 10 5 3. 1 5

4. 15 6 26 7 6 8 1 8

5. 30 16 2 9 7 10 100 80

6. 元 角 元 角

7. < > = > > =

二、38 元 8 角→38.80 元 2.00 元→2 元

1.50 元→1 元 5 角 59.90 元→59 元 9 角

8 角→0.80 元

三、4 角+5 角=9 角 4 元 3 角+5 元=9 元 3 角

7 元+12 元=19 元 8 角+7 角=1 元 5 角

9 角-3 角=6 角

5 角+2 元 4 角=2 元 9 角

1 元-7 角=3 角

6 元 8 角-1 元 4 角=5 元 4 角

四、1. 圈 10 元和 5 元

2. 圈 10 元，1 元，5 角硬币，1 角和 1 角硬币

五、

53 元	63 元	73 元
		√

[点拨]解决这个问题先要弄清楚 4 张 20 元一共是多少钱，找回的钱比 10 元少，说明花的钱比 $80 元 - 10 元 = 70 元$ 多，所以这个布娃娃的价钱是 73 元。

六、文具盒、面包：应付的钱：13 元 应找的钱：7 元





2 瓶可乐: 应付的钱: 2 元 4 角 应找的钱: 1 角

球、笔: 应付的钱: 13 元 应找的钱: 2 元

[点拨]要看懂表格的意思, 应该竖着看, 付的钱-应付的钱=应找的钱。文具盒和面包应付的钱: $8 \text{ 元} + 5 \text{ 元} = 13 \text{ 元}$, 应找的钱: $20 \text{ 元} - 13 \text{ 元} = 7 \text{ 元}$; 2 瓶可乐应付的钱: $1 \text{ 元} 2 \text{ 角} + 1 \text{ 元} 2 \text{ 角} = 2 \text{ 元} 4 \text{ 角}$, 应找的钱: $2 \text{ 元} 5 \text{ 角} - 2 \text{ 元} 4 \text{ 角} = 1 \text{ 角}$; 球和笔应付的钱: $12 \text{ 元} + 1 \text{ 元} = 13 \text{ 元}$, 应找的钱: $15 \text{ 元} - 13 \text{ 元} = 2 \text{ 元}$ 。

七、圈 3 张 5 元纸币, 1 张 1 元纸币, 3 枚 1 角硬币, 1 枚 5 角硬币

圈 2 张 1 元纸币, 1 枚 1 元硬币, 1 枚 5 角硬币

八、 $7 \text{ 元} + 9 \text{ 元} = 16 \text{ 元}$ 或 $12 \text{ 元} + 4 \text{ 元} = 16 \text{ 元}$

企鹅和球, 或小汽车和帽子。

九、1. $12 \text{ 元} 9 \text{ 角} - 8 \text{ 元} = 4 \text{ 元} 9 \text{ 角}$

2. $14 \text{ 元} + 6 \text{ 元} = 20 \text{ 元}$

买了一个足球和一支笔。

3. $14 \text{ 元} + 5 \text{ 元} 8 \text{ 角} = 19 \text{ 元} 8 \text{ 角}$

4. $20 \text{ 元} - 12 \text{ 元} 9 \text{ 角} = 7 \text{ 元} 1 \text{ 角}$

