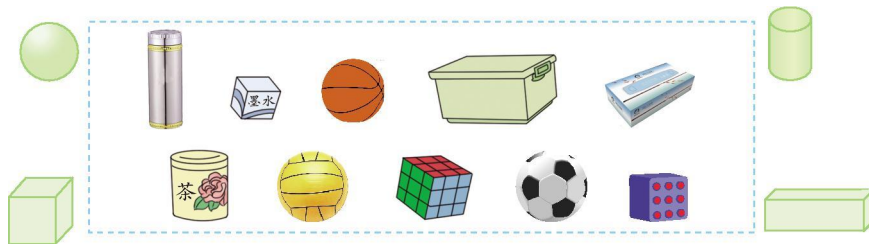


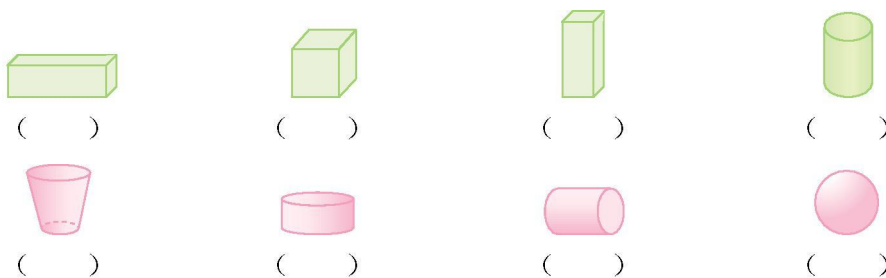


第六单元测试卷（一）

一、找一找，连一连。



二、在长方体下面画“√”，正方体下面画“×”，圆柱下面画“△”







三、数一数，填一填。



1. 从左起第()个是球，第()个和第()个是正方体。
2. 从右起第()个和第()个是正方体。
3. 球左边第一个是()，右边第一个是()。

四、判一判。(对的画“√”，错的画“×”)

2个  可以拼成一个长方体。() 4个  可以拼成一个正方体。()

8个  可以拼成一个正方体。() 2个  可以拼成一个正方体。()

五、动手操作。

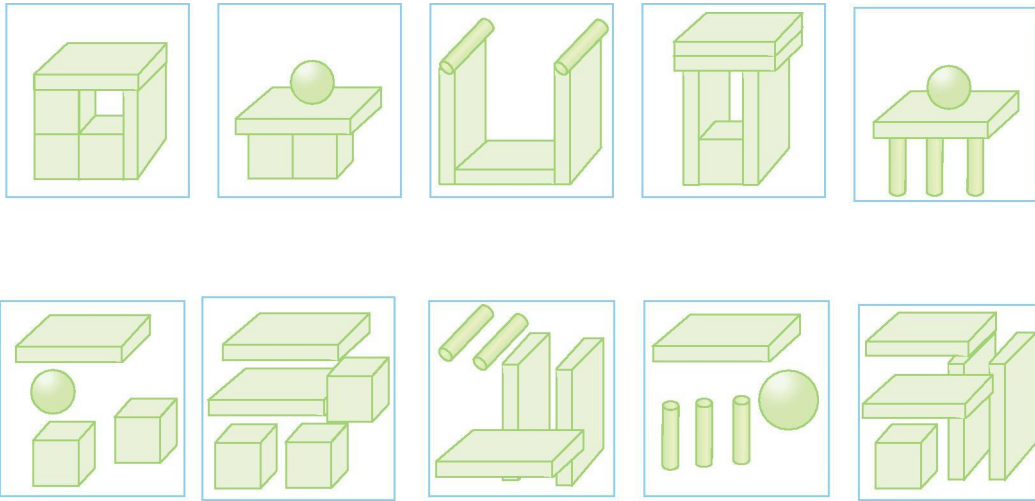
1. 小朋友们都喜欢玩下面的物体，根据自己的发现填一填。



容易滚动的是()和()；不容易滚动，只能推动的是()和()。


2. 将拼图与它所用的材料连起来。






六、数一数，填一填。

1. 数出各图形的个数，填在相应的括号里。



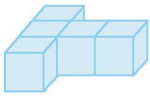
 () 个

 () 个


 () 个

 () 个

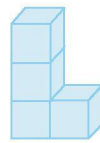
2. 下面的图形各是由几个小正方体拼成的？



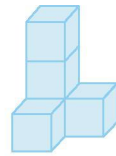
() 个



() 个

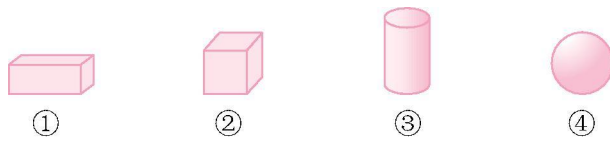


() 个





















() 个





七、找规律画一画。(写序号)



1.       _____

2.          _____

3.          _____

4.          _____





参考答案

一、提示:足球、排球、篮球是球,茶叶桶、水杯是圆柱,魔方、骰子是正方体,整理箱、纸巾盒、墨水盒是长方体,连一连略。

二、(√) (×) (√) (△) () (△) (△) ()

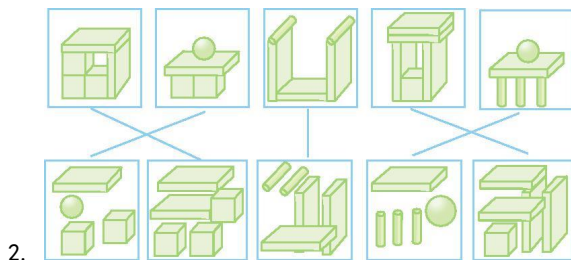
三、1. 3 1 6

2. 3 8

3. 圆柱 长方体

四、√ × √ ×

五、1. ② ④ ① ③



六、1. 4 1 5 2

2. 5 4 4 5

七、1. ④ ② ②

2. ④ ③ ③

3. ③ ② ④

4. ③ ② ④

