















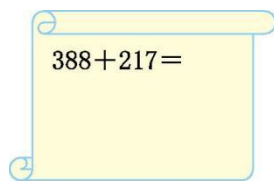
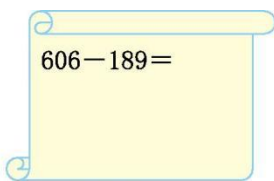
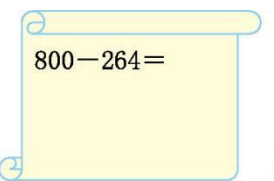
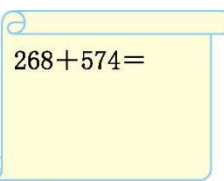
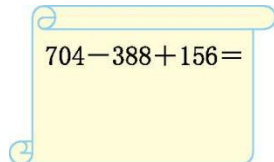
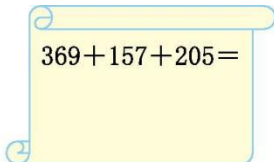
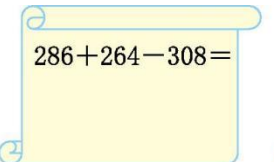
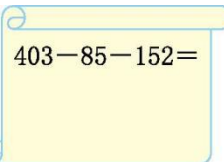
第六单元演练

(时间:60 分钟 分数:_____)

一、连一连。(12 分)

| | | | | | |
|---|---|---|---|--|---|
|  |  |  |  |  |  |
|  |  |  |  |  |  |









二、用竖式计算。(24 分)

| | | | |
|--|--|---|--|
|  |  |  |  |
|  |  |  |  |

三、在 里填上 “>” “<” 或 “=”。(12 分)

| | | |
|----------------------------------|----------------------------------|----------------------------------|
| 532-268 <input type="text"/> 300 | 236+384 <input type="text"/> 600 | 205-105 <input type="text"/> 100 |
| 406-395 <input type="text"/> 111 | 627-348 <input type="text"/> 355 | 703-154 <input type="text"/> 569 |

四、找规律, 填一填。(12 分)

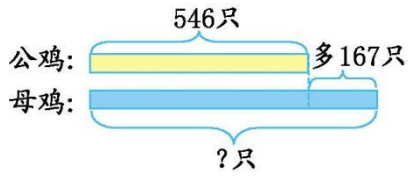
| | | | |
|---|---|--|---|
|  |  |  |  |
|  |  |  |  |



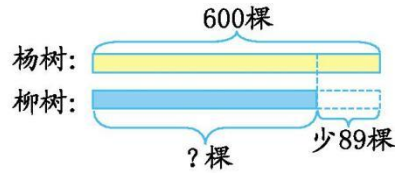


五、看图列式计算。(6分)

1.



2.

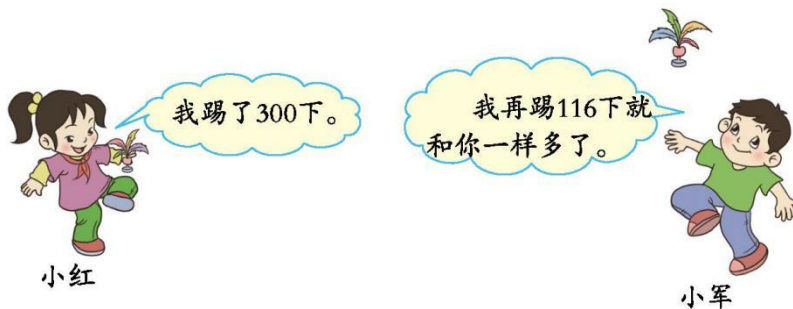


六、解决问题。(34分)

1. 实验小学开展集邮活动,小明收集了 253 枚邮票,小亮比小明少收集 68 枚,小亮收集了多少枚邮票?(6分)

2. 我国现有爬行动物 376 种,比两栖类动物多 92 种。两栖类动物有多少种?(6分)

3. 踢毽子比赛。(7分)





小军踢了多少下?

4. 水城小学开展了“读书识字”活动,下面是平平 and 军军的识字情况。(15分)

| 姓名 | 会读字数 | 会写字数 |
|----|-------|-------|
| 平平 | 502 个 | 298 个 |
| 军军 | 601 个 | 376 个 |

(1) 平平会读的字和会写的字一共有多少个?

(2) 军军会读的字比会写的字多多少个?

(3) 你还能提出什么数学问题?试着解答出来。





参考答案

一、式子结果依次为 143、114、1000、925、453、744。连线略

二、605 417 536 842 472 731 242 166

三、< > = < < <

四、850 373 488 854 587 468

五、1. $546+167=713$ (只) 2. $600-89=511$ (棵)

六、1. $253-68=185$ (枚) 2. $376-92=284$ (种)

3. $300-116=184$ (下) 4. (1) $502+298=800$ (个)

(2) $601-376=225$ (个) (3)答案不唯一,如:军军会读的字比平平会读的字多多少个?

$601-502=99$ (个)

