



期末过关检测卷

时间: 40 分钟 满分: 100 分

题号	一	二	三	四	五	六	七	八	总分

一、填空。(3 题 3 分, 其余每空 1 分, 共 26 分)

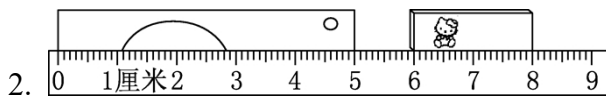
1. 在括号里填上合适的单位。

一根旗杆高 6 ()

铅笔长 18 ()

课间休息 10 ()

坐飞机从武汉到北京只要 2 ()



小刀长()厘米, 橡皮长()厘米。

3. 把下面的算式改写成乘法算式。

(1) $7+7+7+7=()\times()$

(2) $8\times 3-3=()\times()$

(3) $6\times 5+6=()\times()$

4. 比 38 多 27 的数是(), 95 比()多 18。

5. 用 6、0、5 可以组成()个不同的两位数, 其中最大的是(), 最小的是()。

6. 一个长方形的一条边长是 9 厘米, 与它相对的另一条边长是()厘米。

7. ()里最大能填几?

() $\times 6 < 32$

$9\times() < 56$

$58 > 7\times()$

8. 在○里填上“+”“-”“ \times ”或“ $>$ ”“ $<$ ”“ $=$ ”。

$4\bigcirc 2 = 6$

$9\bigcirc 2 = 7$

$8\bigcirc 3 = 24$

$5\times 9\bigcirc 50$

$6\times 8\bigcirc 48$

$7\times 8\bigcirc 54$

9. 时针从 3 走到 9 走了()时, 分针从 12 走到 5 走了()分钟。

二、判断。(对的画“√”, 错的画“ \times ”; 每题 1 分, 共 5 分)

1. 在乘法算式里, 积一定大于两个乘数。()

2. 一副三角板有 2 个直角。()





3. 100 厘米长的绳子和 1 米长的彩带一样长。()
4. 3 个小朋友, 每两个人打一次电话, 一共要打 6 次电话。()



5. 这个钟面上的时刻是 10 时 15 分。()

三、选择。(将正确答案的序号填在括号里; 每题 1 分, 共 5 分)

1. 下面算式积最大的是()。
① 8×9 ② 6×5 ③ 9×9
2. 一个三角尺上有()个锐角。
①1 ②2 ③3
3. 一集电视剧大约 45()。
①分钟 ②小时 ③不能确定
4. 乐乐今年上二年级, 他的身高大约是()。
①50 厘米 ②5 米 ③1 米 30 厘米
5. 有 3 个数 5、8、10, 任意选取其中 2 个求和, 得数有()种可能。
①1 ②6 ③3

四、计算。(20 分)

1. 口算。(每题 1 分, 共 8 分)

$4 \times 7 =$	$75 - 50 =$	$3 \times 8 =$	$80 - 8 =$
$32 + 15 =$	$6 \times 9 =$	$54 + 30 =$	$63 - 56 =$

2. 竖式计算。(每题 2 分, 共 12 分)

$27 + 58 =$	$34 + 49 =$	$73 - 67 =$
-------------	-------------	-------------

$100 - (26 + 18) =$	$32 + 35 + 28 =$	$90 - 27 + 35 =$
---------------------	------------------	------------------





五、看图列式计算。(每题3分，共6分)

1.  $\square \bigcirc \square \bigcirc \square = \square$ ()

2.  $\square \bigcirc \square = \square$ ()

六、连一连。(4分)





七、画一画。(1题4分，2题6分，共10分)

1. 以下面的线为边，分别画一个锐角、钝角。



2. 写出相应的时间，再画出钟面上的分针。



八、解决问题。(24分)

1. 王阿姨在网上开了一个鞋店，今天销售情况如下：(6分)

A 品牌	B 品牌	C 品牌
45 双	比 A 品牌多 16 双	比 B 品牌少 21 双

(1) B 品牌鞋卖了多少双?





(2) 再提一个数学问题并解答。

2. 十周年店庆商店搞促销, 满 80 元减 10 元。妈妈买一个书包和一把雨伞要花多少钱? (5 分)



47 元



35 元

3. 爱科学博物馆最近运回了 100 个机器人模型, 送给星星小学 26 个, 博爱小学 37 个。博物馆的机器人模型少了多少个? 实验小学需要 36 个, 剩下的够吗? (5 分)

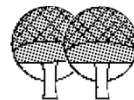
4. (1) 买 9 个皮球需要多少钱? (4 分)



8 元



3 元



25 元

(2) 小红买了 6 个羽毛球和 1 副乒乓球拍, 付给售货员 50 元。小红付的钱够吗? (4 分)





答案

一、1. 米 厘米 分钟 小时

2. 5 2

3. (1) 7 4 (2) 7 3 (3) 6 6

4. 65 77

5. 4 65 50

6. 9

7. 5 6 8

8. + - × < = >

9. 6 25

二、1. × 2. √ 3. √ 4. × 5. ×


三、1. ③ 2. ② 3. ① 4. ③ 5. ③

四、1. 28 25 24 72 47 54 84 7

2. 85 83 6 56 95 98

五、1. $3 \times 4 + 3 = 15$ (个) 或 $4 \times 4 - 1 = 15$ (个)

2. $6 \times 8 = 48$ (米)



六、小丽 小庆 小玲 小云

七、1. 略 2. 略

八、1. (1) $45 + 16 = 61$ (双) (2) 略

2. $47 + 35 = 82$ (元) $82 - 10 = 72$ (元)

3. $26 + 37 = 63$ (个) $63 + 36 = 99$ (个) $99 < 100$ 剩下的够

4. (1) $8 \times 9 = 72$ (元)

(2) $3 \times 6 + 25 = 43$ (元) $50 > 43$ 够

