



第五单元 达标测试卷

一、计算。(35分)

1、填空。(每小题3分,共9分)

$$9 + 3 = \square$$

$$5 + 8 = \square$$

$$6 + 6 = \square$$

2、计算。(20分)

$9 + 4 =$

$6 + 7 =$

$18 - 8 =$

$3 + 6 + 4 =$

$7 + 5 =$

$13 + 4 =$

$8 + 7 =$

$12 - 2 - 6 =$

$10 + 7 =$

$15 - 3 =$

$5 + 12 =$

$10 - 5 + 6 =$

$4 + 8 =$

$2 + 8 =$

$10 - 4 =$

$8 + 7 - 3 =$

3、在()里填上适当的数。(6分)

$6 + () = 12$

$8 + () = 11$

$() + () = 13$

$9 + () = 14$

$9 + () = 16$

$() + () = 15$

二、填空。(18分)

1、在○里填上>、<或=。

$9 + 5 \bigcirc 13$

$6 + 9 \bigcirc 15$

$8 + 7 \bigcirc 16$

$15 - 2 \bigcirc 11$

$8 + 4 \bigcirc 14$

$9 + 4 \bigcirc 12$

2、请写出的四道“和是13”的加法算式。(8分)

$\square \bigcirc \square = \square$

$\square \bigcirc \square = \square$


$\square \bigcirc \square = \square$

$\square \bigcirc \square = \square$

3、算一算两种奖品各有多少?(4分)



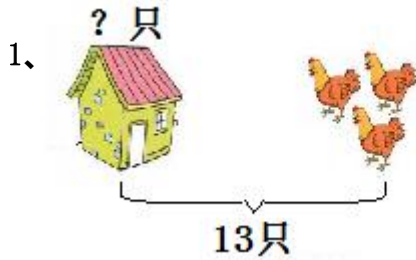


	小明	小红	合计
红花 	8	6	___朵
红星 	5	7	___颗

三、对号入座。(连线)(5分)



四、看图列式。(11分)



$$\square \bigcirc \square = \square \text{ (只)}$$



$$\square \bigcirc \square = \square \text{ (只)}$$



衣柜里面有 件衣服，外面有 件，一共有多少件？


$$\square \bigcirc \square = \square \text{ (件)}$$





五、解决问题。（22分）

1、



停车场原来有 辆汽车，又开来了 辆，现在停车场共有多少辆汽车？

$$\square \bigcirc \square = \square \text{ (辆)}$$

2、



$$\square \bigcirc \square = \square \text{ (个)}$$

3、



他们做了多少个蛋糕？

$$\square \bigcirc \square = \square \text{ (个)}$$

4、



一共有多少个水果？ (1) 可以这样算： $\square \bigcirc \square = \square$ (个)

(2) 也可以这样算： $\square \bigcirc \square = \square$ (个)





附参考答案

一、计算。

1、填空。12, 1, 2, 10; 13, 3, 2, 10; 12, 4, 2, 10;

2、计算。13, 13, 10, 13, 12, 17, 15, 4, 17, 12, 17, 11, 12, 10, 6, 12;

3、在括号里填数。6, 3, 两数和是13均可, 5, 7, 两数之和是15均可。

二、填空。

1、>, =, <, >, <, >; 2、 $10+3=13$, $11+2=13$, $9+4=13$, $7+6=13$;

3、14朵, 12颗;

三、对号入座。上1—下2, 上2—下3, 上3—下4, 上4—下1, 上5—下5

四、看图列式。

$13 - 3 = 10$ (只), $9 + 6 = 15$ (只), 7, 6, $7 + 6 = 13$ (件)

五、解决问题。

1、9, 4, $9 + 4 = 13$ (辆)

2、 $9 + 7 = 16$ (个)

3、 $8 + 8 = 16$ (个)

4、 $6 + 8 = 14$ (个)

