



第五单元达标测试卷

一、填一填。(4题3分, 其余每空1分, 共41分)

1. $4+4+4+4+4+4$ 表示()个()相加, 写成乘法算式是()。

2. $5\times 3=()$, 读作(), 其中()和()是乘数, ()是积。

3. 4乘5得(), 再加上35得()。

4. 2个3相加, 可以写成() \times ()或() \times (), 这两个式子都可以用()这句口诀计算。

5. 三七二十一写成乘法算式是()或()。

6. 把口诀补充完整。

四五() 五九() 二六()

三七() ()三十五 四八()

()三十 ()二十四 二九()

7. $2\times()=12$ $()\times 5=25$

$20=4\times()$ $()\times()=14$

$2\times 8=()\times 4$ $()\times 2=3\times 4$

8. 在○里填上“ $>$ ”“ $<$ ”或“ $=$ ”。

2×5 ○9 12 ○ 5×4 3×3 ○9

$3+4$ ○ 3×4 16 ○ 4×3 5×5 ○10

2×5 ○ $5+5$ $4+4+4$ ○ 3×4

9. 括号里最大填几?






$3 \times 4 > 4 \times (\quad)$

$5 \times 3 > 2 \times (\quad)$


二、数一数, 圈一圈, 画一画。(1 题 4 分, 2 题 2 分, 共 6 分)

1. 数一数, 圈一圈。

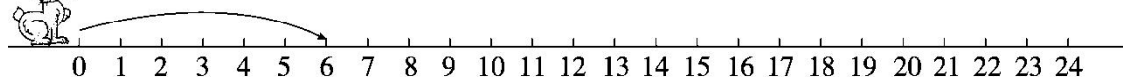
(1) 四五二十



(2) 三六十八



2. 画一画。



三、选一选。(将正确答案的序号填在括号里)(每题 1 分, 共 4 分)

1. 3 个 5 的和是多少, 用算式表示是()。

① 3×5

② $3 + 5$

③ $5 - 3$

2. 4 个人有几只手? 可以用口诀()计算。

① 三四十二

② 四四十六

③ 二四得八

3. 4×4 和下面算式()的结果不一样。

① $4 + 4$

② $4 + 4 + 4 + 4$

③ 2×8

4. 1 只青蛙 4 条腿, 7 只青蛙()条腿。

① 24

② 28

③ 32

四、判一判。(对的画“√”, 错的画“×”)(每题 1 分, 共 3 分)

1. 两个乘数都是 5, 积是 10。 ()

2. 计算 4×5 的口诀和计算 5×4 的口诀不相同。 ()

3. 摆一个三角形用 3 根小棒, 摆 5 个这样独立的三角形要用 11 根小





棒。 ()

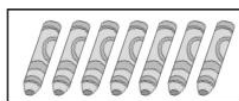
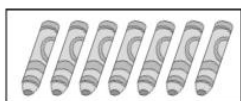
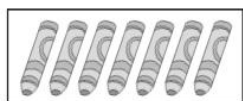
五、看图列式计算。(1题3分，2题6分，共9分)

1. 一共有多少棵树?



_____ ()

2.



每盒4元

(1)一共有多少支油画棒?

_____ ()

(2)买3盒油画棒共花多少元?

_____ ()

六、有23位乘客，4辆这样的车能坐得下吗?(7分)



限乘6人

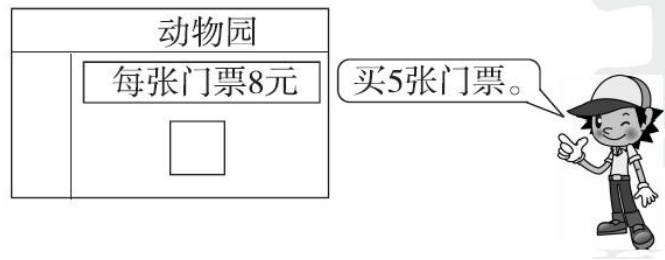
七、解决问题。(4题6分，5题9分，其余每题5分，共30分)

1. (变式题)二(1)班同学争当环保小卫士，分4个小组植树，每组植9棵树。一共植了多少棵树?







2. (变式题)买门票一共要花多少元?



3. (变式题)2016年是红军长征胜利80周年，学校举行合唱比赛。二年级把男生排成3行，女生排成2行，每行正好都是9人。二年级一共有多少人参加合唱比赛?

4.  这两天一共吃了多少颗糖?  今天吃了多少颗糖?

我昨天吃了4颗糖，
今天也是。



我今天吃的比你这两天吃的多3颗。





5. (变式题) “小小商店” 的部分商品价格如下。



每顶5元



每个2元



每个8元



每本3元

(1)买 3 顶帽子一共要花多少元？

(2)买 4 个文具盒和 1 本练习本，一共要花多少元？

(3)算式 $2 \times 8 = 16$ 可以解决什么问题？(写出一个问题)





答案

一、1. 6 4 6×4 (或 4×6)

2. 15 5 乘 3 等于 15 5 3 15

3. 20 55 4. 2 3 3 2 二三得六

5. $3 \times 7 = 21$ $7 \times 3 = 21$

6. 二十 四十五 十二 二十一 五七

三十二 五六 三八(或四六) 十八

7. 6 5 5 2 7(或 7 2) 4 6

8. $>$ $<$ $=$ $<$ $>$ $>$ $=$ $=$

9. 2 7

二、1. 略。 2. 略。

三、1. ① 2. ③ 3. ① 4. ②

四、1. \times 2. \times 3. \times

五、1. $5 \times 2 = 10$ (棵)或 $2 \times 5 = 10$ (棵)

2. (1) $7 \times 3 = 21$ (支)或 $3 \times 7 = 21$ (支)

(2) $4 \times 3 = 12$ (元)或 $3 \times 4 = 12$ (元)

六、 $6 \times 4 = 24$ (人)或 $4 \times 6 = 24$ (人)

24 人 $>$ 23 人 能坐得下。

七、1. $9 \times 4 = 36$ (棵)或 $4 \times 9 = 36$ (棵)

2. $8 \times 5 = 40$ (元)或 $5 \times 8 = 40$ (元)

3. $2 + 3 = 5$ (行)

$9 \times 5 = 45$ (人)或 $5 \times 9 = 45$ (人)





4. $4 \times 2 = 8$ (颗)或 $2 \times 4 = 8$ (颗)

$8 + 3 = 11$ (颗)

5. (1) $5 \times 3 = 15$ (元)或 $3 \times 5 = 15$ (元)

(2) $8 \times 4 = 32$ (元)或 $4 \times 8 = 32$ (元)

$32 + 3 = 35$ (元)

(3)买 2 个文具盒一共要花多少元?

(所提问题不唯一)

