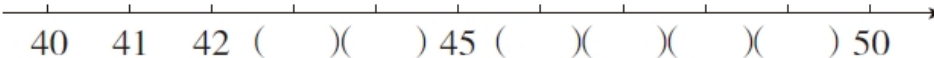







周测培优卷 6

一、我会填。(每题 4 分，共 20 分)

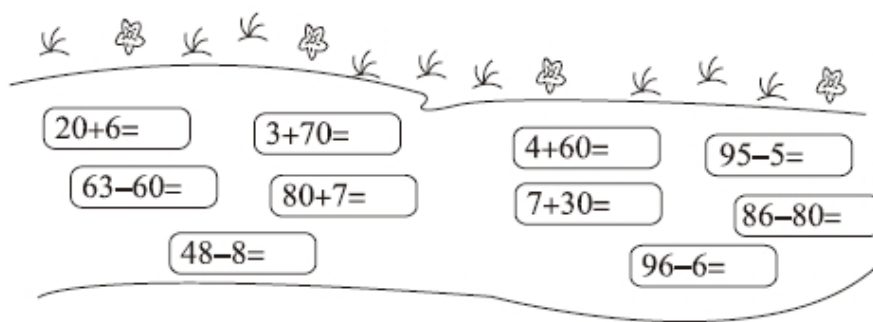
1. 最大的一位数是()，最小的两位数是()。
2. 89 后面的一个数是()，80 前面的一个数是()。
3. 

在 40 和 50 两个数中，48 更接近()，43 更接近()。

4. 10 个 10 个地数，数()次就是 100；4 个 4 个地数，12 后面的那个数是()。
5. 4 个  装一盘，装了 5 盘。如果 10 个  装一盘，这些  可以装()盘。



二、我会算。(每题 2 分，共 20 分)



三、走进生活，解决问题。(每题 12 分，共 60 分)

1. 已经折了多少只纸鹤？





$$\square \bigcirc \square = \square (\quad)$$

2.



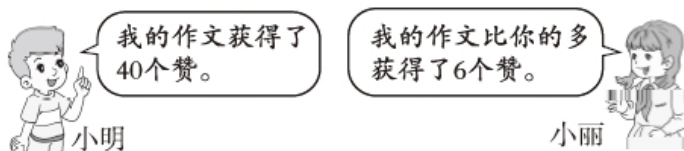
跳绳的有多少人？画“△”。跑步的有多少人？画“○”。

20 人	24 人	30 人	75 人

3. 分文具盒。



4. 网上优秀作文大比拼。



小丽的作文获得了多少个赞？

$$\square \bigcirc \square = \square (\quad)$$





5. 投球比赛。



(1) 兰兰投了多少分？

(2) 天天比兰兰少投了多少分？





答案

一、1. 9 10

2. 90 79

3. $\xrightarrow{40\ 41\ 42\ (43)\ (44)\ 45\ (46)\ (47)\ (48)\ (49)\ 50}$

50 40

4. 10 16 [点拨] 求 12 后面的那个数列式是 $12+4=16$ 。

5. 2

二、26 73 64 90 3 87 37 6 40 90

三、1. $46-6=40$ (只)

2.

20 人	24 人	30 人	75 人
△			○

3. $20+9=29$ (个) $29<30$ 口答：够。

4. $40+6=46$ (个)

5. (1) $60+4=64$ (分) 口答：兰兰投了 64 分。

[点拨] 兰兰得 10 分球的筐里有 6 个球，就是 60 分，得 1 分球的筐里有 4 个球，就是 4 分。

(2) $64-60=4$ (分) 口答：天天比兰兰少投了 4 分。

