



第五单元测试卷

一、算一算。

$$\begin{array}{cccccc}
 3+8= & 7+6= & 8+7= & 4+5+7= & 2+4+9= & \\
 9+3= & 9+6= & 9+5= & 6+6-10= & 13-3+5= & \\
 5+7= & 7+9= & 8+8= & 6-3+8= & 9-4+8= &
 \end{array}$$

二、在○里填上“>”“<”或“=”。

$$\begin{array}{ccc}
 5+7 \bigcirc 6+4 & 2+9 \bigcirc 5+7 & 9+3 \bigcirc 4+8 \\
 8+8 \bigcirc 9-1 & 6+8 \bigcirc 7+7 & 9+8 \bigcirc 8+9
 \end{array}$$

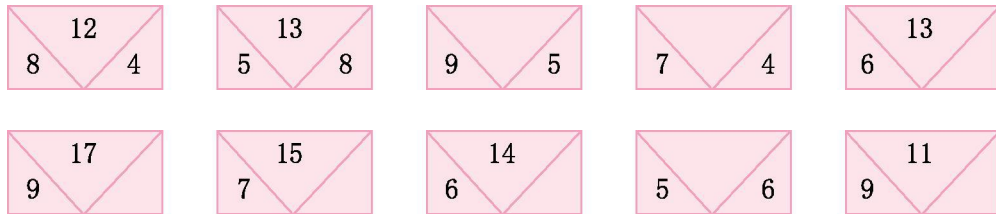
三、帮小动物找家。(连一连)



四、写出四道得数是14的算式。

$$\square + \square = \square \quad \square + \square = \square \quad \square + \square = \square \quad \square + \square = \square$$

五、找规律，填合适的数。



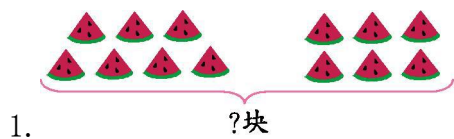
六、填表。

上午卖出	8朵	6朵	8朵
下午卖出	9朵	5朵	7朵
一共卖出	()朵	()朵	()朵

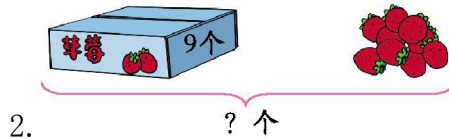




七、看图列式计算。




$$\square \bigcirc \square = \square$$



$$\square \bigcirc \square = \square$$

八、解决问题。

1.



$$\square \bigcirc \square = \square \text{ (朵)}$$

2.



$$\square \bigcirc \square = \square \text{ (个)}$$

3. 苹果树和梨树一共有多少棵?



$$\square \bigcirc \square = \square \text{ (棵)}$$





第五单元测试卷参考答案

一、 11 13 15 16 15 12 15 14 2 15

12 16 16 11 13

二、 $>$ $<$ $=$ $>$ $=$ $=$

三、提示:得数分别是 13、15、17、12、18、16, 连线略。

四、答案不唯一, 如: $9+5=14$ 、 $10+4=14$ 、 $8+6=14$ 、
 $7+7=14$ 。

五、 14 11 7 8 8 8 11 2

六、 17 11 15

七、 1. $7+6=13$ 2. $9+9=18$

八、 1. $8+8=16$ (朵) 2. $8+6=14$ (个)

3. $8+7=15$ (棵)

