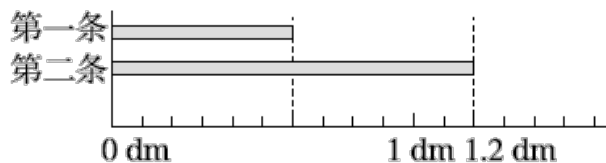




期末测试卷

一、填一填。(每空 1 分, 共 24 分)

1. 一个数由 4 个十、3 个一、9 个百分之一和 5 个千分之一组成, 这个数是(), 读作(), 保留两位小数约是()。
2. 0.09、0.009、0.9 和 0.090 中, 计数单位一样的是()和(), 大小相等的是()和()。
3. 把 946000 改写成以“万”作单位的数是(), 1549000000 四舍五入到亿位约是()。
4. 把 2.5 扩大到它的 100 倍是(), 6.8 缩小到它的 $\frac{1}{()}$ 是 0.068。
5. 某日外币兑换人民币的计算方法是 10000 美元可以兑换 64773 元人民币, 那么 1 美元可以兑换()元人民币。
6. 第一条比第二条短()dm。



7. 右面是四位同学 50 m 跑的成绩, 跑得最快的是(), 最慢的是(), 两者成绩相差()秒。



8. 7 元 3 角=()元

1.64 平方分米=()平方厘米

386 米=()千米

0.72 千克=()克





9. 在○里填上“>”“<”或“=”。

$2.05 \bigcirc 2.050$

$17.72 \bigcirc 17.27$

$\frac{3}{10} \bigcirc 0.25$

$4.05 \text{ 平方米} \bigcirc 4 \text{ 平方米 } 50 \text{ 平方分米}$

二、辨一辨。(对的画“√”, 错的画“×”)(每题 1 分, 共 5 分)

1. 小数由两部分组成, 分别是整数部分和小数部分。 ()

2. 把 $(400+4) \times 25$ 错写成 $400+4 \times 25$, 得到的结果与正确结果相差 9600。 ()

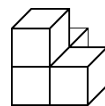
3. 在一个小数的末尾添上两个 0, 这个小数就扩大到原来的 100 倍。

()

4. 等边三角形一定是锐角三角形。

()

5. 如右图, 从左面和前面看到的形状是一样的。



()

三、选一选。(把正确答案的序号填在括号里)(每题 2 分, 共 10 分)

1. 下面小数中与 5.08 相等的是()。

A. 5.008

B. 5.80

C. 5.080

2. 大于 7.6 小于 7.9 的小数有()个。

A. 2

B. 4

C. 无数

3. 下面算式正确的是()。

A. $3+3-3+3=0$

B. $3 \times 3 - 3 + 3 = 9$

C. $3 \times 3 \div 3 \times 3 = 1$

4. 下面()组和()组长度的小棒, 分别可以围成三角形。

A. 3 cm、4 cm、5 cm

B. 5 cm、5 cm、4 cm

C. 7 cm、3 cm、4 cm

5. 小朋友做纸花, 第一小组 5 个小朋友做了 120 朵, 第二小组 5 个





小朋友做了140朵, 平均每个小组做几朵纸花? 正确列式是()。

A. $(120+140)\div 5$

B. $(120+140)\div (5\times 2)$

C. $(120+140)\div 2$

四、计算挑战。(共23分)

1. 直接写出得数。(每题1分, 共8分)

$3.07+1.6=$ $2-1.6=$ $0.38+0.5=$ $0\times 347=$

$320-90=$ $960\div 16=$ $5-2.62=$ $6.82-1.82-4=$

2. 列竖式计算。(第一题要验算)(每题2分, 共6分)

$20-10.99=$ $3.52+9.6=$ $13.12-7.8=$

3. 简便计算下面各题。(每题3分, 共9分)

65×102

$76\times 125\times 8$

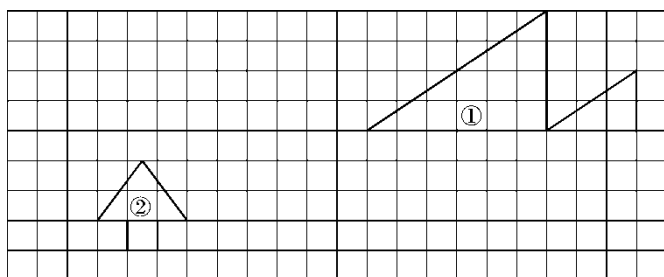
$1.28+16.7+1.72+3.3$

五、动手操作, 智慧大脑。(每题4分, 共8分)





1. 将图①补全为轴对称图形。
2. 画出将图②向右平移 4 格后得到的图形。



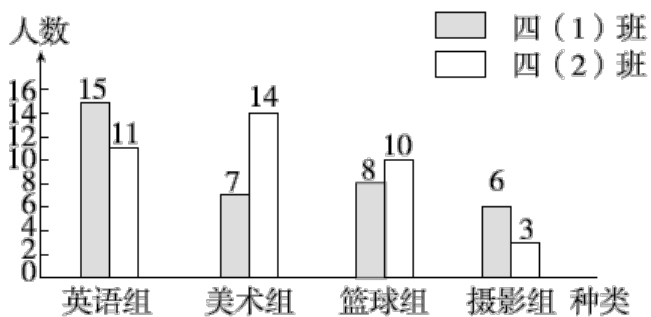
六、走进生活，解决问题。(每题 6 分，共 30 分)

1. 一只蜗牛从井底往上爬，已知第一天爬了 1.57 m，以后每一天都比前一天多往上爬 0.6 m，它三天一共能爬多少米？
2. 养蜂厂去年一共收蜂蜜 6450 kg。如果 5 箱蜜蜂一年可以酿蜂蜜 375 kg，照这样计算，这个养蜂厂去年一共养了多少箱蜜蜂？
3. 欣欣陶瓷厂接到一批生产任务，计划每天生产 72 箱青花瓷，8 天正好完成。实际 6 天完成了任务，实际每天比原计划多生产多少箱？
4. 学校有象棋、跳棋共 26 副，恰好可供 120 个学生同时进行活动。象棋 2 人下一副，跳棋 6 人下一副。则象棋和跳棋各有几副？





5. 下面是蓝天小学四(1)班和四(2)班同学参加课外活动小组的统计情况(每人限参加一种)。



(1)参加英语组的共()人。

(2)四(1)班平均每个小组有多少人?

(3)你还能提出什么数学问题?

答案





一、1. 43.095 四十三点零九五 43.10

2. 0.009 0.090 0.09 0.090

3. 94.6万 15亿 4.250 100 5.6.4773

6. 0.6 7.① ④ 1.26

8. 7.3 164 0.386 720 9. = > > <

二、1. × 2. √ 3. × 4. √ 5. ×

三、1. C 2. C 3. B 4. A B 5. C

四、1. 4.67 0.4 0.88 0 230 60 2.38 1

2. $20 - 10.99 = 9.01$

$$\begin{array}{r} 20 \\ - 10.99 \\ \hline 9.01 \end{array} \quad \text{验算:} \quad \begin{array}{r} 9.01 \\ + 10.99 \\ \hline 20.00 \end{array}$$

$3.52 + 9.6 = 13.12$

$$\begin{array}{r} 3.52 \\ + 9.6 \\ \hline 13.12 \end{array}$$

$13.12 - 7.8 = 5.32$

$$\begin{array}{r} 13.12 \\ - 7.8 \\ \hline 5.32 \end{array}$$

3. 65×102

$$= 65 \times (100 + 2)$$

$$= 65 \times 100 + 65 \times 2$$

$$= 6500 + 130$$

$$= 6630$$

$76 \times 125 \times 8$

$$= 76 \times (125 \times 8)$$

$$= 76 \times 1000$$

$$= 76000$$

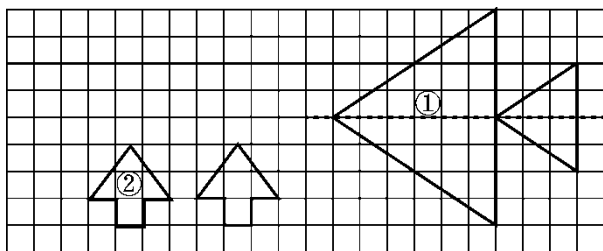
$$1.28 + 16.7 + 1.72 + 3.3$$





$$\begin{aligned} &=1.28+1.72+(16.7+3.3) \\ &=3+20 \\ &=23 \end{aligned}$$

五、



六、1. $1.57+0.6=2.17(\text{m})$ $2.17+0.6=2.77(\text{m})$

$$1.57+2.17+2.77=6.51(\text{m})$$

答：它三天一共能爬 6.51 m。

2. $375\div 5=75(\text{kg})$ $6450\div 75=86(\text{箱})$

答：这个养蜂厂去年一共养了 86 箱蜜蜂。

3. $72\times 8\div 6-72=24(\text{箱})$

答：实际每天比原计划多生产 24 箱。

4. $(120-26\times 2)\div (6-2)=17(\text{副})$

$$26-17=9(\text{副})$$

答：跳棋有 17 副，象棋有 9 副。

5. (1)26

(2) $(15+7+8+6)\div 4=9(\text{人})$

答：四(1)班平均每个小组有 9 人。

(3)四(2)班平均每个小组有多少人？(答案不唯一)

