



第四、五单元过关检测卷

一、比一比，算一算。(16分)

$$\begin{array}{l} 3 \times 8 = \\ 2 \times 9 = \\ 6 \times 5 = \\ 8 + 8 = \end{array}$$

$$\begin{array}{l} 5 \times 4 = \\ 4 \times 7 = \\ 3 \times 4 = \\ 6 \times 4 = \end{array}$$

$$\begin{array}{l} 9 \times 2 = \\ 5 \times 9 = \\ 3 \times 3 = \\ 8 \times 2 = \end{array}$$

$$\begin{array}{l} 8 \times 4 = \\ 2 \times 6 = \\ 7 \times 3 = \\ 9 \times 3 = \end{array}$$

二、在○里填上“>”“<”或“=”。(8分)

$2 \times 5 \bigcirc 5 + 2$

$2 + 2 \bigcirc 2 \times 2$

$2 \times 6 \bigcirc 3 \times 4$

$6 - 6 \bigcirc 0$











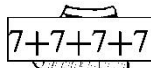
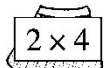
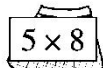
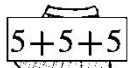
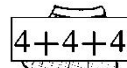
$4 \times 3 \bigcirc 90 - 78$

$34 + 2 \bigcirc 64$

$3 \times 5 \bigcirc 2 \times 9$

$9 \times 4 \bigcirc 2 \times 8$

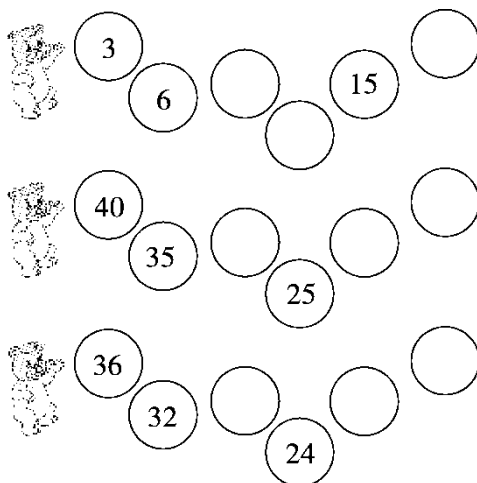
三、请给宝宝穿上裙子，戴上帽子。(连一连)(10分)

				
				
$2+2+2+2$	7×4	3×5	4×3	$8+8+8+8+8$
				





四、找规律填一填。(9分)






五、选一选。(每题2分, 共8分)

- 表示3个9相加的乘法算式是()。

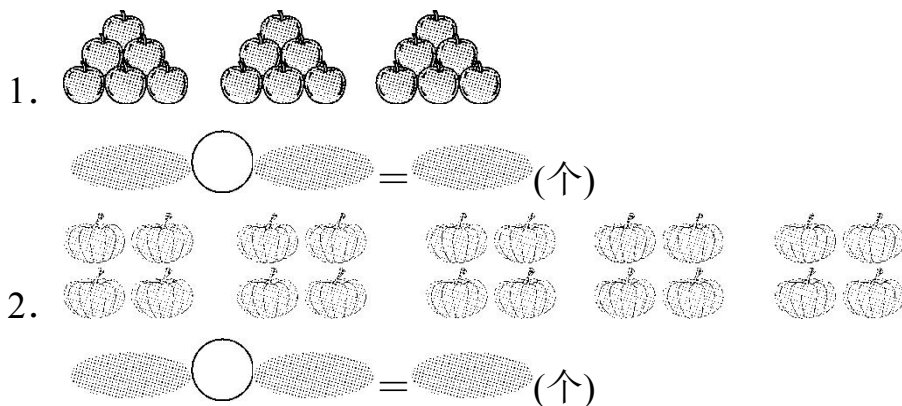
① $3+9$ ② $9+9+9$ ③ 9×3
- 积是12的算式是()。

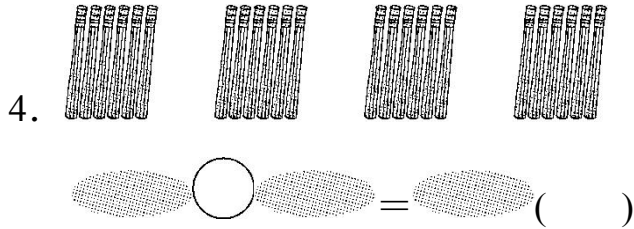
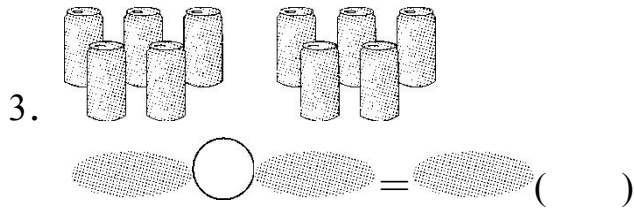
① 2×7 ② $6+6$ ③ 3×4
- 对折后能重合的是()。

①  ②  ③ 
- $3+3+3+3$ 改写成乘法算式是()。

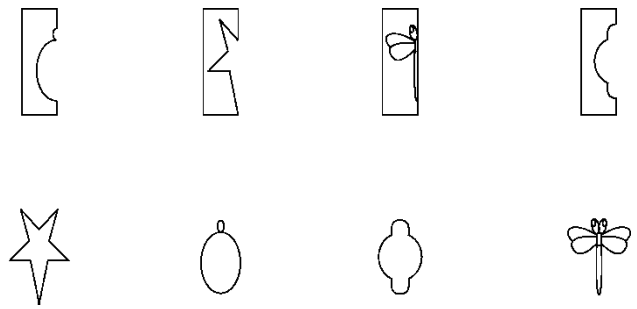
① 3×4 ② 3×3 ③ $4+3$

六、看图列式计算。(每题4分, 共16分)





七、第二行的图案是从第一行的哪个图案上剪下来的？连一连。(8分)



八、解决问题。(3题15分，其余每题5分，共25分)

1. 妈妈买了8个水杯，一共花了多少钱？



水杯5元

2. 20人租4条船够吗？




最多乘6人





3. 森林运动会。



(1)有多少只小鸟？

(2)用 3×4 能解决什么问题？

(3)再提出一个数学问题，并解答。



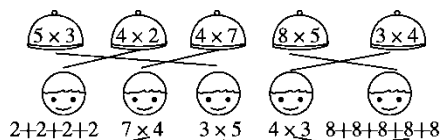


答案

一、24 18 30 16 20 28 12 24

18 45 9 16 32 12 21 27

二、> = = = = < < >



三、

四、9 12 18 30 20 15 28 20 16

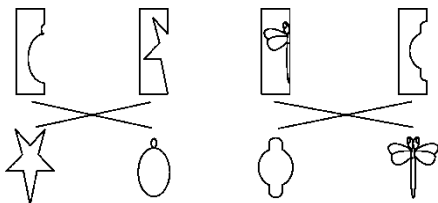
五、1. ③ 2. ③ 3. ② 4. ①

六、1. $6 \times 3 = 18$ (个)或 $3 \times 6 = 18$ (个)

2. $4 \times 5 = 20$ (个)或 $5 \times 4 = 20$ (个)

3. $2 \times 5 = 10$ (听)或 $5 \times 2 = 10$ (听)

4. $4 \times 6 = 24$ (支)或 $6 \times 4 = 24$ (支)



七、

八、1. $8 \times 5 = 40$ (元)或 $5 \times 8 = 40$ (元)

2. $4 \times 6 = 24$ (人)或 $6 \times 4 = 24$ (人) $24 > 20$ 够

3. (1) $3 \times 5 = 15$ (只)或 $5 \times 3 = 15$ (只) (2)有多少朵蘑菇

(3)略

