




## 第四单元测试卷(二)

(时间:60分钟 分数:\_\_\_\_\_)

### 一、看图填空。(20分)



1. 坐在(2,2)位置上的是( ),坐在(3,4)位置上的是( ),坐在(4,2)位置上的是( ),坐在(6,1)位置上的是( )。
2. 奇奇的位置在第6列第2行,应表示为( );小方的座位在第2列第4行,应表示为( );王岩的座位表示为(4,3),在第( )列,第( )行;小平的座位表示为(1,2),在第( )列,第( )行。

### 二、判断题。(对的画“√”,错的画“×”)(8分)

1. 我们一般把竖排叫作行,横排叫作列。( )
2. 确定第几列一般从左向右数,确定第几行一般从前往后数。( )
3. 数对 $(m,n)$ , $n$ 表示列数, $m$ 表示行数。( )
4. 知道了物体的方向就能确定物体的位置。( )

### 三、选择题。(把正确答案的序号填在括号里)(10分)

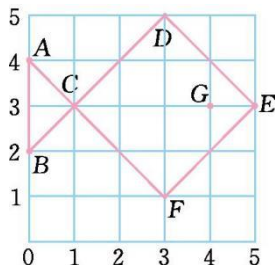
1. 丽丽坐在教室的第3列第2行,用(3,2)表示,小红坐在教室的第3列第1行应用( )表示。  
A. (1,3)      B. (3,1)      C. (1,1)      D. (3,3)
2. ( )与北偏东 $30^\circ$ 的方向相反。  
A. 北偏东 $60^\circ$       B. 北偏西 $60^\circ$       C. 南偏西 $30^\circ$       D. 南偏东 $60^\circ$





3. 小露坐的位置是(3,5),她的同桌可能的位置是( )。
- A. (3,4)            B. (3,6)            C. (4,5)            D. (4,6)
4. 学校在希望书店的东南方向,那么希望书店在学校的( )方向。
- A. 西南            B. 西北            C. 东北            D. 正北
5. 星期天乐乐去动物园玩,他所在的位置是(2,3),观赏老虎的地方是(3,6),观赏猴子的地方是(1,5),观赏狮子的地方是(2,2),观赏孔雀的地方是(4,2),其中观赏( )的地方离乐乐最近。
- A. 老虎            B. 猴子            C. 狮子            D. 孔雀

四、写出下面各点的位置。(14分)

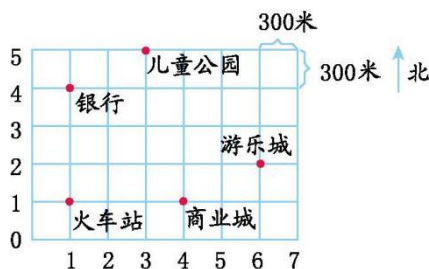


五、字母墙里的秘密。(10分)

5	y	z				
4	s	t	u	v	w	x
3	m	n	o	p	q	r
2	g	h	i	j	k	l
1	a	b	c	d	e	f
	1	2	3	4	5	6

写出数对(3,2)、(6,2)、(3,3)、(4,4)、(5,1)的位置有什么字母?

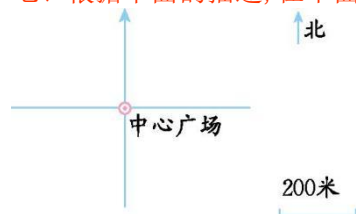
六、下面是春城部分地点的位置示意图。(22分)





1. 商业城正北 900 米处是吉祥酒店; 游乐城正西 900 米处是休闲广场; 儿童公园正南 600 米处是电信大厦。请在图中标出吉祥酒店、休闲广场、电信大厦的位置。
2. 火车站的位置用  $(1, 1)$  表示, 请分别表示出游乐城、商业城、儿童公园所在的位置。
3. 小丽从游乐城向北走 600 米, 又向西走 1500 米, 然后又向南走 900 米, 她都经过了哪些地方?

七、根据下面的描述, 在平面图上表示出各地点的位置。(16 分)



1. 希望中学在中心广场的南偏东  $45^\circ$  方向 800 米处。
2. 希望小学在中心广场的南偏西  $60^\circ$  方向 600 米处。
3. 体育馆在中心广场的北偏西  $30^\circ$  方向 200 米处。
4. 游泳馆在中心广场的北偏东  $20^\circ$  方向 400 米处。





参考答案：

一、1. 李煜 小丽 小华 王林

2. (6, 2) (2, 4) 4 3 1 2

二、1. × 2. 3. × 4. ×

三、1. B 2. C 3. C 4. B 5. C

四、A(0, 4) B(0, 2) C(1, 3) D(3, 5) E(5, 3) F(3, 1) G(4, 3)

五、i l o v e

六、1. 略

2. 游乐场(6, 2) 商业城(4, 1) 儿童公园(3, 5)

3. 吉祥酒店、银行、火车站

七、略

