




期中测试卷

一、我会填。(每空 1 分, 共 26 分)

1. 在括号里填上合适的长度单位。

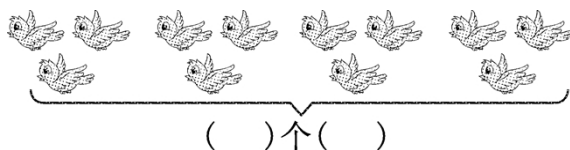


高约 7() 宽约 15() 长约 2()

2. _____ 是一条(), 量一量, 它长()厘米。

3. 比 56 多 14 的数是(), 比 70 少 8 的数是()。

4. 加法算式是(), 乘法算式是
()或(), 口诀是
()。

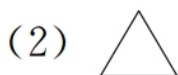


5. 72 厘米 + 28 厘米 = () 米 1 米 - 53 厘米 = () 厘米

6. 用“四五二十”这句口诀计算的两道乘法算式是()
和()。

7. 2 个 4 相加是(), 2 与 4 相加是(), 两个 4 相乘是
()。

8.



() 个角

() 个角

() 个角

() 个直角

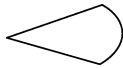

() 条线段

() 条线段





二、辨一辨。(对的画“√”, 错的画“×”)(每题2分, 共10分)

1. 左图中有三个角。()
2. 角的两条边越长, 角就越大。()
3. 摆一个单独的三角形要用3根小棒, 摆5个单独的三角形要用8根小棒。()
4. 课桌上的直角比作业本上的直角大。()
5. 左边图形中有两个钝角和两个锐角。()

三、算一算。(1、4题每题12分, 2、3题每题6分, 共36分)

1. 口算。

$$2 \times 5 = \quad 72 - 20 = \quad 57 + 9 = \quad 3 \times 5 - 8 =$$

$$43 + 40 = 4 \times 3 = 4 \times 5 = 70 + 10 - 4 =$$

$$2 \times 3 = 62 - 9 = 84 - 14 = 8 + 18 - 15 =$$

2. 在○里填上“>”“<”或“=”。

$$32 - 7 \quad \text{○} \quad 24 \quad 65 + 5 \quad \text{○} \quad 70 \quad 38 + 5 \quad \text{○} \quad 38$$

$$73 - 3 \quad \text{○} \quad 76 \quad 2 \times 2 \quad \text{○} \quad 2 + 2 \quad 4 \times 5 \quad \text{○} \quad 4 + 6$$

3. 在○里填上“+”“-”或“×”。

$$3 \quad \text{○} \quad 6 = 9 \quad 5 \quad \text{○} \quad 6 = 30 \quad 6 \quad \text{○} \quad 2 = 4$$

$$2 \quad \text{○} \quad 4 = 8 \quad 5 \quad \text{○} \quad 3 = 15 \quad 3 \quad \text{○} \quad 4 = 7$$

4. 列竖式计算。

$$25 + 38 = \quad 80 - 69 = \quad 58 - (17 + 25) =$$





$$46 - 17 = 37 + 23 = 64 + 18 - 56 =$$

四、画一画。(每题 2 分，共 4 分)

1. 画一条比下面线段短 2 厘米的线段。



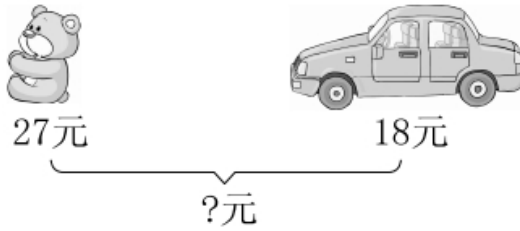
2. 画一个开口向上的直角。

五、看图列式。(每题 2 分，共 6 分)

1.

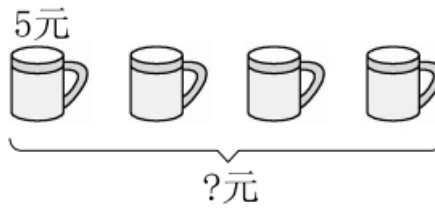






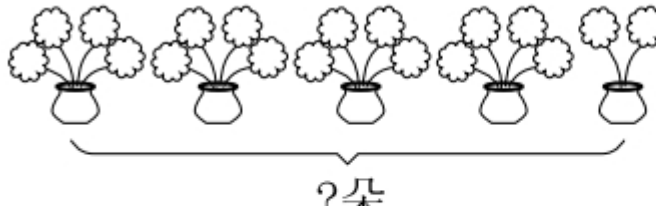
$\square \bigcirc \square = \square$ ()

2.



$\square \bigcirc \square = \square$ ()

3.



$\square \bigcirc \square \bigcirc \square = \square$ ()

六、解决问题。(1、2、3 题每题 4 分，4 题 6 分，共 18 分)

1. 妈妈买来 1 米布，做台布用去了 60 厘米，还剩多少厘米？

2. 小红有 36 个气球，小华比小红多 21 个。小华有多少个气球？

小红和小华一共有多少个气球？

3. 车上原来有 50 人，现在车上有多少人？





4. 购物。



(1)青青买了4个文具盒，花了多少钱？

(2)丽丽买了一个书包和一只玩具熊，付给售货员50元，应找回多少钱？

(3)请提一个用乘法计算的问题并解答。





答案

一、1.米 厘米 米 2.线段 2 3.70 62

4. 4 3 $3+3+3+3=12$

$3\times 4=12$ $4\times 3=12$ 三四十二

5. 1 47 $6.4\times 5=20$ $5\times 4=20$ 7.8 6 16

8. (1)5 2 (2)3 3 (3)2 3

二、1. \times 2. \times 3. \times 4. \times 5. \sqrt

三、1.10 52 66 7 83 12 20 76 6 53 70 11

2. $>$ $=$ $>$ $<$ $=$ $>$ 3. $+$ \times $-$ \times \times $+$

4. 63 11 16 29 60 26

四、略

五、 $1.27+18=45$ (元) $2.4\times 5=20$ (元)

3. $4\times 4+2=18$ (朵)或 $5\times 4-2=18$ (朵)

六、1.1米=100厘米 $100-60=40$ (厘米)

2. $36+21=57$ (个) $36+57=93$ (个)

3. $50-8+10=52$ (人)

4. (1) $4\times 5=20$ (元) (2) $50-8-24=18$ (元)

(3)买5只玩具熊需要多少钱? $8\times 5=40$ (元)(答案不唯一)

