




### 第三单元过关检测卷

一、填一填。(每空 1 分, 共 25 分)

- ( ) 个一是十, 100 里面有( ) 个十。
- 7 个十和 8 个一合起来是( ); 90 里面有( ) 个十。
- 与 70 相邻的两个数分别是( ) 和( ); 39 和 43 之间的数有( )。
- 68 前面的第 4 个数是( ); 75 后面的第 5 个数是( )。
- 最小的两位数是( ), 最大的两位数是( )。
- 按规律填数。  
37, 38, 39, ( ), ( ), ( ), ( )。  
27, 37, 47, ( ), ( ), ( ), ( )。
- 根据 1~100 的顺序表, 在空白的方框内填上合适的数。

26	

8.



( ) 只 , ( ) 只 , 一共( ) 只小动物。

二、辨一辨。(每题 1 分, 共 5 分)

- 读数和写数都从个位开始。( )
- 一个数比 90 大, 比 95 小, 这样的数有 4 个。( )



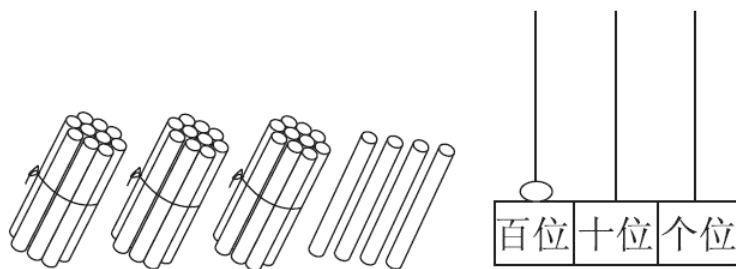


- 3. 百位是第三位。( )
- 4. 有最大的两位数, 没有最小的三位数。( )
- 5. 在计数器上, 用 5 颗珠子可以组成 4 个不同的两位数。( )

三、选一选。(每题 2 分, 共 10 分)

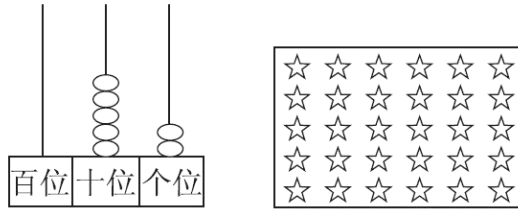
- 1. 76 和 82 之间有( )个数。  
A. 5                                      B. 6                                      C. 7
- 2. 100 比( )多得多。  
A. 30                                      B. 85                                      C. 90
- 3. 用 5、0、9 能组成( )个不同的两位数。(每个数只能用一次)  
A. 6                                      B. 4                                      C. 3
- 4. 49 后面的第一个数是( )  
A. 48                                      B. 40                                      C. 50
- 5. 张老师和王老师打同一份稿件, 张老师用了 55 分钟, 王老师用了 31 分钟, ( )打得快。  
A. 张老师                                      B. 王老师                                      C. 无法比较

四、读数和写数。(8 分)



读作: ( )                                      读作: ( )  
写作: ( )                                      写作: ( )





读作：(      )                      读作：(      )

写作：(      )                      写作：(      )

五、比一比。(1 题 8 分，2 题 4 分，共 12 分)

1. 在○里填上“>”“<”或“=”。

23○32                      90○89

75○78                      100○99

68○64                      79○95

81○88                      45○31

2. 按从大到小的顺序排列下面各数。

45 38 63 74 12 56

(      ) > (      ) > (      ) > (      ) > (      ) > (      )

六、按要求各写出 4 个两位数。(9 分)

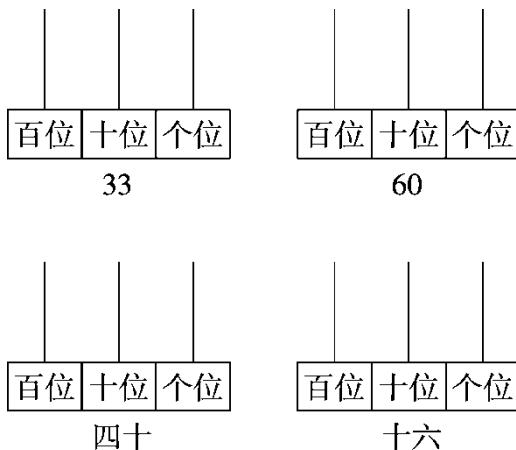
十位上是  
8的数

十位上的数字  
比个位上的数  
字大3的数

个位上是  
6的数

七、画珠子表示下面的数。(8 分)





八、聪聪和明明这次的体育达标成绩是由下面四张卡片上的数字组成的数。(9分)

7
6
8
9

聪聪的成绩是最大的两位数，聪聪考了( )分，明明的成绩是最小的两位数，明明考了( )分；你认为聪聪的成绩比明明( )。(填“高一些”“高得多”“低一些”“低得多”)

九、2016年感动中国十大人物中的孙家栋、支月英、潘建伟这一年的年龄如下表：(1题4分，2题10分，共14分)

孙家栋	支月英	潘建伟
87岁	56岁	46岁

1. 孙家栋的年龄比潘建伟的年龄( )，潘建伟的年龄比支月英的( )。

- ①大一些                  ②小一些                  ③大得多                  ④小得多

2. 这一年，排球教练郎平的年龄比潘建伟大一些，篮球运动员姚明的年龄比孙家栋小得多。

(1) 郎平的年龄是多少岁？(在合适的答案下面画“△”)





76 岁	57 岁	25 岁

(2) 姚明的年龄是多少岁？（在合适的答案下面画“○”）

90 岁	60 岁	37 岁





## 答案

一、1. 10 10 2. 78 9

3. 69 71 40、41、42

4. 64 80 5.10 99

6. 40 41 42 43 57 67 77 87

7. 

26	27
36	37

8. 20 20 40

二、1.  $\times$  2.  $\sqrt{\quad}$  3.  $\times$  4.  $\times$  5.  $\times$

三、1. A 2. A 3. B 4. C 5. B

四、三十四 34 一百 100

五十二 52 三十 30

五、1.  $< > < > > < < >$

2. 74 63 56 45 38 12

六、80、81、82、83

96、85、74、63

16、26、36、46(答案不唯一)

七、略

八、98 67 高得多

九、1. ③ ②

2. (1)在“57岁”下面画“ $\Delta$ ”

(2)在“37岁”下面画“ $\circ$ ”

