

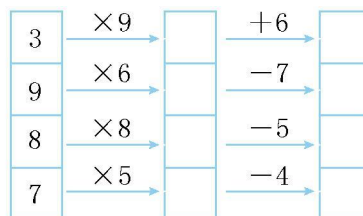
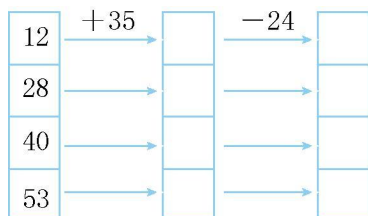


第九单元测试卷 (A)

一、直接写出得数。

$28+9=$ $12+40=$ $9+46=$ $25-7=$
 $12+7=$ $24+62=$ $80+10=$ $52-40=$

二、算一算。

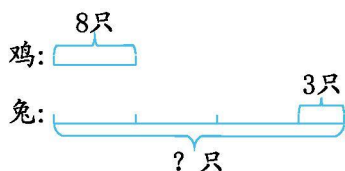


三、用竖式计算。

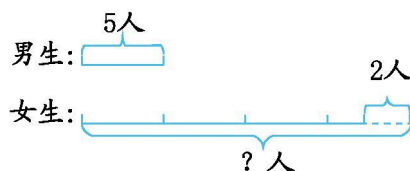
$26 \div 6=$ $52 \div 8=$ $47 \div 7=$ $70 \div 8=$ $21 \div 9=$

四、看图列式计算。

1.



2.



五、下面是二年级4个班在运动会上的得分情况,请把表格填写完整。

	二(1)班	二(2)班	二(3)班	二(4)班
男生得分	25分	是二(2)班女生得分的2倍	比二(2)班女生得分的3倍少5分	18分
女生得分	比二(1)班男生多12分	8分	6分	比二(2)班女生得分的3倍多7分
总分	()分	()分	()分	()分





六、解决问题。

1. 张奶奶今年养了 9 只公鸡,养的母鸡的只数比公鸡的 4 倍多 6 只。张奶奶今年养了多少只母鸡?

2. 东东、月月和童童三人一共收集了 27 节废电池。他们平均每人收集了多少节废电池?东东收集的废电池比他们平均每人收集的数量多 5 节。东东收集了多少节废电池?

3. 国庆节到了,学校要搬 50 盆花布置喷水池。他们还要搬多少盆?



4. 同学们种了 60 棵月季花,又种了 4 行菊花,每行 8 棵。种的月季花比菊花多多少棵?

5. 小猴摘桃子,摘了 63 个桃子,每 9 个桃子装一箱,小猴只有 5 个纸箱,还缺几个纸箱?





参考答案

一、 37 52 55 18 19 86 90 12

二、 47 23 63 39 75 51 88 64 27 33 54 47 64 59

35 31

三、 4.....2 6.....4 6.....5 8.....6

2.....3

四、 1. $8 \times 3 = 24$ (只) $24 + 3 = 27$ (只)

2. $5 \times 4 = 20$ (人) $20 - 2 = 18$ (人)

五、 62 24 25 49

六、 1. $9 \times 4 = 36$ (只) $36 + 6 = 42$ (只)

2. $27 \div 3 = 9$ (节) $9 + 5 = 14$ (节)

3. $8 \times 3 = 24$ (盆) $50 - 24 = 26$ (盆)

4. $4 \times 8 = 32$ (棵) $60 - 32 = 28$ (棵)

5. $63 \div 9 = 7$ (个) $7 - 5 = 2$ (个)

