















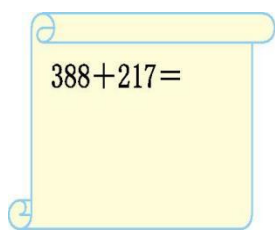
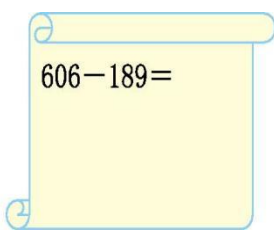
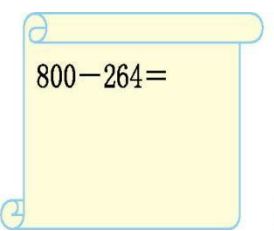
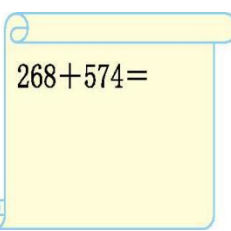
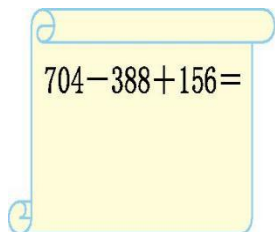
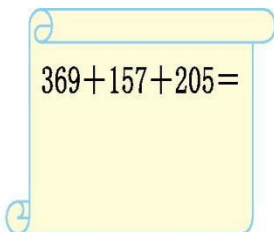
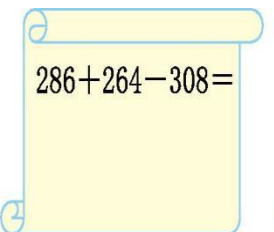
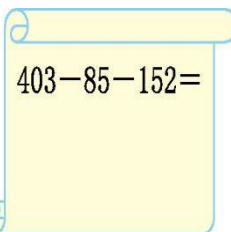
第五单元测试卷（1）

(时间:60分钟 分数:_____)

一、连一连。(12分)

 801-658	 500-386	 438+562	 768+157	 175+278	 900-156
 453	 1000	 744	 143	 114	 925









二、用竖式计算。(24分)

 388+217=	 606-189=	 800-264=	 268+574=
 704-388+156=	 369+157+205=	 286+264-308=	 403-85-152=

三、在○里填上“>”“<”或“=”。(12分)

532-268 ○ 300	236+384 ○ 600	205-105 ○ 100
406-395 ○ 111	627-348 ○ 355	703-154 ○ 569

四、找规律，填一填。(12分)

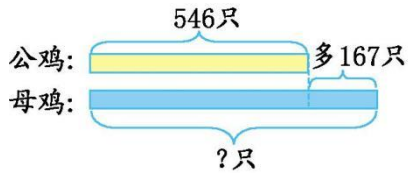
 812 329 483	 1000 738 262	 282 568	 627 254
 925 437	 465 389	 801 214	 827 359



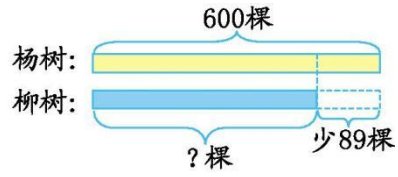


五、看图列式计算。(6分)

1.



2.

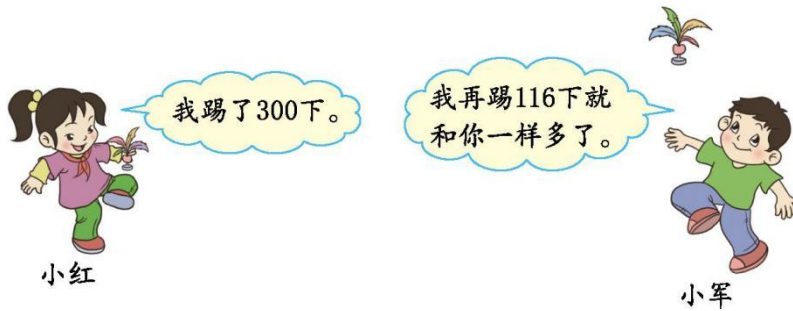


六、解决问题。(34分)

1. 实验小学开展集邮活动,小明收集了 253 枚邮票,小亮比小明少收集 68 枚。小亮收集了多少枚邮票?(6分)

2. 我国现有爬行动物 376 种,比两栖类动物多 92 种。两栖类动物有多少种?(6分)

3. 踢毽子比赛。(7分)



小军踢了多少下?





4. 水城小学开展了“读书识字”活动,下面是平平 and 军军的识字情况。(15分)

姓名	会读字数	会写字数
平平	502 个	298 个
军军	601 个	376 个

(1) 平平会读的字和会写的字一共有多少个?

(2) 军军会读的字比会写的字多多少个?

(3) 你还能提出什么数学问题?试着解答出来。





参考答案

一、得数分别为 143、114、1000、925、453、744。连线略

二、605 417 536 842 472 731 242 166

三、< > = < < <

四、850 373 488 854 587 468

五、1. $546+167=713$ (只) 2. $600-89=511$ (棵)

六、1. $253-68=185$ (枚) 2. $376-92=284$ (种)

3. $300-116=184$ (下)

4. (1) $502+298=800$ (个)

(2) $601-376=225$ (个) (3)答案不唯一,如:军军会读的字比平平会读的字多多少个? $601-502=99$ (个)

