



第四、五单元过关检测卷

一、填一填。(第4题6分, 第5题8分, 第6题6分, 其余每空1分, 共36分)

1. 把乘法口诀补充完整。

三四() 二()十八 四()二十八
 ()四十 五()三十五 ()二十七

2. (1)两个乘数都是4, 积是(); 2个4相加的和是()。

(2)2和5相加, 和是(); 2和5相乘, 积是()。

3. 在○里填上“>”“<”或“=”。

$2 \times 5 \bigcirc 5 + 2$

$2 + 2 \bigcirc 2 \times 2$

$2 \times 6 \bigcirc 3 \times 4$

$6 - 6 \bigcirc 0$

$4 \times 3 \bigcirc 90 - 68$

$34 + 2 \bigcirc 64$



4. 按规律填一填。

3 6 15 ○ ○
 40 35 ○ ○ ○
 36 32 ○ ○ ○
 24 ○ ○





5.



6. 在□里填上合适的数。

$$\square \times 3 = 12$$

$$6 \times \square = 18$$

$$5 \times \square = 40$$

$$\square \times \square = 30$$

$$\square \times \square = 25$$

$$\square \times \square = 14$$

二、选一选。(将正确答案的序号填在括号里。每题 2 分, 共 10 分)

1. 表示 3 个 9 相加的乘法算式是()。

① $3+9$

② $9+9+9$

③ 9×3

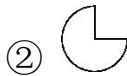
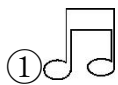
2. 积是 12 的算式是()。

① 2×7

② $6+6$

③ 3×4

3. 对折后能重合的是()。



4. 把 $3+3+3+3$ 改写成乘法算式是()。

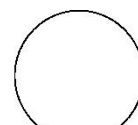
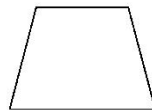
① 3×4

② 3×3

③ 3×5

5. 用下面的小棒和硬纸板做陀螺, 哪张硬纸板做成的陀螺转得最稳?

()



①

②

③





三、请给宝宝们穿上裙子、戴上帽子。(连一连。10分)

5×3

4×2

4×7

8×5

3×4



$2+2+2+2$



7×4



3×5



4×3



$8+8+8+8+8$

$7+7+7+7$

2×4

5×8

$5+5+5$

$4+4+4$

四、下面哪些图形通过一次对折即可从折痕处用剪刀剪出来？在下面的()里画“√”。(8分)



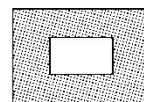
()



()



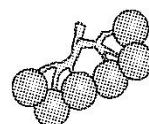
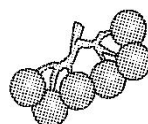
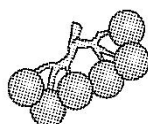
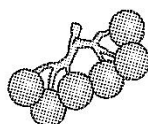
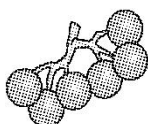
()



()



五、看图列式计算。(每题3分，共12分)

1.



$\square \bigcirc \square = \square ()$

2.

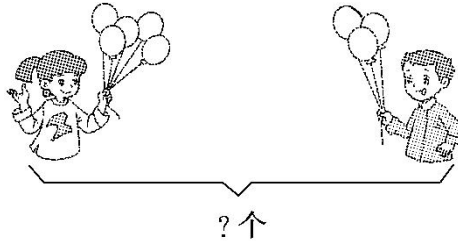


$\square \bigcirc \square = \square ()$





3.



$$\square \bigcirc \square = \square \quad (\quad)$$

4.



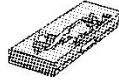
$$\square \bigcirc \square = \square \quad (\quad)$$

六、解决问题。(每题 12 分，共 24 分)

1. “蓝精灵商店”部分商品价格如下。



6元/块



5元/个



8元/只



24元/个

(1)乐乐买 5 个文具盒花了多少钱?

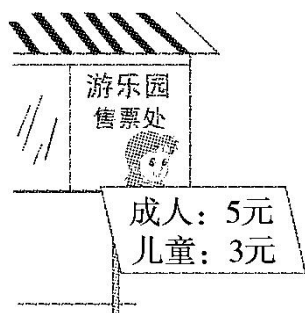
(2)亮亮带了 20 元钱，他想买 3 块蛋糕。钱够吗?





(3)请你再提出一个数学问题并解答。

2. 欢欢和爷爷、奶奶、爸爸、妈妈一起去游乐园。



(1)他们买成人票花了多少钱?

(2)他们一共花了多少钱?





答案

一、1.十二 九 七 五八 七 三九

2.(1)16 8 (2)7 10

3.> = = = < <

4.9 12 18 21 30 20 15 10

28 20 16 12

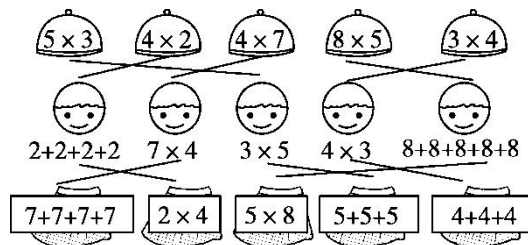
5.2 9 3 6 9 2 6 3

4 6 6 4 3 8 8 3

6.4 3 8 5 6 5 5 2 7

二、1.③ 2.③ 3.② 4.① 5.③

三、



四、(√) (√) () (√)

五、 $1.5 \times 6 = 30$ (个) $2.4 \times 5 = 20$ (人)

$3.5 + 3 = 8$ (个) $4.6 \times 4 = 24$ (个)

六、1.(1) $5 \times 5 = 25$ (元)

(2) $3 \times 6 = 18$ (元) $20 > 18$ 钱够

(3)(答案不唯一)买5只玩具熊需要多少钱?

$5 \times 8 = 40$ (元)

2.(1) $4 \times 5 = 20$ (元) (2) $20 + 3 = 23$ (元)

