

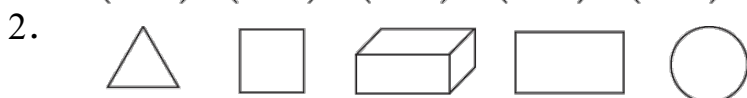


第三单元过关检测卷

一、找出每组中不是同一类的，在下面的()里画“△”。(每题3分，共6分)



() () () () ()




() () () () ()

二、填一填。(每空2分，共20分)

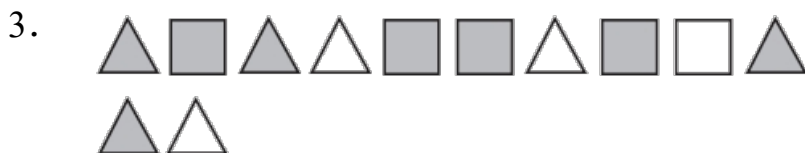
1. 下面是东方商厦各楼层经销商品的布局表。

楼层	一楼	二楼	三楼	四楼
经销商品	食品	家用电器	服装	家具

王阿姨要买一台吸尘器和一个茶几，她应该分别到()楼和()楼。



这7只动物可以按()和()分两类。






这些图形可以按()去分，也可以按()去分。

4.




图中人物可以按()去分，也可以按()去分。

5. 填序号。



水果有()，蔬菜有()。

三、快乐的课外活动。(1 题 8 分，2 题 4 分，共 12 分)



1. 按活动项目分一分、涂一涂。


打乒乓球 踢毽子 打羽毛球 跳绳



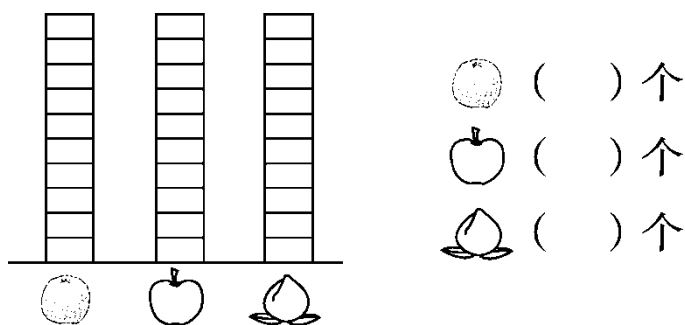


2. 如果把这些同学分成两组，可以怎样分？填一填。

四、图片中的水果分一分。(1 题 18 分，2 题 6 分，共 24 分)



1. 按水果的种类分一分，在下面涂一涂、填一填。



一共()个，()最多，()最少。

橘子比桃多几个？

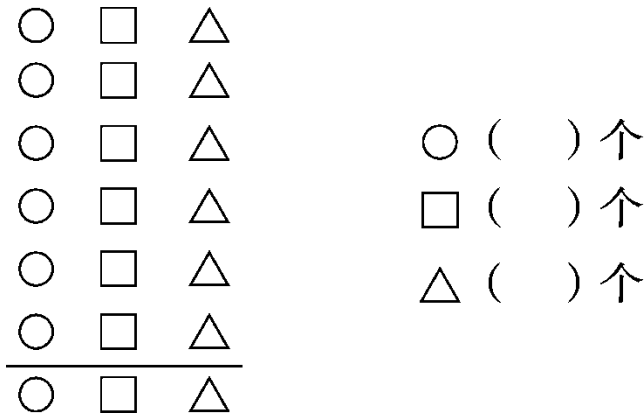
$$\square \bigcirc \square = \square \text{ (个)}$$

桃比苹果少几个？

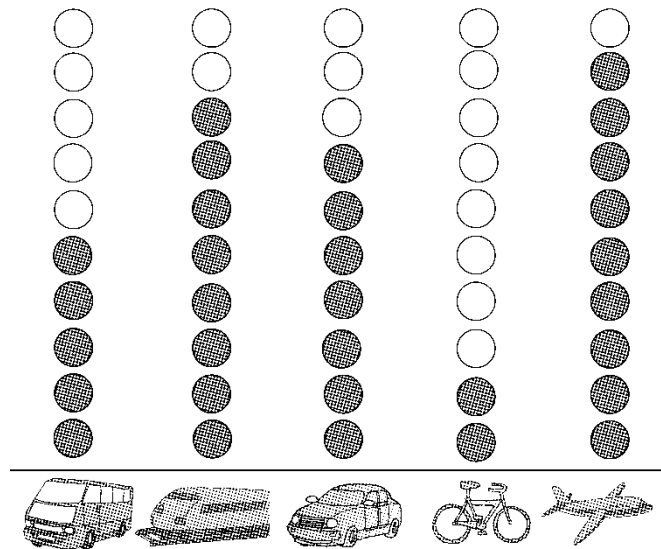
$$\square \bigcirc \square = \square \text{ (个)}$$

2. 按卡片的形状分一分，在下面涂一涂、填一填。


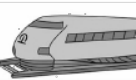







五、下面是某班同学最喜欢的交通工具调查情况。(1 题 10 分，5 题 4 分，其余每题 2 分，共 20 分)



1. 根据上图填写下表。

					
人数					

2. 最喜欢()的同学最多。

3. 最喜欢()的同学最少。

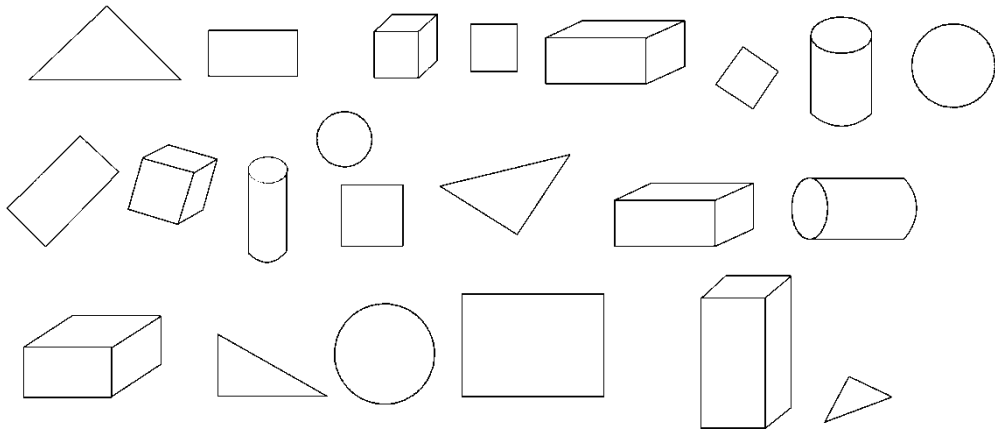
4. 最喜欢坐飞机的比最喜欢坐火车的多()人。



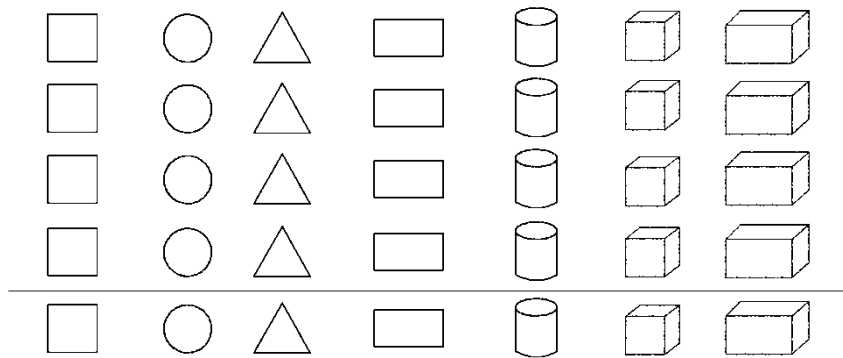


5. 自己提出一个问题并解答。

六、图形世界。(1 题 14 分，2 题 4 分，共 18 分)



1. 按形状分一分，涂一涂。



2. 如果把这些图形分成两组，可以怎样分？把分组的结果表示出来。





答案

一、1. ()(Δ)() () ()

2. () ()(Δ)() ()

二、1. 二 四

2. 水中游的 地上跑的(答案不唯一)

3. 颜色 形状(答案不唯一)

4. 大人与小孩 男女(答案不唯一)

5. ①③⑤⑦⑨⑩⑪ ②④⑥⑧⑫

三、1. 略

2.

	男生	女生
人数	7	8

 (答案不唯一)

四、1. 涂略 7 6 3 16 橘子 桃 $7-3=4$ $6-3=3$

2. 涂略 4 6 6

五、1. 5 8 7 2 9

2. 坐飞机 3.骑自行车

4. 1 5. 略

六、1. 略

2.

	平面图形	立体图形
个数	13	9

 (答案不唯一)

