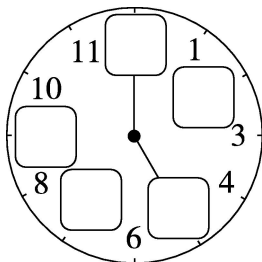




周测培优卷 11

一、想一想，填一填。(第1题7分，其余每空4分，共23分)




1. 了解钟面。

(1)按照顺序在钟面上填数。

(2)钟面上有()针和()针。

2. 龟兔赛跑的故事。



(1)乌龟和兔子是()时开始比赛的。

(2)兔子到达终点的时间是下午()时，而乌龟到达终点的时间是下午()时。

(3)这次赛跑，()赢了。

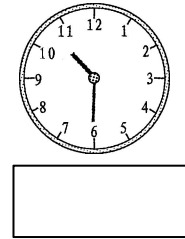
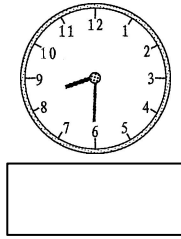
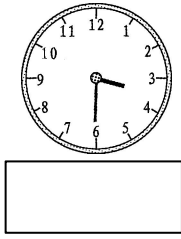
二、我会认时间。(每题5分，共30分)











三、我会画。画出缺少的分针。(每题 5 分，共 20 分)

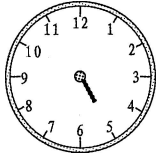
1. 6 时了，该起床了。

2. 7 时半了，该上学了。

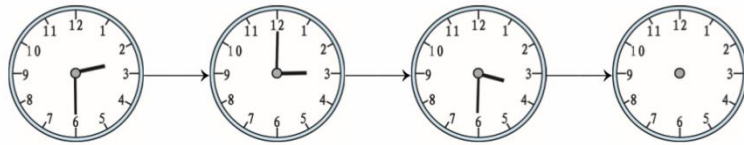


3. 5 时了，该做作业了。


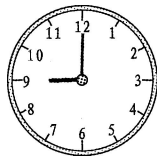
4. 9 时半了，该睡觉了。



四、我会找时间规律。(按规律画一画)(7 分)




五、我知道时间的先后关系。在横线上写出 1 时后的时间。(每题 3 分，共 12 分)



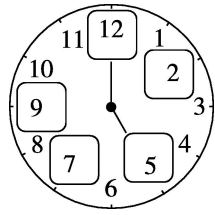
六、考考你的眼力！哪个表上的指针是错的？在它旁边的 里画“×”。

(8 分)





答案



一、 1. (1)

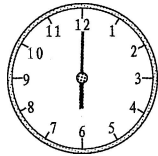
(2)时 分

2. (1)11 (2)1 2 (3)兔子

二、 8: 00 3: 00 6: 00

3: 30 8: 30 10: 30

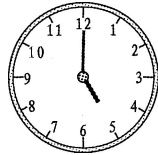
三、 1.




2.



3.



4.



四、

五、 3: 30 10: 00 6: 00 9: 00

六、

