



教材过关卷(4)

一、填空题。(每空 2 分, 共 30 分)


1. 称较轻的物品的质量, 常用()作单位, 称较重物品的质量, 常用()作单位。

2. 在()里填上合适的数。

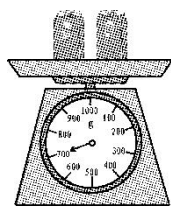
7 千克=()克 3500 克=()千克()克

5000 克=()千克 1 千克 300 克=()克

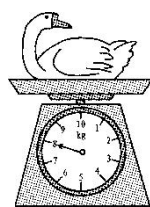
3. 星期天, 小明和妈妈要去姥姥家, 他们买了一只 2()的鸡, 一条 800()的鱼和一个重 5()的大西瓜。他们在去姥姥家的路上看见一个放羊的小男孩手中拿着一个 200()的苹果, 赶着一只 15()的羊羔。



()千克



()克



()千克

二、判断题。(每题 3 分, 共 12 分)

1. 一桶花生油重 50 克。 ()

2. 2 袋盐大约重 1 千克。 ()

3. 物体的轻重与高矮有关系, 物体越高就越重。 ()

4. 2 千克西瓜比 2 千克棉花重。 ()





三、选择题。(每题3分, 共12分)

1. 一辆卡车能装5000()的货物。
A. 厘米 B. 克 C. 千克
2. 1只鸡和3只鸭共重7千克, 鸡重1千克, 平均每只鸭重()。
A. 6千克 B. 4千克 C. 2千克
3. 一个乒乓球重5克, 8个乒乓球重()。
A. 35克 B. 40克 C. 80克
4. 一头牛重380千克, 一匹马比一头牛轻一些, 一头猪比一头牛轻得多。一匹马重()千克, 一头猪重()千克。
A. 390 B. 370 C. 150

四、按要求完成题目。(1题6分, 2题10分, 共16分)

1. 在()里填上“>”“<”或“=”。

200克() 1千克 2千克() 5千克
6千克() 600克 5千克() 5000克
990克() 1千克 305克() 350克

2. 排排队。(按从轻到重的顺序排列)

800克 699克 8千克 808克 2千克

4kg 4g 267g 3kg 990g 501g





五、解决问题。(每题 10 分，共 30 分)

1. 妈妈买回 20 千克大米，如果每天吃 3 千克，够不够吃一个星期？
2. 6 个苹果重 2 千克，那么 30 个这样的苹果重多少千克？
3. 爸爸买了一个重 5 千克的西瓜，付了 26 元，找回 6 元，每千克西瓜多少元？





答案

一、1. 克 千克

2. 7000 3 500 5 1300

3. 千克 克 千克 克 千克

4. 1 700 8

二、1. \times 2. $\sqrt{\quad}$ 3. \times 4. \times

三、1. C 2. C 3. B 4. B C

四、1. $<$ $<$ $>$ $=$ $<$ $<$

2. 699 克 $<$ 800 克 $<$ 808 克 $<$ 2 千克 $<$ 8 千克

$4\text{g} < 267\text{g} < 501\text{g} < 990\text{g} < 3\text{kg} < 4\text{kg}$

点拨:先把单位统一成克后, 再比较数的大小即可。

五、1. $3 \times 7 = 21$ (千克) $21 > 20$

答: 不够吃一个星期。

2. $30 \div 6 = 5$

$5 \times 2 = 10$ (千克)

答: 30 个这样的苹果重 10 千克。

3. $26 - 6 = 20$ (元)

$20 \div 5 = 4$ (元)

答: 每千克西瓜 4 元。

