



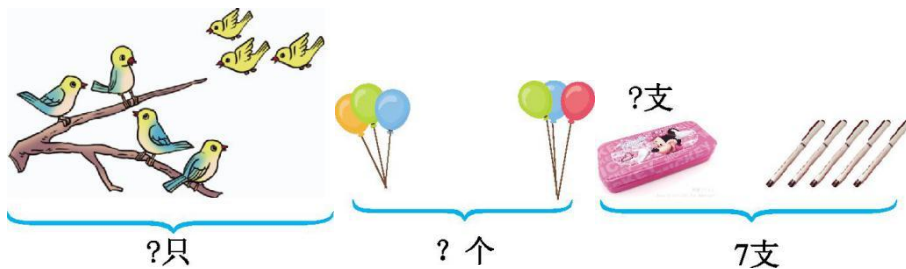
### 第三单元测试卷（四）

时间：60分钟 满分：100分 分数：\_\_\_\_\_

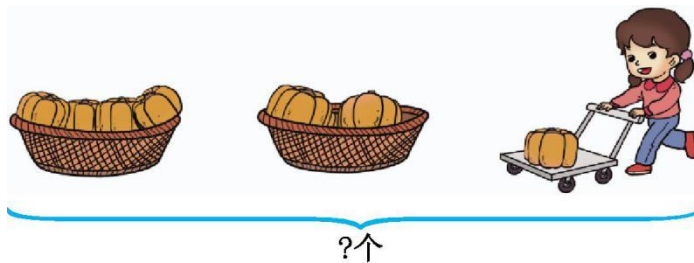
#### 一、看谁算得又对又快。（24分）

2+3=	2+7=	10-8=	2+8=	7-5=	8-3+4=
9-3=	6+3=	10-9=	5+5=	7+3=	9-4-2=
4-4=	5+4=	10-3=	3+6=	1+8=	9-7+4=
10-2=	5+2=	10-4=	5-2=	7-3=	9+1-5=

#### 二、看图列算式。（18分）



$\square \bigcirc \square = \square$  (只)     $\square \bigcirc \square = \square$  (个)     $\square \bigcirc \square = \square$  (支)



$\square \bigcirc \square \bigcirc \square = \square$  (个)



$\square \bigcirc \square \bigcirc \square = \square$  (个)




$\square \bigcirc \square \bigcirc \square = \square$  (个)





三、先计算, 再把得数是7的涂上蓝色。(8分)



$5+2$	$3+6$	$4+3$	$10-3$
$9-2$	$0+7$	$8-1$	$2+5$
$10-4$	$10-5$	$9-4$	$10-3$

四、连一连。(4分)

$0+5$

$8-8$

$9-8$

$10-7$

0

1

3

5

五、在○里填上“>”“<”或“=”。(12分)

$4+1 \bigcirc 6$

$6-2 \bigcirc 3$

$7-2 \bigcirc 4$

$5-2 \bigcirc 6+1$

$3+5 \bigcirc 7$

$6+2 \bigcirc 6-2$

$3+5 \bigcirc 7$

$9-7 \bigcirc 3$

$4+4 \bigcirc 4+5$

$8-2 \bigcirc 2+5$

$10-7 \bigcirc 9-6$

$4+5 \bigcirc 5+4$

六、帮小马算一算。(8分)

$3+5-4$

$8-2-3$

$2+1+3$

$9-4-5$

$9-3+1$

$5-2+2$

$9-7+1$

$6-6+2$





七、把横行、竖列的三个数相加，得数填在□里。(12分)

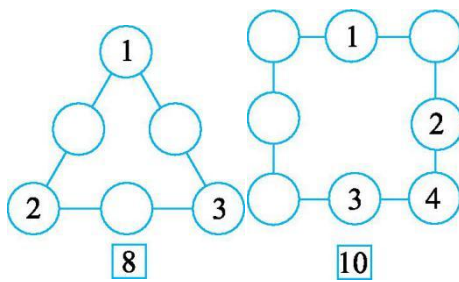
2	3	5
1	2	2
4	0	3

□	6	0	3	□
□	2	8	0	□
□	1	2	7	□

□   □   □      □   □   □

八、在○里填上合适的数，使每条线上的数相加都等于下面□里的数。

(14分)





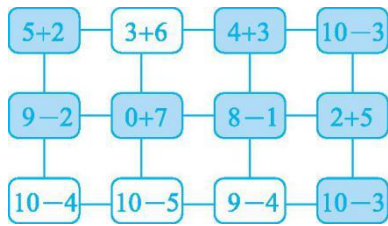
参考答案：

一、5 9 2 10 2 9 6 9 1 10 10 3 0 9

7 9 9 6 8 7 6 3 4 5

二、 $4+3=7$   $3+3=6$   $7-5=2$   $4+2+1=7$

$7-3+5=9$   $10-3-2=5$



三、

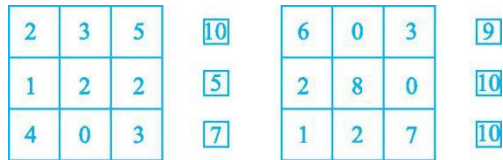


四、

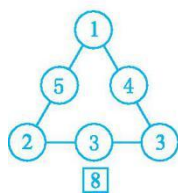
< > > < > > > < <

< = =

六、4 3 6 0 7 5 3 2



七、



八、

