





第五单元测试卷 (1)

(时间:60分钟 分数:_____)

一、连一连。(8分)




二、右面这些图分别是谁看到的?连一连。(8分)



三、上课时,坐在淘气前面的同学是谁?(4分)




四、三个小朋友看到的分别是哪一幅图?在括号里填上小朋友的名字。(12分)

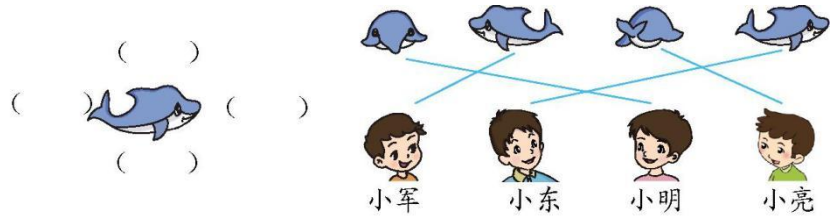




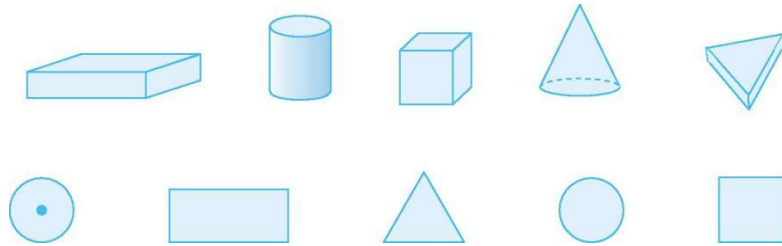
五、连一连, 并说一说他们分别是从小电视机的哪个位置看到的。(12分)



六、把他们的名字填在相应的括号里。(16分)



七、下列物体从上往下看, 分别是哪个图形? 将相应的图形用线连起来。(20分)

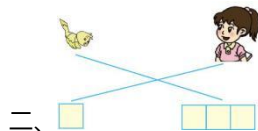
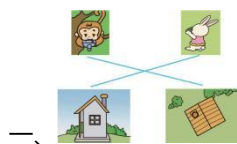


八、在右面的四幅图中写上小朋友的名字。(20分)



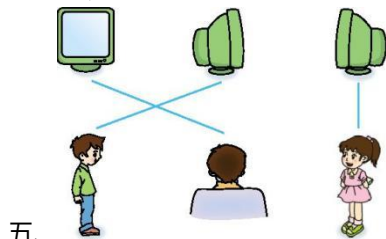


参考答案

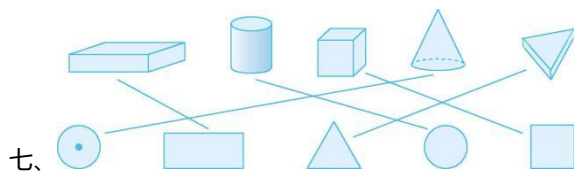


三、张玲

四、小明 小亮 小红



爸爸是从正面看到的,弟弟和姐姐是从侧面看到的。



八、小杰 小华 小明 小亮

