



第二单元过关检测卷

一、相信你会全算对。(16分)

$16-9=$	$3+9+5=$	$13-8=$	$11-5+9=$
$12-4=$	$13-6+7=$	$14-6=$	$15-6+9=$
$6+8=$	$12-5+8=$	$13-5=$	$11-8+8=$
$11-9=$	$18-4-5=$	$8+5=$	$10-4+6=$

二、在  填上合适的数。(6分)

$11 - \text{heart} = 5$


$12 - \text{heart} = 8$

$\text{heart} - 6 = 6$

$14 - \text{heart} = 5$

$\text{heart} + 8 = 17$

$15 - 6 = \text{heart}$

三、在  里填上“>”“<”或“=”。(4分)

$12 - 9 \text{ } \text{circle} \text{ } 4$

$13 - 9 \text{ } \text{circle} \text{ } 5$

$12 - 7 \text{ } \text{circle} \text{ } 13 - 8$

$10 + 2 \text{ } \text{circle} \text{ } 17 - 8$

四、里最大能填几?(6分)

$12 - \text{circle} > 5$

$8 + \text{circle} < 16$

$17 - \text{circle} > 8$


$7 + \text{circle} < 15$


$7 - \text{circle} < 7$

$7 + \text{circle} < 12$

五、猜猜小动物各是几?(每题2分,共6分)

1.  15 比我多7。()

2.  我比12少5。()

3.  8比我少6。()

六、按得数把算式的序号填在相应的方框里。(12分)





- ①13-6 ②15-9 ③14-9 ④14-7
⑤16-9 ⑥13-8 ⑦13-7 ⑧12-6
⑨12-5 ⑩11-6 ⑪14-8 ⑫12-7



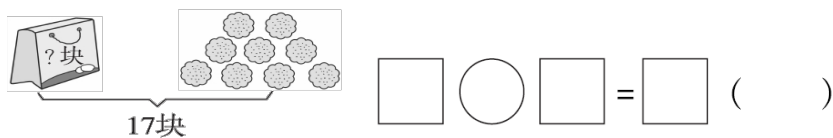
得数是 7

得数是 6

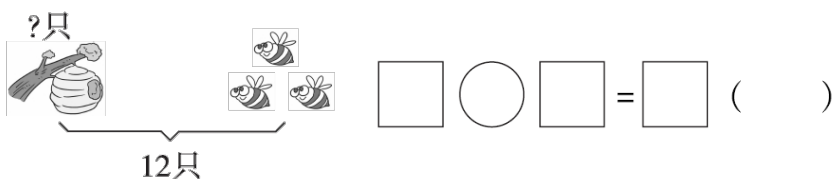
得数是 5

七、看图列式计算。(每题 3 分，共 9 分)

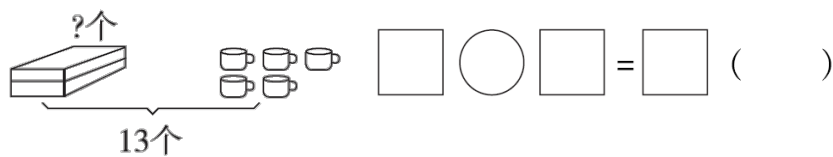
1.



2.

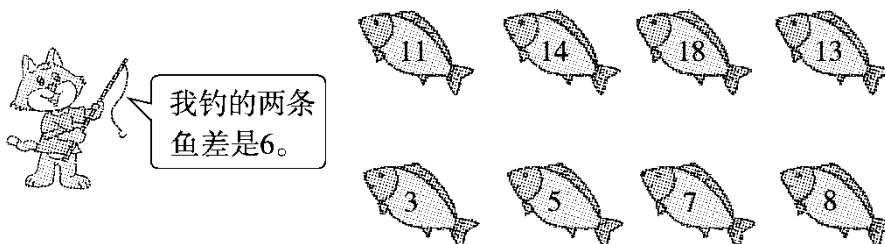


3.



八、连一连。(8 分)

小猫钓的可能是哪两条鱼？



九、完成表格。(9 分)




	卖出	还剩
12 台	5 台	() 台



十、解决问题。(4题 15分，其余每题3分，共24分)

1.

房子里原来有11只小猪，
跑出来3只小猪，还剩下
几只小猪？



$$\square \bigcirc \square = \square \quad (\quad)$$

2. 一共有12人。游泳池边上有多少人？



3.



我们两个一共捡了13片
树叶，其中有7片绿叶。

小明



我捡了8片
树叶。

小莹





小明捡了几片树叶？

$$\square \bigcirc \square = \square \quad (\quad)$$

4.



(1)小雪比小芳多买了多少瓶？

$$\square \bigcirc \square = \square \quad (\quad)$$

(2)小丽比小雪少买了多少瓶？

$$\square \bigcirc \square = \square \quad (\quad)$$

(3)请你提出一个数学问题并解答。

$$\square \bigcirc \square = \square \quad (\quad)$$





答案

一、7 8 14 2 17 14 15 9

5 8 8 13 15 18 11 12

二、6 4 12 9 9 9

三、< < = >

四、6 7 8 7 7 4

五、1.8 2.7 3.14

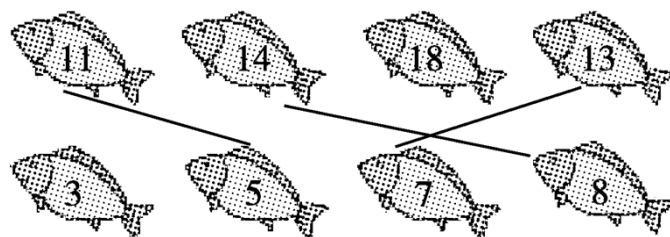
六、①④⑤⑨ ②⑦⑧□ ③⑥⑩□

七、1. $17-9=8$ (块)

2. $12-3=9$ (只)

3. $13-5=8$ (个)

八、



九、7 18 7

十、1. $11-3=8$ (只)

2. $12-6=6$ (人)

3. $13-8=5$ (片)

4. (1) $13-5=8$ (瓶) (2) $13-9=4$ (瓶) (3)略

