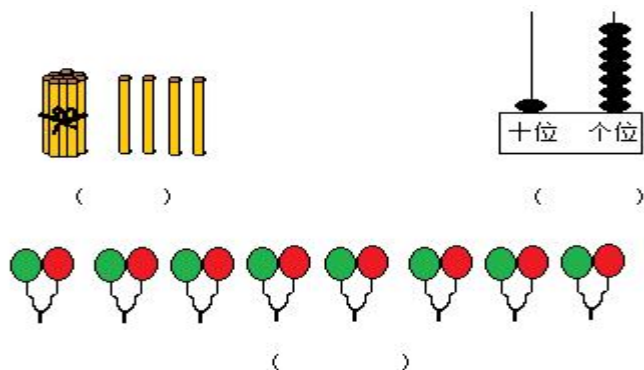


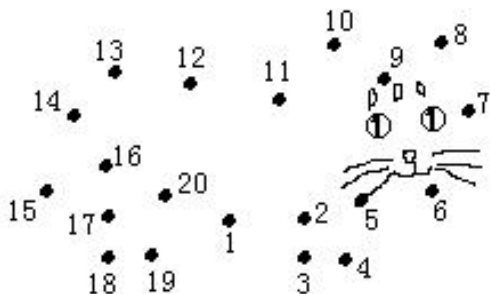


第四单元 达标测试卷

一、看图写数。



二、连一连，看看像什么？



三、想一想，填一填。

		11		13	
--	--	----	--	----	--

				12	10		
--	--	--	--	----	----	--	--

		9						
--	--	---	--	--	--	--	--	--

四、填空。

- 1个十和8个一合起来是()。
- 12里面有()个十和()个一。
- 十位上是1，个位上是9，这个数是()。
- 13的“3”在()位上，表示()个()；“1”在()位上，表示()个()。
- 两个加数都是10，和是()；被减数是18，减数是5，差是()





6、填表。

加数	3		5
加数	6	4	8
和		6	

被减数	10	16	
减数	2		15
差		6	4


五、在○里填上“>”、“<”或“=”

$13 \bigcirc 15$ $18 \bigcirc 16$ $9 \bigcirc 11$ $16 \bigcirc 16$ $15 \bigcirc 8$
 $13+6 \bigcirc 18$ $17-4 \bigcirc 12$ $15-5 \bigcirc 10$
 $20 \bigcirc 16+3$ $19-4 \bigcirc 13$ $15 \bigcirc 15+0$

六、在括号里填上适当的数。

$() + 5 = 13$ $() + 8 = 12$ $() + 4 = 11$ $() - 3 = 10$
 $6 + () = 17$ $() - 4 = 5$ $2 + () = 9$ $7 - () = 7$
 $() + 7 = 5 + 6$ $13 - 1 = 7 + ()$ $() + 6 = 9 + 5$
 $18 - 8 = 5 + ()$ $8 + () = 10 + 4$ $19 - 4 = 9 + ()$

七、看图写出两个加法算式和两个减法算式。



$\square \bigcirc \square = \square$
 $\square \bigcirc \square = \square$
 $\square \bigcirc \square = \square$
 $\square \bigcirc \square = \square$

$\square \bigcirc \square = \square$
 $\square \bigcirc \square = \square$
 $\square \bigcirc \square = \square$
 $\square \bigcirc \square = \square$





八、解决问题。

- 1、小明看一本书, 昨天看了 6 页, 今天看了 4 页, 明天应该从第几页看起?

$$\square \bigcirc \square \bigcirc \square = \square \text{ (页)}$$

口答: 明天该从第 () 页看起。

- 2、商店里 10 个红气球, 9 个黄气球, 今天卖了 6 个气球, 商店里还剩多少个气球?

$$\square \bigcirc \square \bigcirc \square = \square \text{ (个)}$$

口答: 商店里还剩 () 个气球。

- 3、猫妈妈钓了 13 条鱼, 比小猫多钓 10 条, 两只猫一共钓了多少条鱼?

$$\square \bigcirc \square \bigcirc \square = \square \text{ (条)}$$

口答: 两只猫一共钓了 () 条鱼。

- 4、小兔去地里拔萝卜, 第一天拔了 4 个, 第二天拔了 6 个, 地里还有 8 个萝卜, 小兔一共种了多少个萝卜?

$$\square \bigcirc \square \bigcirc \square = \square \text{ (个)}$$

口答: 小兔一共种了 () 个萝卜。

- 5、小华有 15 元钱, 他买笔记本用去 5 元, 买铅笔用去 2 元, 小华还剩多少元钱?

$$\square \bigcirc \square \bigcirc \square = \square \text{ (元)}$$

口答: 小华还剩 () 元钱。





附参考答案

一、看图写数。14, 17, 16

二、连一连。连线略, 猫

三、填数。9, 10, 12, 14; 20, 18, 16, 14, 8, 6; 7, 8, 10, 11, 12, 14, 15, 16,

四、填空。

1、18, 2、1, 2; 3、19, 4、个, 3个一, 十, 1个十; 5、20, 13;

6、10, 9, 13; 8, 10, 19

五、比大小。 $<$, $>$, $<$, $=$, $>$, $>$, $>$, $=$, $<$, $>$, $=$;

六、填数。8, 4, 7, 13, 11, 9, 7, 0, 4, 5, 8, 8, 6, 6

七、看图写算式。 $10+5=15$, $5+10=15$, $15-5=10$, $15-10=5$

$12+3=15$, $3+12=15$, $15-3=12$, $15-12=3$

八、解决问题。

1、 $6+4+1=11$ (页) 答: 明天应从 11 页看起。

2、 $10+9-6=13$ (个) 答: 商店里还剩 13 个气球。

3、 $13-10+13=16$ (条) 答: 一共钓了 16 条鱼。

4、 $4+6+8=18$ (个) 答: 小兔一共种了 18 个萝卜。

5、 $15-5-2=8$ (元) 答: 小华还剩 8 元钱。

