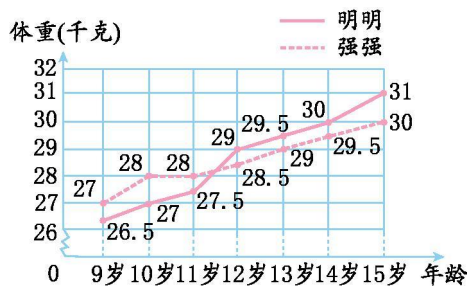




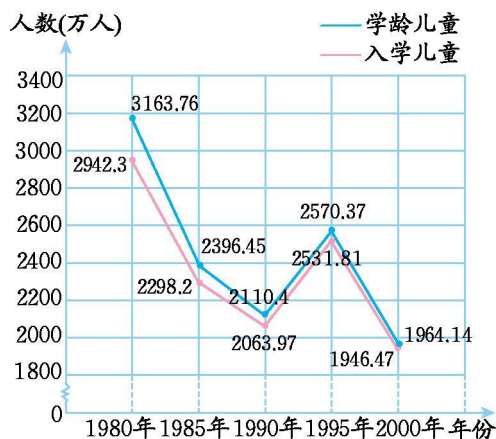
第九单元测试卷 (A)

一、下图是明明和强强 9—15 岁体重变化统计图。



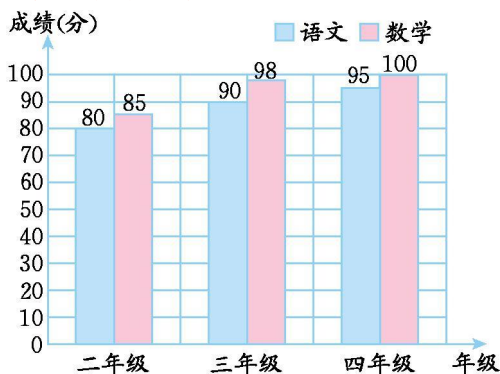
- 从()岁到()岁明明较重,从()岁到()岁强强较重。
- ()的体重增长幅度较小。

二、我国 1980—2000 年学龄儿童人数和入学儿童人数如下图所示。



- 学龄儿童最多的一年是()年,最少的一年是()年。
- 入学儿童最多的是()年,最少的是()年。

三、下面是小杰二至四年级期末成绩统计图。

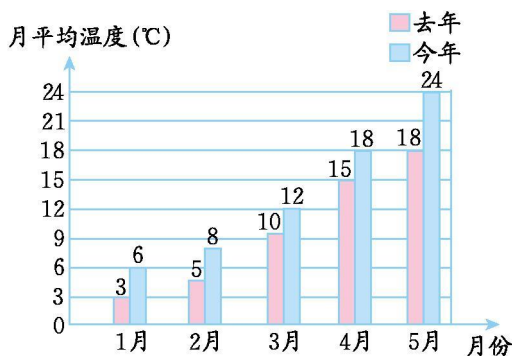


- 小杰二年级时语文和数学相差()分,三年级时相差()分。
- 针对这种现象,你想对小杰说什么?





四、下面是某地区去年和今年1—5月月平均气温统计图, 读图回答问题。



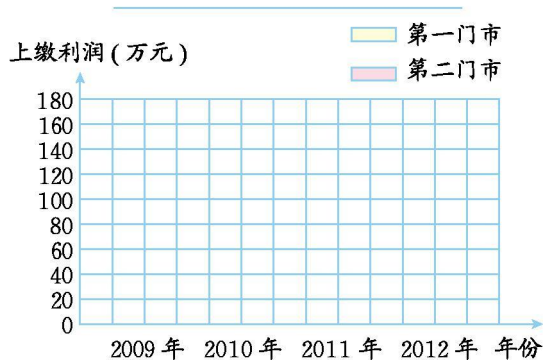
1. 5月份的月平均气温今年是去年的多少倍?

2. 2月份的月平均气温去年是今年的几分之几?

五、某电脑公司第一、第二门市部2009—2012年上缴利润情况如下表。

| 年份上缴利润(万元)门市部 | 2009年 | 2010年 | 2011年 | 2012年 |
|---------------|-------|-------|-------|-------|
| 第一门市部 | 30 | 42 | 70 | 110 |
| 第二门市部 | 40 | 45 | 90 | 155 |

根据表中数据, 完成下面的条形统计图。



根据上面统计图填空。

- 纵轴上每个单位长度表示()万元。
- ()年第一、第二门市部所缴利润相差最少。
- ()年第一、第二门市部所缴利润相差最多。
- 第一门市部()年所缴利润最多,()年所缴利润最少。



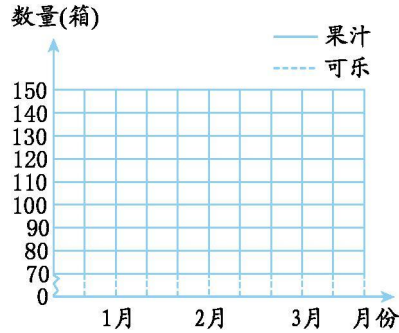


六、人民商场 1—3 月份果汁、可乐销售情况如下表。

| 数量 (箱) 类别 | 月份 | | |
|-----------------|-----|-----|-----|
| | 1月 | 2月 | 3月 |
| 果汁 | 120 | 130 | 150 |
| 可乐 | 90 | 80 | 75 |

1. 根据统计表绘制成复式折线统计图。

人民商场 1-3 月份果汁、可乐销售情况统计图



2. 1—3 月份果汁、可乐销售情况分别呈现什么趋势?

3. 如果你是商场的经理,你打算如何进货?





参考答案

一、1.12 15 9 11 2.强强+

二、1.1980 2000 2.1980 2000+

三、1.5 8 +

2.要合理分配学习时间,提高语文成绩。+

四、 $1.24 \div 18 = \frac{4}{3}$ $2.5 \div 8 = \frac{5}{8}$ +

五、画统计图略。+

1.20 2.2010 3.2012 4.2012 2009+

六、1.略 2.果汁呈现上升趋势,可乐呈现下降趋势。+

3.适当地多进一些果汁,少进一些可乐。+

