




## 第十一单元测试卷 (B)

一、下表是笑笑期末考试的成绩,根据表格回答问题。

科目	语文	数学	英语	科学	品德	音乐	美术	微机
成绩(分)	88	97	86	89	84	65	74	80

- 通过上面的表格可以看出,笑笑这次考试,成绩最好的科目是( ),成绩最差的科目是( )。
- 笑笑这次期末考试的总分是( )分。
- 学校规定,90~100分为优秀,75~89分为良好,60~74分为及格,59分及以下为不及格。那么笑笑这次考试优秀的科目有( )个,良好的科目有( )个,及格的科目有( )个,不及格的科目有( )个。

二、读下面的统计图,完成后面的问题。



- 从统计图中,可以看出参加( )小组的人数最多,参加( )小组的人数最少。2. 参加兴趣小组的一共有多少人?平均每个兴趣小组有几人?
- 从统计图中,你还能得到哪些信息?

三、小小统计员。

三(1)班同学最喜欢的电视节目类型,调查结果记录如下。

体育: 正 正 丅      动画片: 正  
科学探索: 正 丅      儿童剧: 正 正 正  
少儿歌曲: 丅      其他: 正

1. 完成下面的统计表。

节目类型	体育	动画片	科学探索	儿童剧	少儿歌曲	其他
人数(人)						

- 喜欢( )节目的人数最多,喜欢( )节目的人数最少。

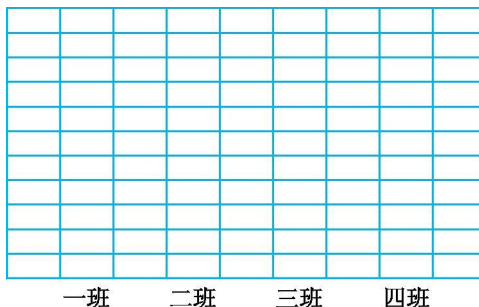




四、下面是某校三年级同学植树情况统计表。

班别	一班	二班	三班	四班
植树棵数(棵)	9	6	7	8

1. 根据上表中的信息涂一涂。



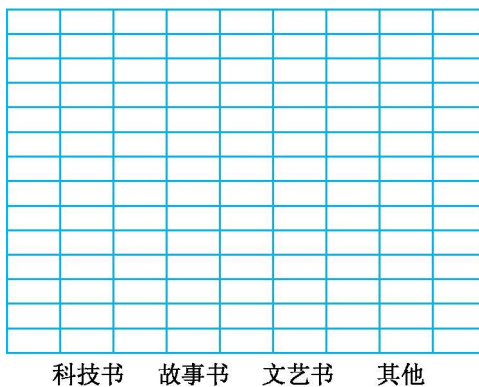
- 图中 1 小格表示( )棵树。
- 三年级( )班的同学植树最多,是( )棵;三年级( )班的同学植树最少,只植了( )棵。
- 该校三年级同学共植树( )棵。

五、小调查。

学校要给同学们购买一些新书,对同学们最喜欢看的课外书做了一些调查,结果如下表。

种类	科技书	故事书	文艺书	其他
人数(人)	7	14	8	6

1. 根据



- 喜欢( )的人数最多,喜欢( )的人数最少。
- 你认为怎样购买图书比较合理?





### 参考答案

一、1. 数学 音乐

2. 663

3. 1 5 2 0

二、1. 奥数 舞蹈

2.  $8+7+9+12+13+11=60(\text{人})$   $60\div 6=10(\text{人})$

答:参加兴趣小组的一共有 60 人,平均每个兴趣小组有 10 人。

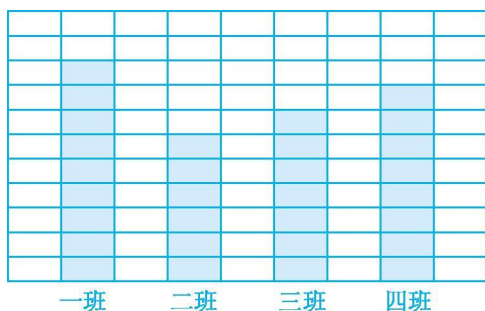
3. 答案不唯一,例如:航模小组比舞蹈小组多 1 人等。

三、1.

节目类型	体育	动画片	科学探索	儿童剧	少儿歌曲	其他
人数(人)	12	4	8	15	2	4

2. 儿童剧 少儿歌曲

四、1.

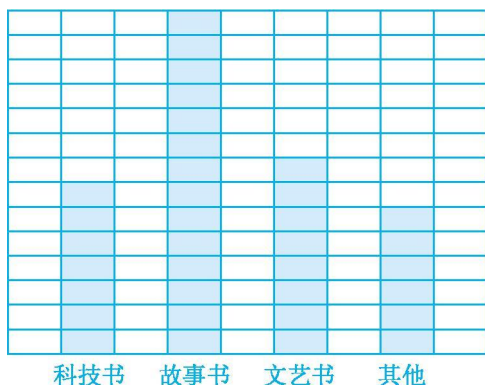


2. 1

3. 一 9 二 6

4. 30

五、1.



2. 故事书 其他类

3. 根据调查统计的结果,喜欢故事书的人数最多,在下次购置图书时多购置一些故事类的图书。

