



第四单元测试卷

一、填空题。

- 14 里面有()个十和()个一, 6 里面有()个一。
- 5 个一和 1 个十合起来是(), 2 个十是()。
- 在 14 和 18 这两个数中, ()接近 20, ()接近 15。
- 一个数, 比 15 大, 比 18 小, 这个数可能是()。

二、直接写出得数。

$10+5=$	$8+10=$	$9+10=$	$5+2+10=$
$10+7=$	$3+10=$	$19-8=$	$12+5-4=$
$12+7=$	$13+4=$	$12+7-5=$	$17-4-3=$

三、在○里填上“>”“<”或“=”。

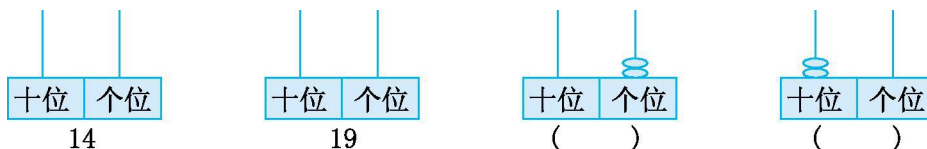
$12+5$ ○ 20	$19-3$ ○ $16+0$	$14+2$ ○ $16-0$	$16+3$ ○ $10+8$
$18-4$ ○ 13	$12+4$ ○ $17-1$	$13-2$ ○ $17-4$	$12+6$ ○ $10+8$

四、按要求做题。

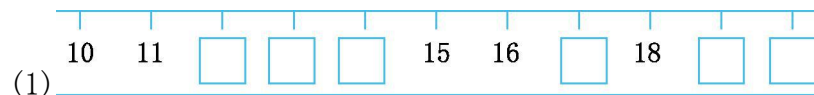
1. 哪个数最接近 10? 圈一圈。

3	7	12	18
---	---	----	----

2. 画一画, 填一填。



3. 找规律, 填一填。



五、按规律填数。

1. 10, (), (), 16, (), ()
2. 20, (), 18, (), (), 15 3. 0, 5, (), (), ()
4. 11, (), (), 17, 19


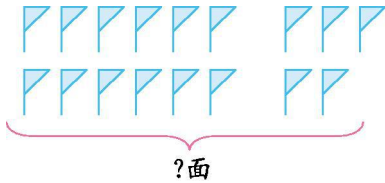




六、看图列式。



1. $\square + \square = \square$ $\square - \square = \square$



2. $\square \bigcirc \square = \square$


3. $\square \bigcirc \square = \square$

七、填表。

			
大班	8架	12台	6只
小班	10架	7台	11只
一共有	()架	()台	()只


八、解决问题。

1. 青蛙母子出去捉虫子，青蛙妈妈和青蛙宝宝一共捉了多少只虫子？



$\square \bigcirc \square = \square$

2. 一共来了 13 只蚂蚁，树叶后面有几只？



$\square \bigcirc \square = \square$





第四单元测试卷参考答案

一、1. 1 4 6 2. 15 20

3. 18 14 4. 16 或 17

二、15 18 19 17 17 13 11 13 19 17 14
10

三、< = = > > = < =

四、1. 12 圈图略

2. 2 20 画图略

3. (1) 12 13 14 17 19 20

(2) 14 13 12 14 12 10

五、1. 12 14 18 20

2. 19 17 16

3. 10 15 20

4. 13 15

六、1. $12+4=16$ $16-4=12$

2. $12+5=17$

3. $16-2=14$

七、18 19 17

八、1. $12+5=17$ 2. $13-3=10$

