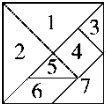





### 第一单元达标测试卷

一、我会填。(每空 1 分, 共 19 分)

1. 正方体有( )个面, 每个面都是( )形。

2.  一套七巧板一共有( )块, 其中( )号是正方形, ( )号是平行四边形。( )号和( )号一样大。

3. 数学书的封面是( ), 方桌的桌面是( )。

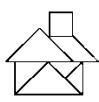
4.  的( )个面都是( ), 圆柱的上、下面都是( )。

5. 用两个完全相同的正方形可以拼成一个( ), 至少用( )个完全相同的正方形可以拼成一个大正方形。

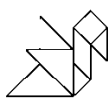
6. 看一看, 下面的图形分别像什么?



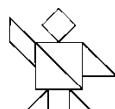
( )



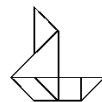
( )



( )




( )



( )

二、判断。(每题 1 分, 共 5 分)

1. 用 4 根小棒一定可以围成一个正方形。 ( )

2. 用两个完全一样的  只能拼成一个正方形。 ( )

3. 一个长方形对折后可能是长方形。 ( )

4. 一套七巧板有 5 个三角形, 1 个正方形, 1 个平行四边形。

( )

5. 平行四边形的四条边都相等。 ( )

三、连一连。(8 分)





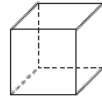
长方形

正方形

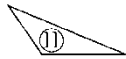
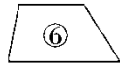
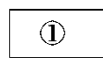
三角形

平行四边形

圆形



四、分一分。(把各种图形的序号填在括号里)(10分)




长方形 ( ) 正方形 ( )

三角形: ( ) 圆形: ( )

平行四边形: ( )。

五、数一数。(每空1分，共9分)

1.



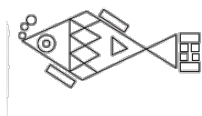
□ ( ) 个

□ ( ) 个

△ ( ) 个

○ ( ) 个

2.



□ ( ) 个

□ ( ) 个

△ ( ) 个


○ ( ) 个

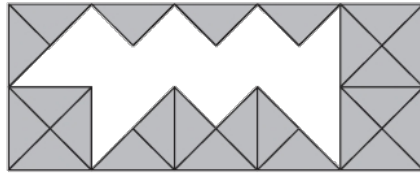
□ ( ) 个



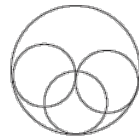



六、(3分)

这面墙缺了( )块 。



七、数一数，填一填。(8分)























有( )个  
三角形

有( )个  
长方形

有( )  
个圆形

有( )个  
正方形

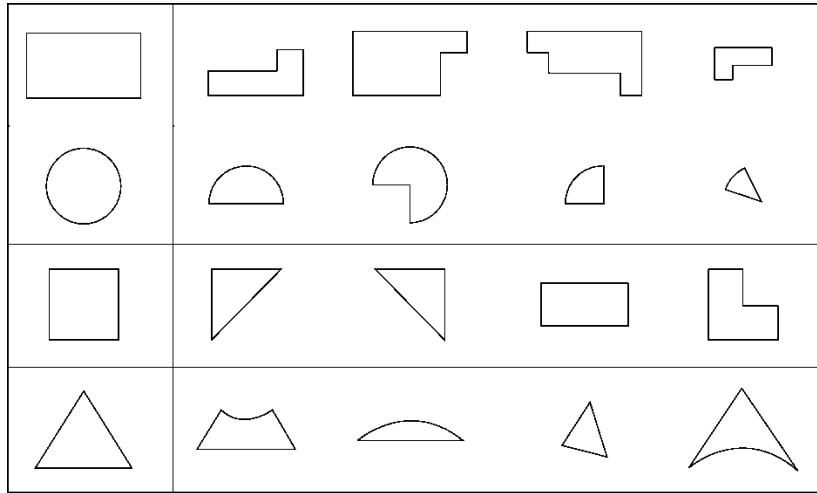
八、我会圈。用右边哪个物体可以画出左边的图形。(8分)

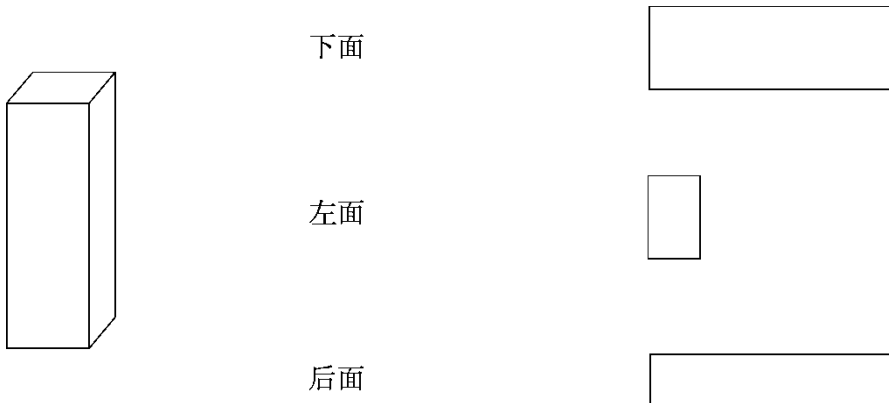
九、拼一拼，圈一圈，左边的图形可以由右边的哪两个图形拼成？

(8分)

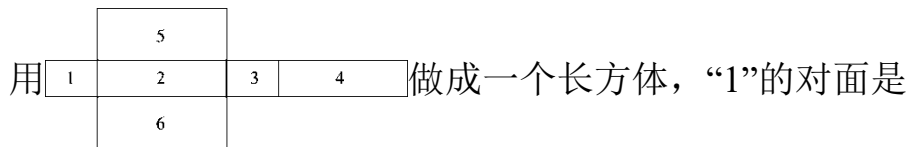




十、下图中右边的图形是这个长方体的哪个面？用线连起来。(6分)



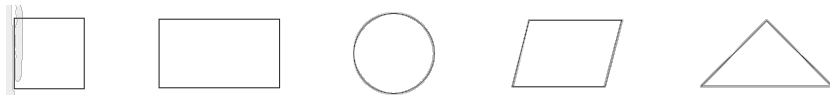
十一、找一找。(6分)



“( )”，“2”的对面是“( )”，“5”的对面是“( )”。

十二、按要求剪一剪。(用虚线表示)(10分)

把下面的图形剪成相同的两部分。



答案





一、1.6 正方

2.7 4 6 1 2 (最后两空答案不唯一)

3.长方形 正方形

4.6 长方形 圆形

5.长方形 4

6.鱼 房子 鸟 人 船

二、1.× [点拨]要用 4 根相同的小棒。

2.× [点拨]还可以拼成平行四边形或三角形。

3.√ 4.√

5.× [点拨]平行四边形的对边相等。

三、略

四、长方形：①⑫

正方形：⑤⑭

三角形：②⑪

圆形：③

平行四边形：⑧⑩

五、1.1 1 1 7

2.4 4 8 5 5

六、16

七、3 3 4 7

八、圈第 2 个 圈第 1 个 圈第 2 个 圈第 1 个

九、圈第一个和第三个

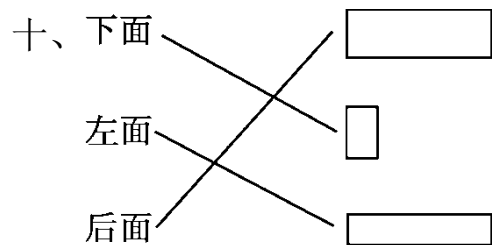




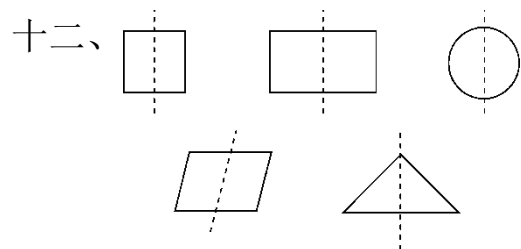
圈第二个和第三个

圈第一个和第二个

圈第二个和第四个



十一、3 4 6



[点拨]前四个图的答案不唯一。

