

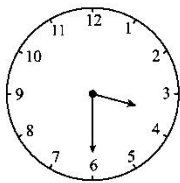


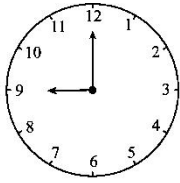
教材过关卷(2)

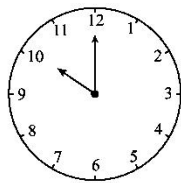
一、快乐填空。(每题 2 分，共 16 分)

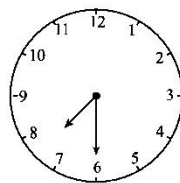
1. 钟面上有()个数字，()个大格。
2. 钟面上较短的针是()针，较长的针是()针。
3. 时针从一个数走到下一个数经过了()小时。
4. 分针指向 12，时针指向 6，是()时。
5. 分针指向 6，时针指向 4 和 5 之间，是()时 30 分。
6. ()时整时针和分针重合。
7. 一般情况下，CCTV-1 的《新闻联播》()结束。
8. 钟面上分针和时针都指着 12 是()时。

二、用两种方法表示下面的时间。(16 分)

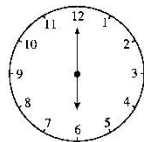
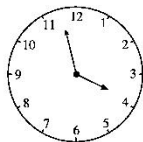
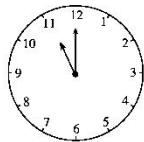








三、认一认，连一连。(12 分)



快12时了

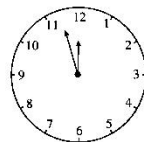
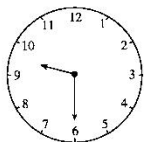
6时

10时刚过

11时

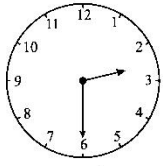
大约4时

9时半

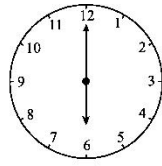




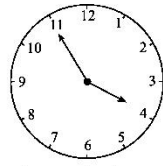
四、下面的时刻对吗？对的打“√”，错的打“×”，并改正过来。(20分)



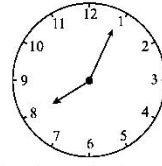
2:30()



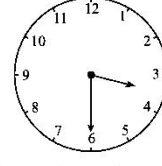
12:30()



3时刚过()



大约8时()



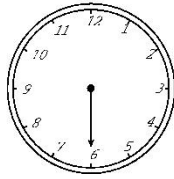
快4时了()

五、根据时间画时针或分针。(12分)


4时




9时半



快1时了



3时刚过



六、猜一猜小闹钟表示的时间，写在括号里。(8分)



我的时针指着5，
分针指着12。

()



我的时针指在12与1
之间，分针指着1。

()

我的时针指在3
与4的中间，分针
指着6。




()


我的时针指着6，
分针指着相反
的方向。

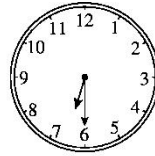



()

七、先写出钟面上的时刻，再写出2小时后的时刻。(16分)













答案

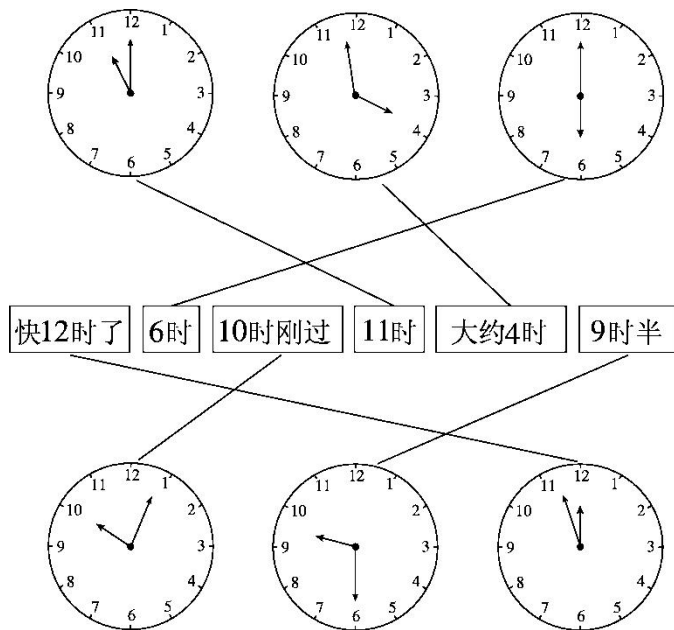
一、1.12 12 2.时 分 3.1 4.6 5.4

6.12 7.7: 30 8.12

二、3 时半 9 时 10 时 7 时半

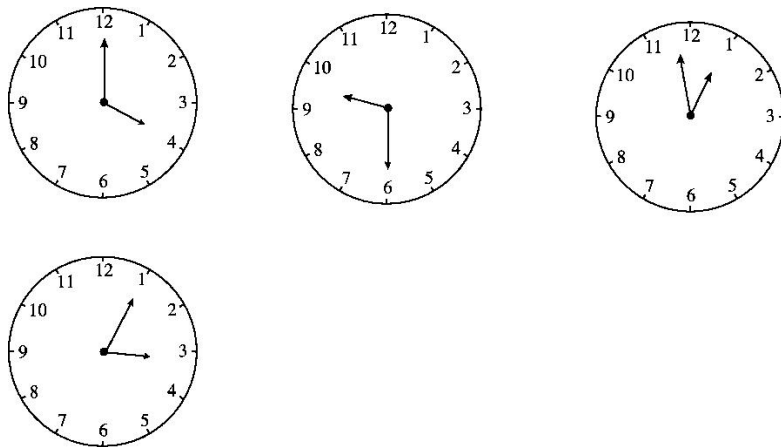
3: 30 9: 00 10: 00 7: 30

三、



四、√ ×(6: 00) ×(快 4 时了) √ ×(3: 30)

五、





第 3 个和第 4 个钟表画法不唯一。

六、5: 00 12 时刚过 3: 30 6: 00

七、钟面上的时刻: 10: 00 9: 00 6: 30 8: 30

2 小时后的时刻: 12: 00 11: 00 8: 30

10: 30

