

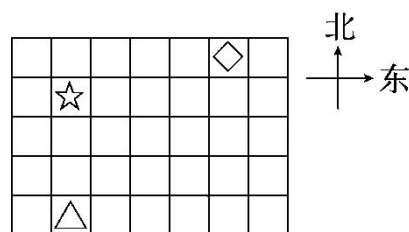
四、画一画。(9分)

每个图形最后跳到什么位置？请你画出来。

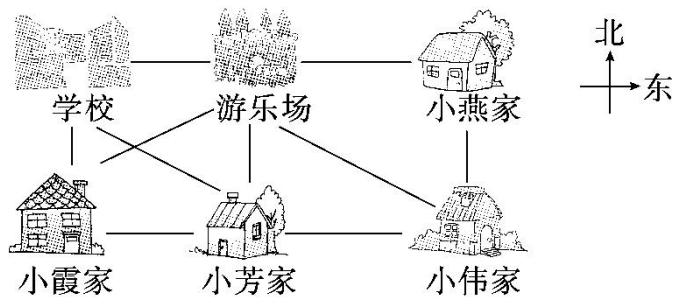
☆先向南跳1格，再向东跳2格；

△先向北跳3格，再向西跳1格；

◇先向西跳3格，再向南跳3格，最后向东跳2格。



五、判一判。(对的画“√”，错的画“×”)(每题2分，共8分)



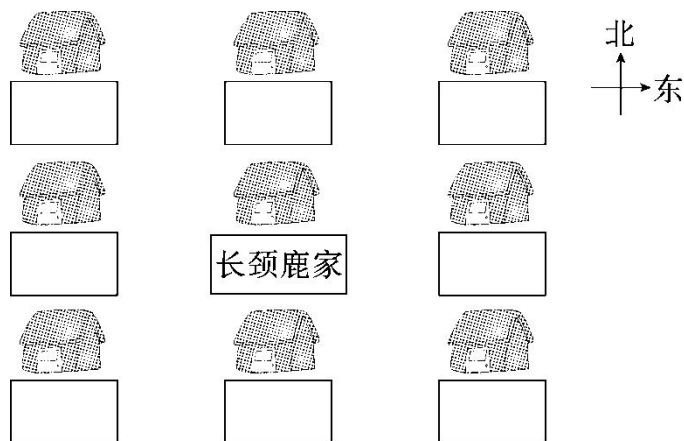
1. 游乐场在学校的东面。 ( )
2. 游乐场在小伟家的东北方向。 ( )
3. 游乐场在小霞家的东北方向。 ( )
4. 小芳家的东南方向是小燕家。 ( )

六、请帮小动物们找到自己的家。(每空2分，共16分)

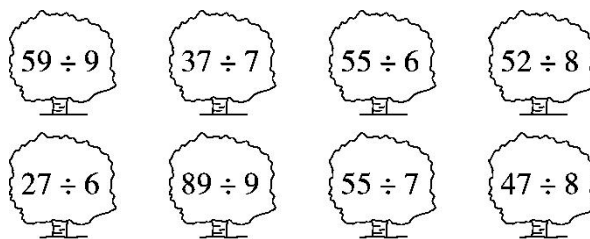




- 家在家的北面。
- 家在家的西面。
- 家的北面是家。
- 家在家的东面。
- 家在家的东北方向。
- 家的西面是家。
- 家的东南方向是家。
- 家的东北方向是家。



七、植树规划。(填算式)(每空 3 分，共 24 分)



按要求写算式：

余数是 1 的树在房子的西北方向；

余数是 2 的树在房子的东北方向；

余数是 3 的树在房子的北面；

余数是 4 的树在房子的东南方向；



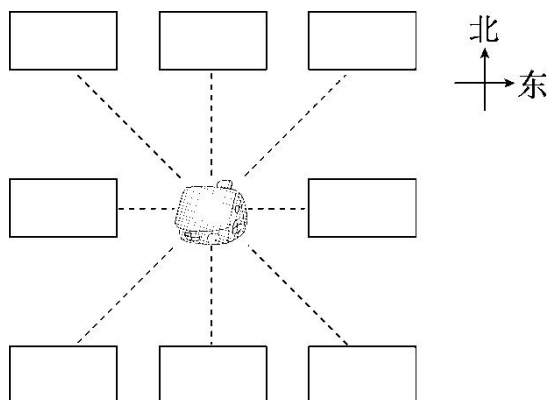


余数是 5 的树在房子的西南方向；

余数是 6 的树在房子的东面；

余数是 7 的树在房子的西面；

余数是 8 的树在房子的南面。





## 答案

一、1. 南 北 西北 东北 2. 南

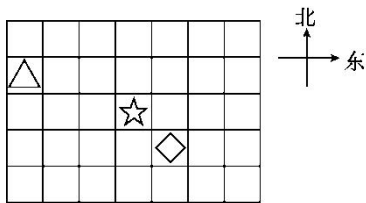
3. 东南 东北 4. 东 6

二、1. ② 2. ③ 3. ①

三、1. 西北 东北 2. 超市 书店 3. 西南 东南

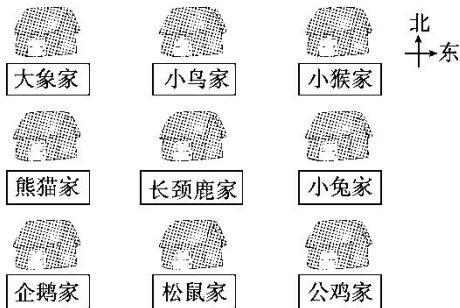
4. 西 西南

四、



五、1.  $\checkmark$  2.  $\times$  3.  $\checkmark$  4.  $\times$

六、



七、

