



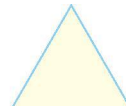
第二单元演练

一、直接写出得数。

$15+4=$ $18-9=$ $8+6=$ $15-7=$ $11-6=$
 $14-7=$ $12-8=$ $13-6=$ $14-9=$ $7+6=$

二、连一连。

1.



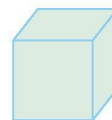

三角形

长方形

正方形

圆

2. 用下面的物体可以画出哪些图形? 连一连。





正方形

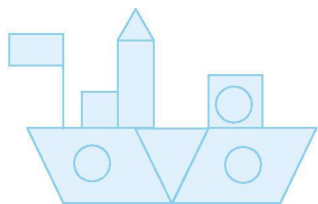
长方形

圆

三、数一数, 填一填。

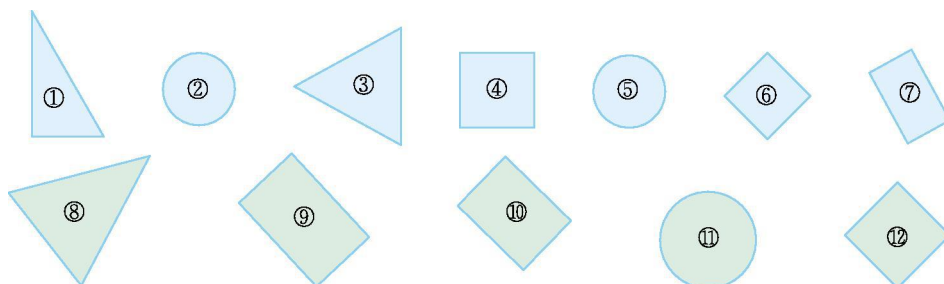
1.  中共有()个三角形。  中共有()个长方形。

2. 数一数。



长方形	正方形	三角形	圆

3. 辨一辨

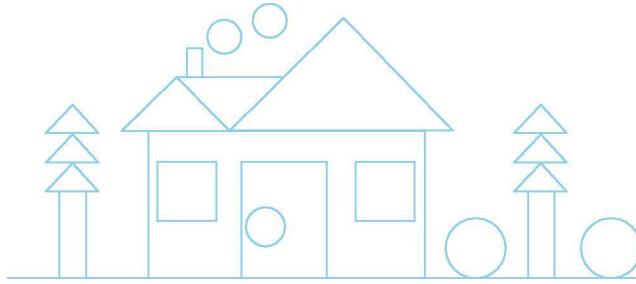


()是正方形,()是长方形,()是三角形,()是圆。



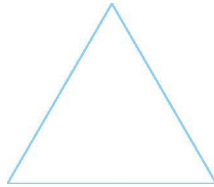


四、涂色。(○涂黄色,□涂红色,▣涂绿色,△涂蓝色)



五、分一分。


1. 画一笔把下面的三角形分成两个三角形。



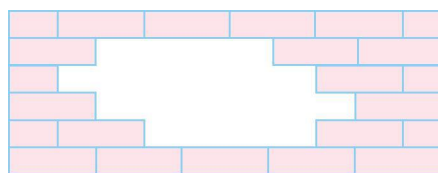
2. 把下面的长方形分成两个三角形,正方形分成四个三角形。




六、在方格图上画一个长方形、一个正方形和一个三角形。



七、动脑筋。



缺了 () 块  。





第二单元演练

一、19 9 14 8 5 7 4 7 5 13

二、略

三、1. 3 2

2. 2 2 2 3

3. ④、⑥、⑫ ⑦、⑨、⑩ ①、③、⑧ ②、⑤、⑪

四、略

五、略

六、略

七、10

