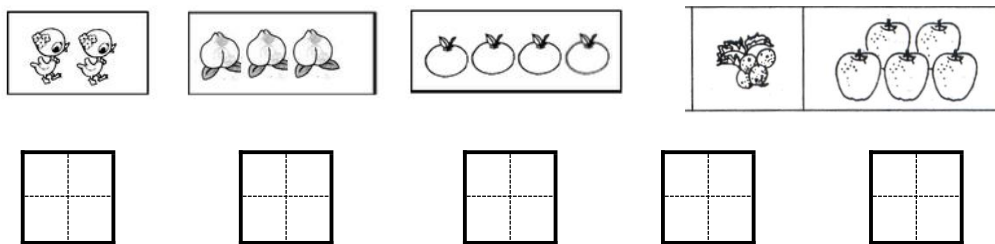




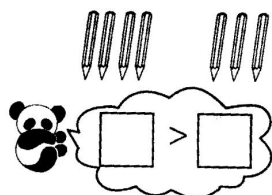
# 第一单元测试卷

一、看图写数。(5分)




二、数一数，比一比，填一填。(6分)


1、



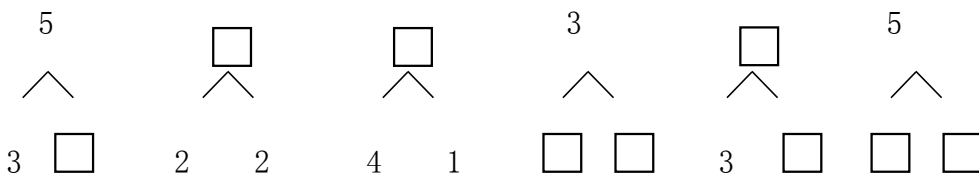
2、



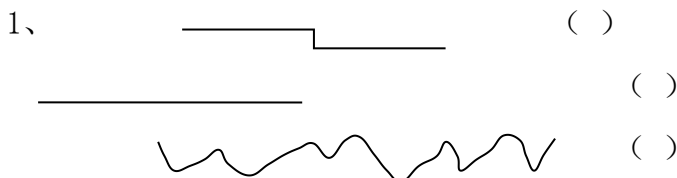
3、



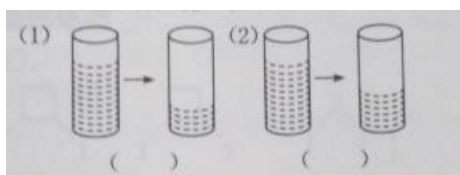
三、想一想，填一填。(6分)



四、在最长的后面画“√”。(12分)



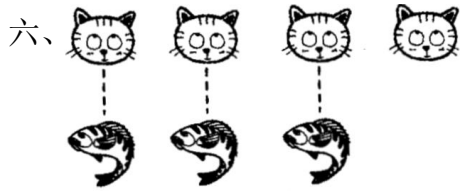
2、哪一杯水喝掉的部分多，在下面打“√”。



五、在○里填上“+”或“-”。(8分)

$4 \bigcirc 1 = 5$        $1 \bigcirc 3 = 4$        $5 \bigcirc 2 = 3$        $0 \bigcirc 1 = 1$   
 $2 \bigcirc 2 = 4$        $3 \bigcirc 2 = 1$        $3 \bigcirc 3 = 0$        $4 \bigcirc 1 = 3$





比 多( )，  
 比 少( )。

七、看谁算得又对又快!(20分)

1+2=  
 0+1=  
 3-0=  
 3-2=  
 5-4=

2+3=  
 2-1=  
 4+1=  
 4-1=  
 0+0=

4-2=  
 4-0=  
 1+1=  
 1-1=  
 4-4=

5-3=  
 5-1=  
 3-1=  
 3+1=  
 5-2=

八、看图列式计算。(24分)

(1)   
 $\square \bigcirc \square = \square$

(2)   
 $\square \bigcirc \square = \square$

(3)   
 $\square \bigcirc \square = \square$

(4)   
 $\square \bigcirc \square = \square$

(5)   
 $\square \bigcirc \square = \square$

(6)   
 $\square \bigcirc \square = \square$



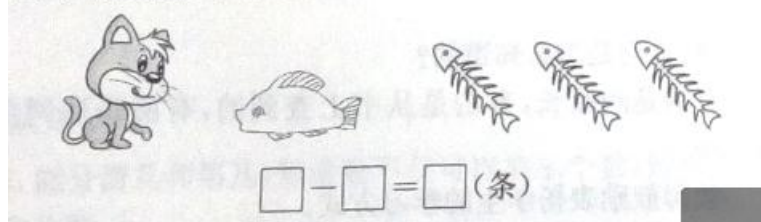


九、解决问题。(8分)



$$\square - \square = \square \text{ (只)}$$

(2) 小猫还剩多少条鱼?



十、把 0, 1, 2, 3, 4, 5 填在括号里，每个数只能用一次。(5分)

$$() + () = () + () = () + ()$$





参考答案：

一、 2 3 4 4 5

二、 1、4 3 2、4 5 3、3 3

三、 2 4 5 1 2 2 5 2 3

四、 略

五、 + + - + + - - -

六、 1 1

七、 3 5 2 2 1 1 4 4 3 5 2 2 1 3 0 4 1 0 0

3

八、 (1)  $4+1=5$

(2)  $2+3=5$

(3)  $4-1=3$

(4)  $5-1=4$

(5)  $2+2=4$

(6)  $5-4=1$

九、 (1)  $4-2=2$

十、 (2)  $4-3=1$

十、  $0+5=2+3=1+4$

