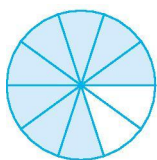




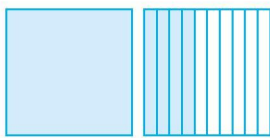
第七单元检测卷 2

一、我会填。

1. 在括号里填上合适的小数。



()



()



()

2. 写出下面的小数。

一棵树高七点八三米。()

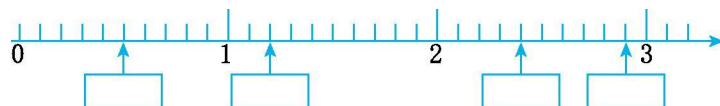
土星绕太阳转一周需要二十九点四六年。()

3. 在括号里填上适当的数。

10 元 5 角=()元 12 米 3 分米=()米

9 分米=()米

4. 在长方形框里写出合适的小数。



5. 在○里填上 “>” “<” 或 “=”。

3.1○2.9

52 元○5.2 元

0.9○1.0

32 厘米○3.2 米

8 角○0.8 元

3 元 5 角○2 元 8 角

6. 把下面各数按从小到大的顺序排列。

1.5 2.3 0.5 23.1 3.5 2.4

()

7. 在□里填上适当的数。

3.6<3.□

□.2>4.9

5□.8<55.8





8. 一根绳子长 10 米,用去 7.3 米,还剩下()米。
9. 按规律往下接着写:2.3,2.6,2.9,(),(),()。

二、我会判断。

1. 计算小数加、减法时,应该把各个数位上的数字对齐。 ()
2. 小数都比 1 小。 ()
3. 5.6 比 6 小 4。 ()
4. 比较小数的大小时,小数部分的数字越大,小数越大。 ()

三、我会选择。

1. 比 0.6 大,比 0.8 小的小数有()个。
- A. 1 B. 2 C. 无数
2. 4.65 读作()。
- A. 四点六十五 B. 四点六五 C. 四点六五
3. 0.5 米表示()。
- A. 5 米 B. 5 分米 C. 5 厘米
4. 下面的()在 8 和 9 之间。
- A. 5.7 B. 7.5 C. 8.5

四、我会计算。

1. 直接写出得数。

$0.5+1.3=$	$1-0.7=$	$8.9-5.2=$
$2.9-1.3=$	$0.2-0.2=$	$1.6-0.6=$





2. 列竖式计算。

$10.6 + 0.4 =$

$12 - 8.7 =$

$4.8 + 2.7 =$

五、解决问题。

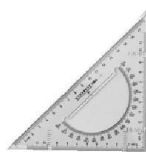
1. 长颈鹿妈妈身高 5.3 米,长颈鹿宝宝身高多少米?



2.



故事书 3.4 元



三角板 1.5 元



练习本 0.8 元



铅笔 0.5 元

(1) 最便宜的比最贵的便宜多少元?

(2) 丁丁拿 5 元钱可以买哪三样商品?





参考答案:

一、1. 0.8 1.4 5.6

2. 7.83 29.46

3. 10.5 12.3 0.9

4. 0.5 1.2 2.4 2.9

5. > > < < = >

6. $0.5 < 1.5 < 2.3 < 2.4 < 3.5 < 23.1$

7. (答案不唯一) 7 5 4

8. 2.7

9. 3.2 3.5 3.8

二、1. \checkmark 2. \times 3. \times 4. \times

三、1. C 2. C 3. B 4. C

四、1. 1.8 0.3 3.7 1.6 0 1

2. $10.6 + 0.4 = 11$

$$\begin{array}{r} 10.6 \\ + 0.4 \\ \hline 11.0 \end{array}$$

$12 - 8.7 = 3.3$

$$\begin{array}{r} 12.0 \\ - 8.7 \\ \hline 3.3 \end{array}$$

$4.8 + 2.7 = 7.5$

$$\begin{array}{r} 4.8 \\ + 2.7 \\ \hline 7.5 \end{array}$$

六、 $1.53 - 1.4 = 3.9$ (米)

答:长颈鹿宝宝身高 3.9 米。

2.(1) $3.4 - 0.5 = 2.9$ (元)

答:最便宜的比最贵的便宜 2.9 元。

(2)(答案不唯一) $1.5 + 0.8 + 0.5 = 2.8$ (元)

$2.8 < 5$ 答:可以买三角板、练习本、铅笔。

