



第四单元测试卷（二）

时间:60分钟 满分:100分 分数:_____

一、数一数，圈一圈。(12分)

1. 从右数第3个:

2. 从左数第4个:

3. 从右数第2个:

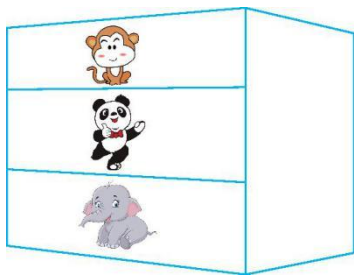
4. 从左数第5个:

二、按要求圈一圈。(8分)

从左边圈出2个。

从右边圈出3个。

三、看图填一填。(12分)



在 的 () 面。

在 的 () 面。


住在最 () 面。

住在最 () 面。





四、把正确的答案圈起来。(12分)



的(左、右)面是。

的(前、后)面是。

在的(上、下)面。


五 (12分)



1. 下楼的小朋友靠自己的()边走,上楼的小朋友靠自己的()边走。

2. 上楼、下楼和在路上行走我们都应靠自己的()边走。

六 (15分)



1. 从左数起小马排第(),从右数起小象排第()。







2. 小鹿的后边有()个小动物,前边有()个小动物,一共有()个小动物。

七 (20分)



1. 图中一共有()个小动物。

2. 从左数,  排第(), 从右数, 排第()。

3. 从左数,  排第(), 从右数, 排第2的是()。

4. 把左边的4个小动物圈起来。(7分)


5. 把从右数第5个小动物圈起来。(8分)

八、小敏家住在小英家楼下,小英家住在小兰家楼下,()家住在一楼,()家住在二楼,()家住在三楼。(9分)

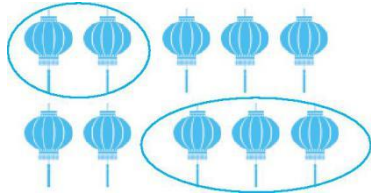




参考答案：



一、



二、

三、 在 的(上)面。

在 的(下)面。

住在最(上)面。

住在最(下)面。

四、 的(左、右)面是。

的(前、后)面是。

在 的(上、下)面。

五、1. 右 右 2. 右

六、1. 4 4 2. 5 2 8

七、1. 6 2. 4 3 3. 3 猴子

4. 5.

八、小敏 小英 小兰

