

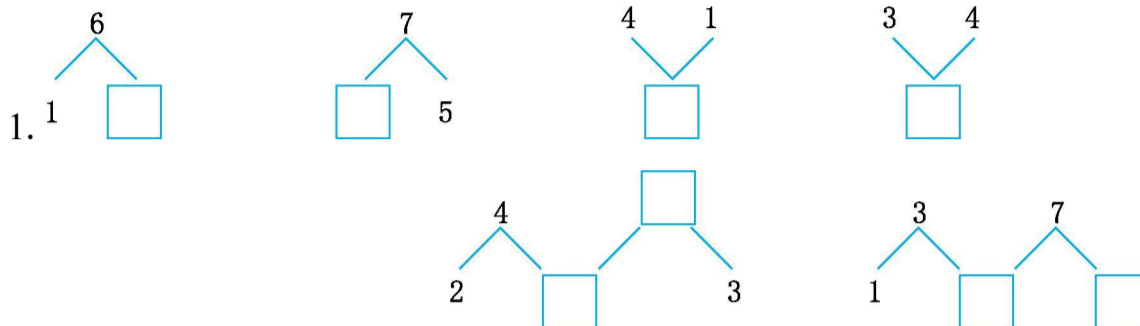


一年级期中检测卷(B)

班级： 姓名： 满分：100分 考试时间：90分钟

题序	第一题	第二题	第三题	第四题	第五题	第六题	第七题	总分
得分								

一、填一填。(17分)



(1)图中有()个 。

(2)从左边数,第()个是 ;从右边数,第()个是 。

3. 数一数,填一填。




(1)排球在第()层,从左数排第()。

(2)羽毛球拍排在第()层,从右数排第()。

(3)玩具小汽车在第()层,在排球的()边。

二、选一选。(把正确答案的序号填在括号里)(9分)

1.如右图,较长的是()。



A.a B.b

C.一样长

D.无法确定

2.较轻的是()。



A.

B.

C.一样重

D.没有正确答案

3.有一个数比3大,比5小,这个数是()。

A.1

B.2

C.4

D.6






三、比一比,画一画。(8分)

1. 画△,比□少2个。



2. 想办法,使○和▲同样多。



四、画一画,填一填。(9分)

1. ○ ○ ○ _____ $3 + \square = 8$

2. ○ ○ ○ ○ ○ _____ $5 + \square = 9$

3. ○ ○ ○ ○ ○ ○ ○ ○ _____ $\square + \square = 10$

五、算一算,填一填。(14分)

1.

$4 + 0 = \square$	$2 + 3 = \square$
$3 + 6 = \square$	$4 + 2 = \square$

$7 - 2 = \square$	$8 - 6 = \square$
$4 - 1 = \square$	$1 - 0 = \square$

2.

$5 + 2 + 3 =$	\square
$8 - 1 - 6 =$	\square
$6 + 4 - 7 =$	\square

$10 - 2 - 7 =$	\square
$4 + 2 + 3 =$	\square
$9 - 7 + 6 =$	\square

六、看图列式计算。(16分)


1.



$\square + \square = \square$

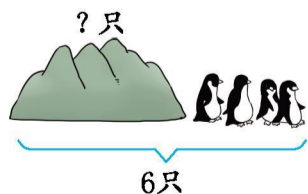
$\square - \square = \square$

2.




$\square \bigcirc \square = \square$

3.



$\square \bigcirc \square = \square$






4.

9只

$$\square \bigcirc \square \bigcirc \square = \square$$

七、解决问题。(27分)

1.





(1)有几个大人?有几个儿童?一共有多少人?(5分)

(2)儿童比大人多几人?(5分)

$$\square \bigcirc \square = \square$$

2.




(1)  和  一共有多少个?(5分)

$$\square \bigcirc \square = \square$$

(2)  比  少多少支?(5分)

$$\square \bigcirc \square = \square$$

3.



在这一排同学中,如果每隔3名男同学插入4名女同学,那么一共要插入多少名女同学?(7分)

$$\square \bigcirc \square = \square$$





参考答案

一、 1.5 2 5 7 2 5 2 5

2.(1)2

(2)3 5

3.(1)二 2

(2)三 3

(3)二 右

二、 1.B

2.B

3.C

三、 1.△△△△△△

2.000

四、 1.00000 5

2.0000 4

3.00 8 2

五、 1.4 5 9 6 5 2 3 1

2.10 1 3 1 9 8

六、 1.3+2=5 或 2+3=5 5-3=2 或 5-2=3

2.3+3=6

3.6-4=2

4.9-2-2=5

七、 1.(1)有 2 个大人,有 8 个儿童。

2+8=10 或 8+2=10

(2)8-2=6

2.(1)6+3=9 或 3+6=9

(2)7-2=5

3.4+4=8

