



期中检测卷

一、填一填。(每空 1 分, 共 18 分)

1. 数 100, 从右边起第一位是()位, 第二位是()位, 第三位是()位。

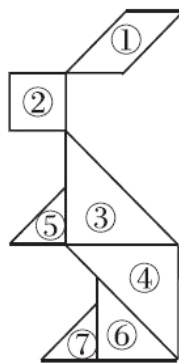
2. 由 5 个一和 3 个十组成的数是()。

3. 97 再添上()个一, 就是 100。

4. 与 59 相邻的两个数是()和()。

5. 15 比 8 大(), 7 比 16 少()。

6. 右图中()号是
平行四边形, ()号
和()号拼成了平行四边形。



7. 找规律填数。

(1) 50, 48, (), ()。

(2) 30, (), 50, (), 70。

(3) 15, 20, (), ()。

二、判一判。(对的画“√”, 错的画“×”)(每题 1 分, 共 5 分)

1. 一个三位数, 最高位是百位。()

2. 38 比 99 少得多。()

3. 96 的个位是 9, 十位是 6。()

4. 长方形的四条边都相等。()

5. 从不同的方向看球的形状是一样的。()





三、选一选。(把正确答案的序号填在括号里)(每题 2 分, 共 10 分)

1. 用四个 \triangle 不可能拼成下面的哪个图形? ()

- ①长方形 ②圆 ③三角形

2. 爷爷的年龄比小明()。

- ①大一些 ②差不多 ③大得多

3. 四条边都相等的图形是()。

- ①圆 ②长方形 ③正方形

4. 下列最接近 80 的数是()。

- ①79 ②70 ③90

5. 用 \diamond 表示 10, 用 \triangle 表示 1, 下面的图形表示的数比 30 小的是()。

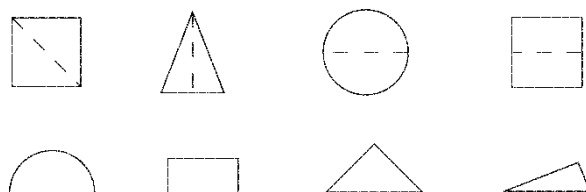
- ① $\triangle \triangle \diamond$
 $\diamond \diamond \triangle$
- ② $\diamond \diamond$
 $\triangle \triangle \diamond$
- ③ $\diamond \triangle \diamond$
 $\triangle \triangle$

四、连一连。(1 题 6 分, 2 题 8 分, 共 14 分)

1. 它们分别看到的是什么?



2. 按虚线折起来是什么样子?





五、直接写得数。(12分)

$12-5=$

$11-8=$

$7+5=$

$6+7=$

$13-4=$

$16-9=$

$15-7=$

$17-8=$

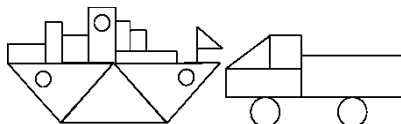
$5+8=$

$6+8=$

$8+8=$

$14-6=$

六、数一数，填一填。(每空2分，共8分)

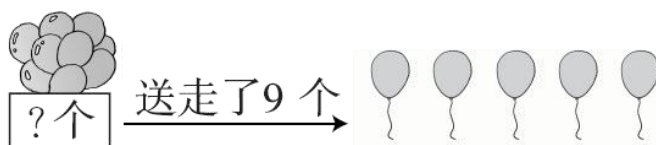


共有()个，○ 共有()个，

共有()个，△ 共有()个。

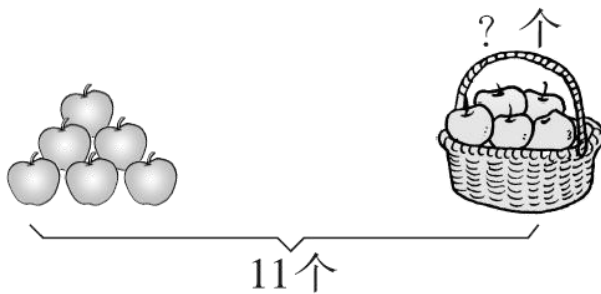
七、看图列式计算。(每题3分，共6分)

1.



$\square \bigcirc \square = \square \text{ (个)}$

2.



$\square \bigcirc \square = \square \text{ (个)}$

八、解决问题。(1题9分，4题8分，其余每题5分，共27分)

1. 回收废电池。





我收集了13节。

我收集的比丽丽少4节。

我收集的和丽丽差不多。

丽丽 乐乐 芳芳

(1)芳芳可能收集了多少节废电池？(在合适的答案下面画“√”)

11 节	32 节	8 节

(2)乐乐收集了多少节？

$$\square \bigcirc \square = \square \text{ (节)}$$

(3)芳芳和乐乐一共收集了多少节？

$$\square \bigcirc \square = \square \text{ (节)}$$

2. 小明还剩多少本书？

我原来有16本书。

我借走了7本。

小明 小红

$$\square \bigcirc \square = \square \text{ (本)}$$

3. 你能提出一个数学问题并解答吗？

我做对了15道题。

我做对了8道题。

小芳 小兰

4.

我跳的和你同样多，小猴跳的比我们俩的和少9下。

我跳了8下。

小熊 小兔

(1)小兔和小熊一共跳了多少下？





$$\square \bigcirc \square = \square \quad (\text{下})$$

(2)小猴跳了多少下?

$$\square \bigcirc \square = \square \quad (\text{下})$$





答案

一、1. 个 十 百 2. 35

3. 3 4. 58 60

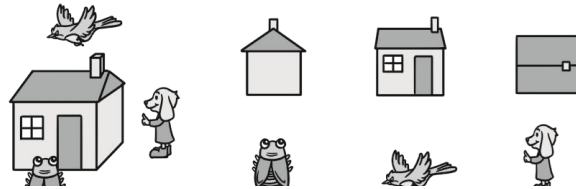
5. 7 9 6. ① ③ ④

7. (1) 46 44 (2) 40 60 (3) 25 30

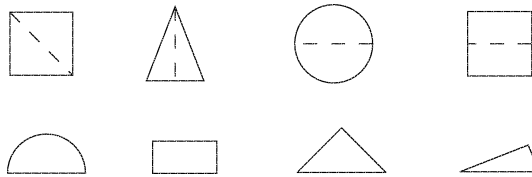
二、1. √ 2. √ 3. × 4. × 5. √

三、1. ② 2. ③ 3. ③ 4. ① 5. ③

四、1.



2.



五、7 3 12 13 9 7 8 9 13 14 16 8

六、8 5 2 5

七、1. $9+5=14$ 2. $11-6=5$

八、1. (1)

11 节	32 节	8 节
√		

(2) $13-4=9$

(3) $9+11=20$

2. $16-7=9$

3. (答案不唯一)小芳比小兰多做对几道题?





$15-8=7$ (道) 答：小芳比小兰多做对 7 道题。

4. (1) $8+8=16$ (2) $16-9=7$

