



















第一单元 达标测试卷

一、先数一数,再画“○”表示。







		
<input type="text"/>	<input type="text"/>	<input type="text"/>
		
<input type="text"/>	<input type="text"/>	<input type="text"/>

二、连一连。



				
				

三、比一比。

1. 长的画“ ”, 短的画“○”。

	<input type="checkbox"/>		<input type="checkbox"/>		<input type="checkbox"/>
	<input type="checkbox"/>		<input type="checkbox"/>		<input type="checkbox"/>


2. 在少的后面画“ ”。

	<input type="checkbox"/>
	<input type="checkbox"/>



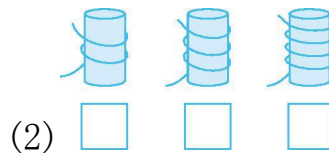
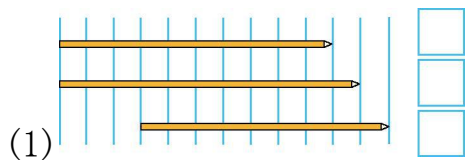


3. 高的画“ ”, 矮的画“○”。



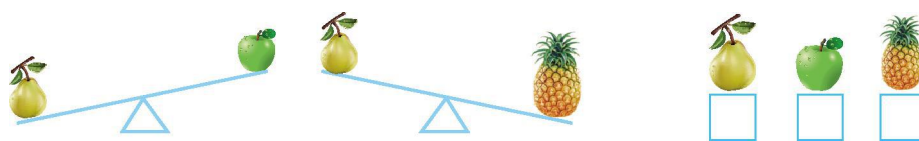
四、按要求完成下面各题。

1. 最长的画“ ”, 最短的画“△”

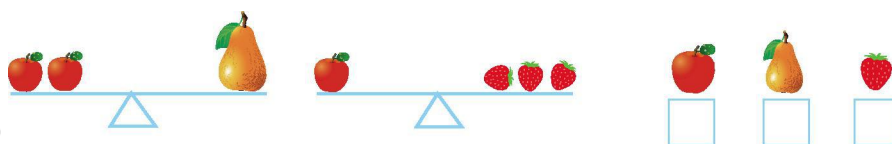


2. 最重的画“ ”, 最轻的画“△”。

(1)



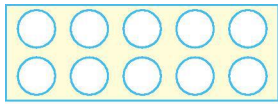
(2)



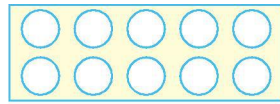


五、涂一涂, 画一画

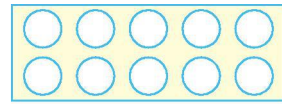
1. 按照图下面的数, 在“○”里涂上你喜欢的颜色。



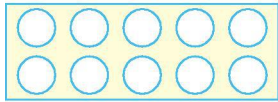
4



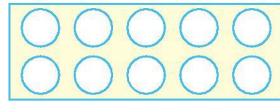
6



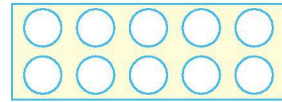
3



8




10



7

2. 画一画。

(1) 画○, 与△同样多。



(2) 画△, 与圆柱同样多。





单元测试卷参考答案

一、提示:分别画 4 个 8 个 6 个 7 个 10 个 5 个

二、数量分别是 3、4、1、5、2, 连线略

三、略

四、略

五、1. 略

2. (1) 提示:画 5 个○。 (2) 画 9 个△。

